

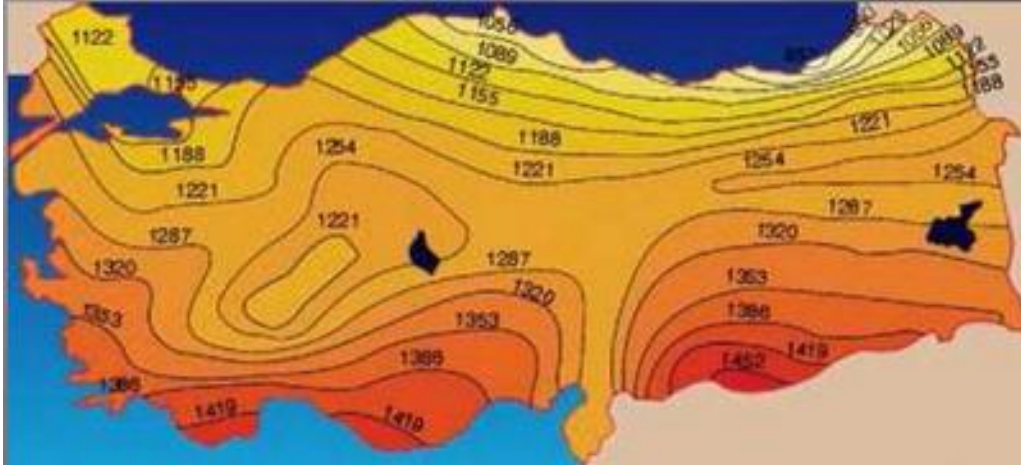
TÜRKİYE İKLİM VE BITKİ ÖRTÜSÜ SORULARI - 2-

1.

Akdeniz Bölgesi'nde yaz mevsiminin sıcak ve kurak geçmesi, aşağıdakilerden hangisinde etkili değildir?

- A) Orman yangınlarının artmasında
- B) Tarımda sulamaya gereksinim duyulmasında
- C) Seracılığın gelişmesinde
- D) Deniz turizmine elverişli sürenin uzun olmasında
- E) Susam ve yer fıstığı üretilmesinde

2006 Orta Öğrenim Kamu Personel Seçme Sınavı



2.

Marmara Bölgesi'nde görülen iklim çeşitliliğinin aşağıdakilerden hangisi üzerinde en az etkili olduğu söylenebilir?

- A) Endüstri kuruluşları
- B) Doğal bitki örtüsü
- C) Deniz turizmine elverişli süre
- D) Yetiştirilen tarım ürünleri
- E) Toprak türleri

2006 Ön Lisans Kamu Personel Seçme Sınavı

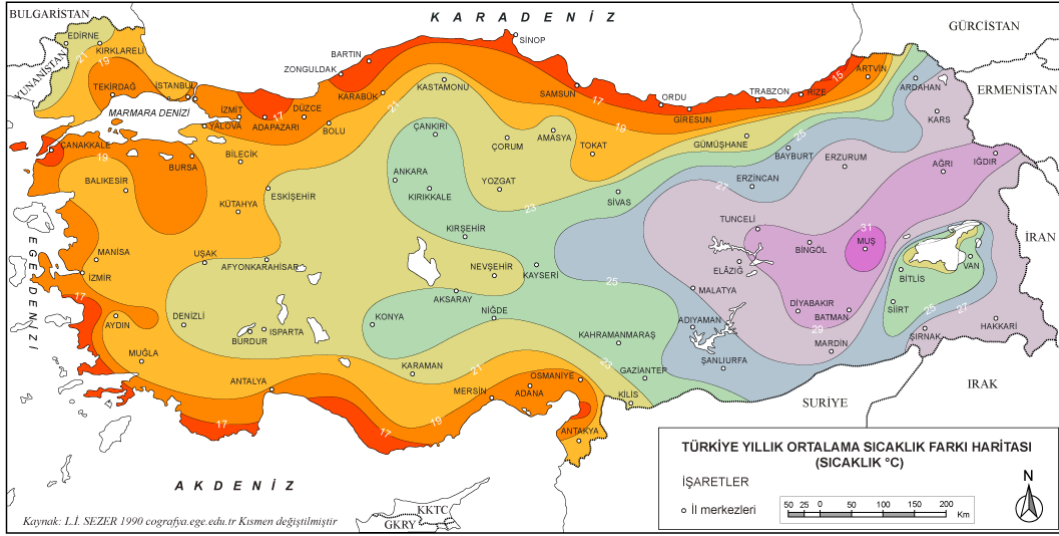


3.

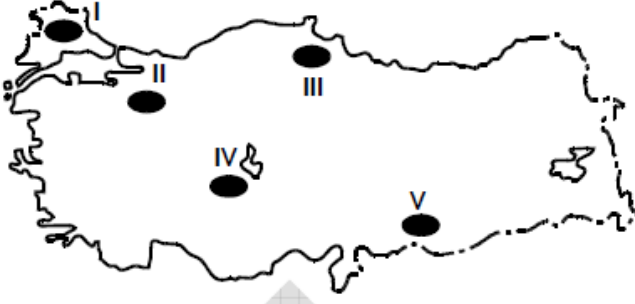
Aşağıdaki merkezlerin hangisinde gerçek sıcaklık ile indirgenmiş sıcaklık arasındaki fark diğerlerinden daha fazladır?

- A) Edirne B) Samsun C) Sivas
D) Kars E) Adana

2006 Ön Lisans Kamu Personel Seçme Sınavı



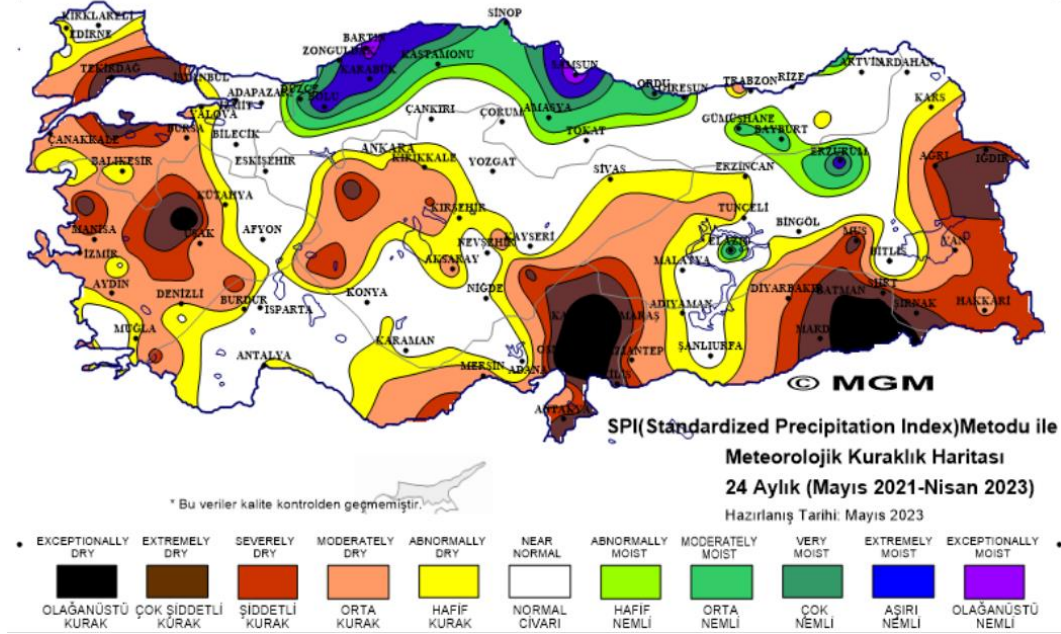
4.



İklim koşulları göz önüne alındığında, yukarıdaki haritada numaralarla gösterilen tarım alanlarının hangilerinde, sulamaya diğerlerinden daha fazla gereksinim duyulması beklenir?

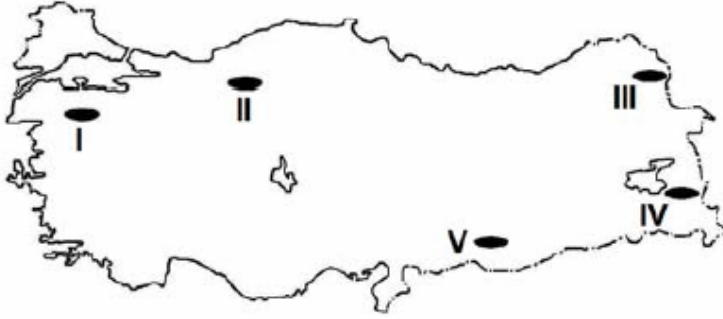
- A) I ve II B) II ve III C) II ve V
D) III ve IV E) IV ve V

2006 Ön Lisans Kamu Personel Seçme Sınavı



5.

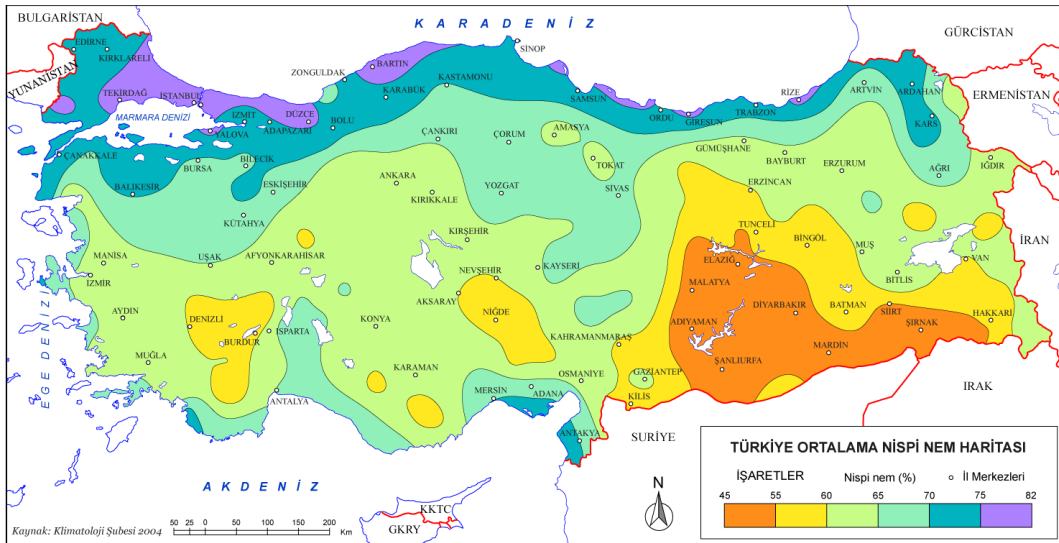
Bağıl nem sıcaklıkla ters orantılı, yükseltiyle doğru orantılı olarak artar.



Buna göre, haritada numaralarla gösterilen yerlerin hangisinde yaz mevsiminde bağıl nemin en az olduğu söylenebilir?

- A) I B) II C) III D) IV E) V

2007 Lisans Kamu Personel Seçme Sınavı



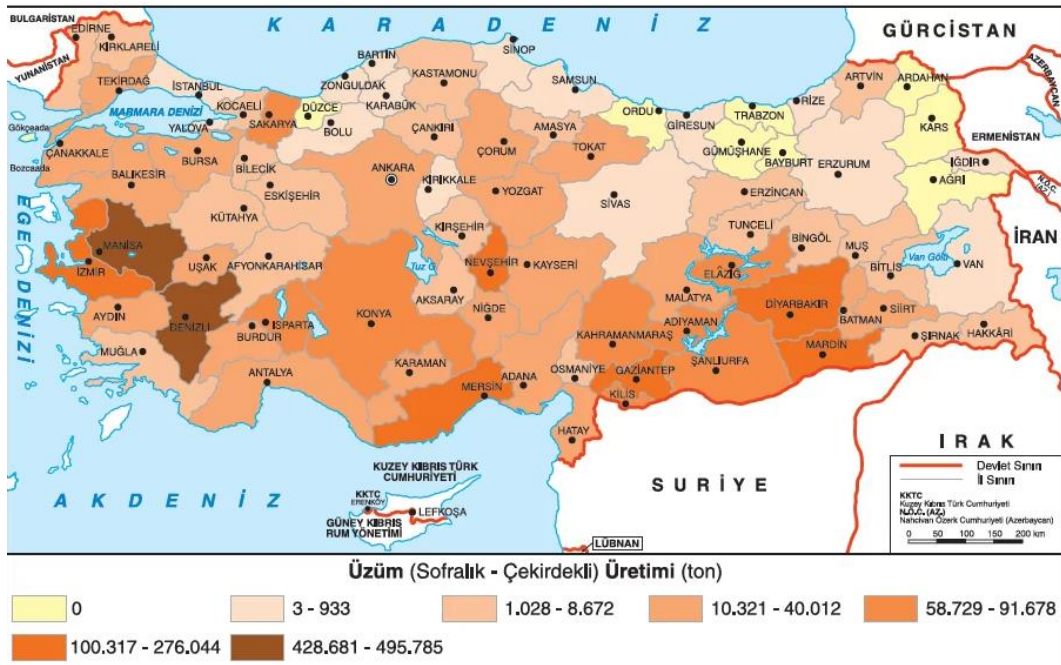
6.

Bir ürünün herhangi bir yerde üretilmesi her zaman mümkün olsa bile, o üründen ekonomik değer taşıyacak ölçüde yüksek verim alınması iklim koşullarına bağlıdır.

Buna göre, aşağıdaki illerin hangisinde yetiştirilen üzümde verimlilik ekonomik değer taşıyacak ölçüde değildir?

- A) Nevşehir B) İzmir C) Denizli
D) Tekirdağ E) Artvin

2007 Lisans Kamu Personel Seçme Sınavı



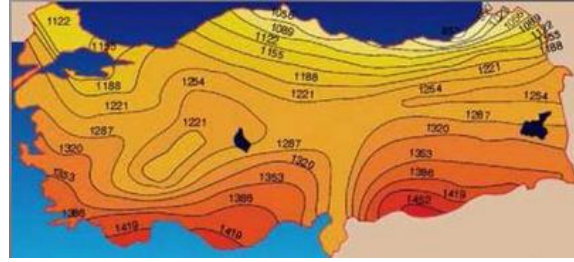
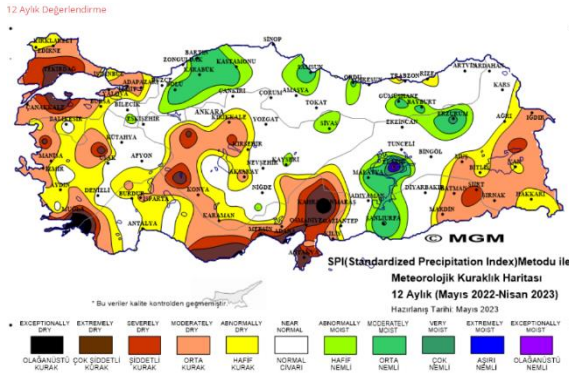
7.

- I. Petrol
- II. Jeotermal
- III. Taş kömürü
- IV. Akarsu
- V. Güneş

Türkiye’de yukarıdaki kaynakların hangilerinden sağlanan enerji miktarı iklim koşullarına bağlı olarak değişir?

- A) I ve II B) II ve III C) II ve IV
D) III ve V E) IV ve V

2007 Lisans Kamu Personel Seçme Sınavı



8.

İklim özellikleri göz önüne alındığında, aşağıdaki ovalardan hangisinde, tarımsal ürün çeşidinin diğerlerinden daha az olması beklenir?

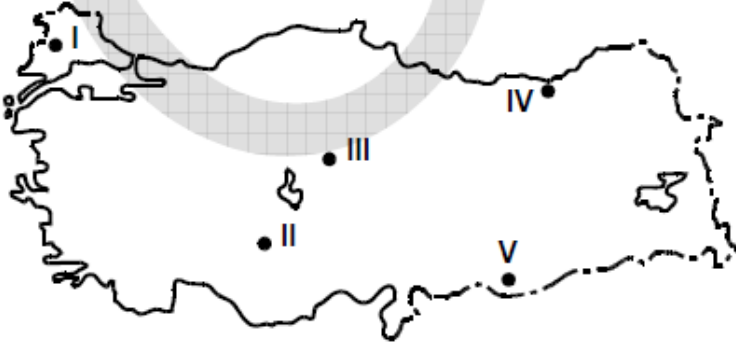
- A) Gediz B) Bursa C) Konya
D) Çarşamba E) Çukurova

2008 Lisans Kamu Personel Seçme Sınavı



9.

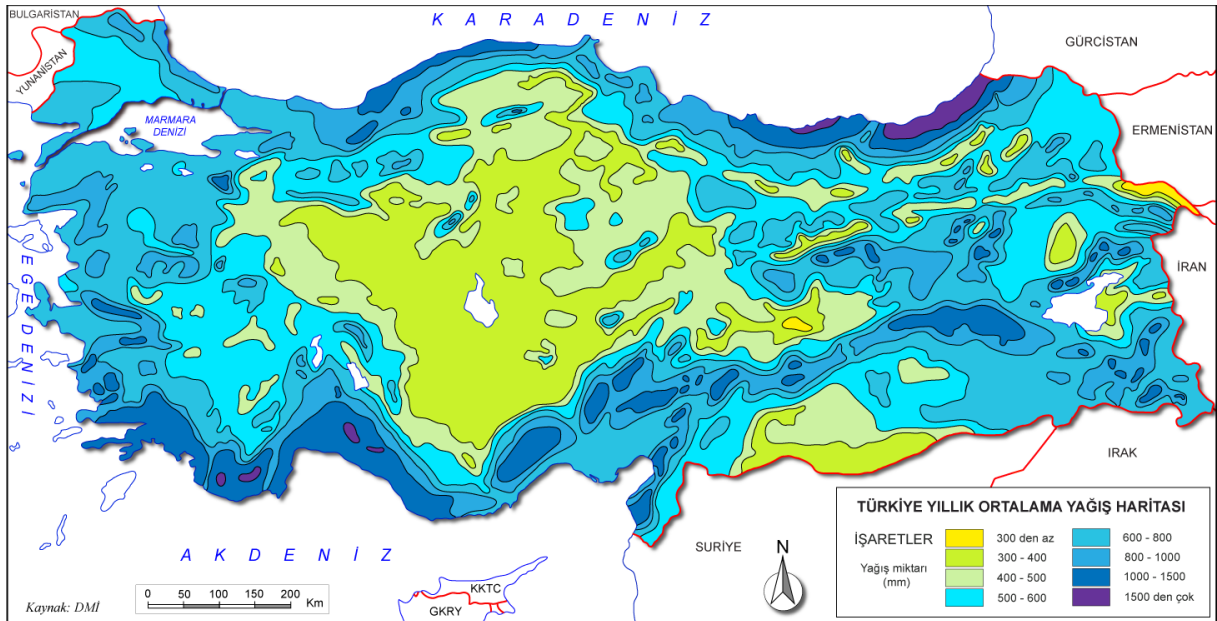
Türkiye'de koyun, kısa boylu otluk alanların bulunduğu düzlüklerde yaygın olarak yetiştirilir.



Buna göre, yukarıdaki haritada numaralarla gösterilen yerlerin hangisi koyun yetiştirilmesi için daha az elverişlidir?

- A) I B) II C) III D) IV E) V

2008 Lisans Kamu Personel Seçme Sınavı

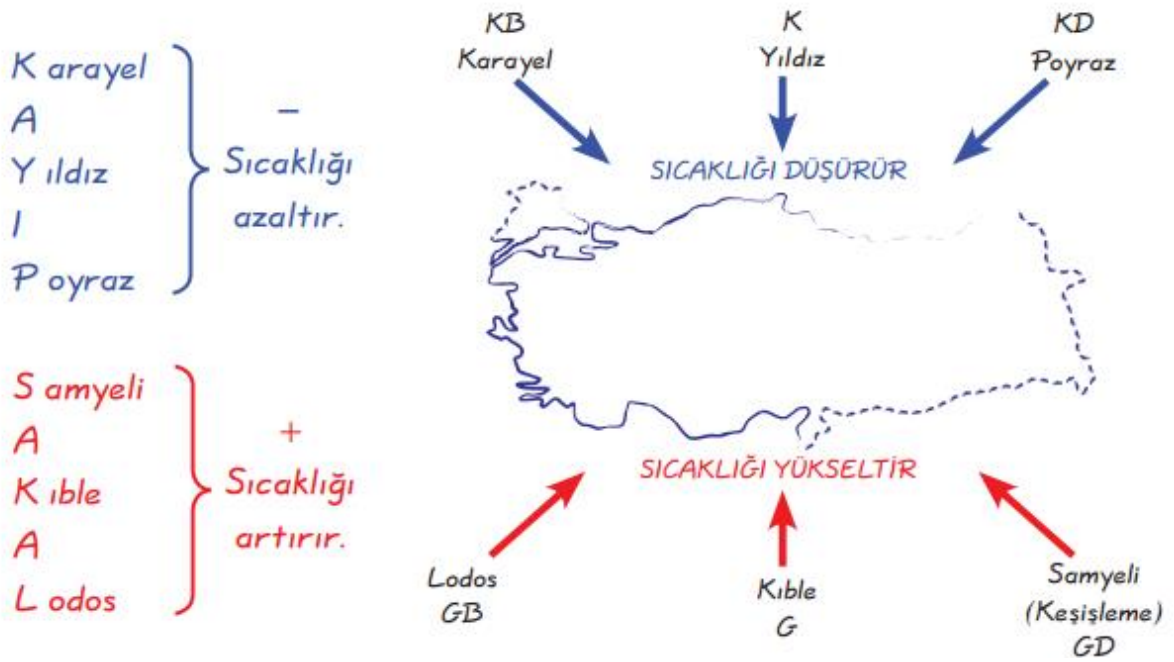


10.

Türkiye’de etkin olan yerel rüzgârlardan hangisinin esiş yönü yanlış verilmiştir?

<u>Rüzgâr adı</u>	<u>Esiş yönü</u>
A) Poyraz	Kuzeydoğu
B) Keşişleme	Güneydoğu
C) Yıldız	Kuzey
D) Karayel	Kuzeybatı
E) Lodos	Batı

2008 Orta Öğrenim Kamu Personel Seçme Sınavı



11.

Türkiye'nin coğrafi bölgelerinde kar yağışının ve karın yerde kalma süresinin farklı olmasında,

- I. deniz etkisi,
- II. yükselti,
- III. boylam,
- IV. bitki örtüsü

etmenlerinden hangilerinin etkisi vardır?

- A) I ve II B) I ve III C) II ve III
D) II ve IV E) III ve IV

2008 Orta Öğrenim Kamu Personel Seçme Sınavı



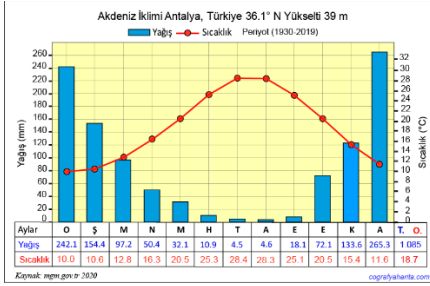
12.

- I. Mersin
- II. Sivas
- III. Muğla
- IV. Sinop

Kışın serin ve yağışlı, yazın sıcak ve kurak iklim isteyen bir tarım ürünü, yukarıdaki illerin hangilerinde **daha kolay** yetiştirilebilir?

- A) I ve II B) I ve III C) II ve III
D) II ve IV E) III ve IV

2008 Orta Öğretim Kamu Personel Seçme Sınavı

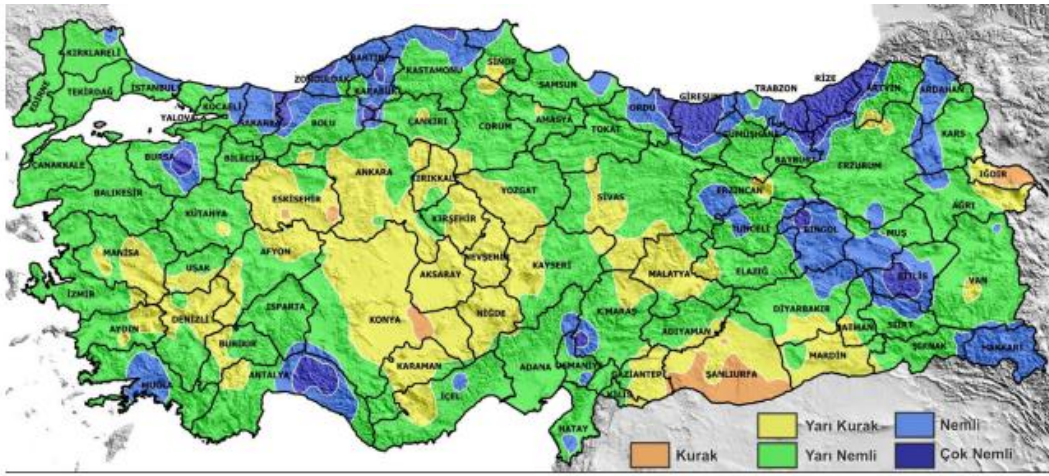


13.

Türkiye’de çeşitli nedenlerle tahrip edilen orman örtüsünün kendini yenilemesi en kolay olan bölge aşağıdakilerden hangisidir?

- A) Akdeniz
B) Güneydoğu Anadolu
C) İç Anadolu
D) Karadeniz
E) Ege

2008 Orta Öğrenim Kamu Personel Seçme Sınavı



Ek: Eriş yağış etkinlik indeksinin il sınırlarına göre alansal dağılışı
Appendix: Spatial distribution of Eriş precipitation efficiency index

14.

Devlet Meteoroloji İşleri Genel Müdürlüğünden "İstanbul'da yarın kuvvetli kara yel ve şiddetli kar yağışı beklenmektedir." uyarısı yapılmıştır.

Bu uyarının,

- I. İstanbul'da kuzey sektörlü rüzgârların egemen olması,
- II. kış mevsiminin yaşanması,
- III. kuzeybatı yönünden gelen bir hava kütlesi olması

verilerinden hangilerine dayanarak yapılmış olması beklenir?

- A) Yalnız I B) Yalnız II C) I ve II
D) I ve III E) II ve III

2010 Lisans Kamu Personel Seçme Sınavı



15.

Aşağıdakilerden hangisi, Türkiye’de ekolojik dengeyi bozan etkenlerden biri değildir?

- A) Tarımda göl sularının aşırı kullanılması
- B) Birçok hayvan türünün bilinçsiz avlanması
- C) Kentlerin hızlı ve plansız büyümesi
- D) Yer altı sularının kontrolsüz bir şekilde çekilmesi
- E) Akarsu ağzlarındaki deltaların genişlemesi

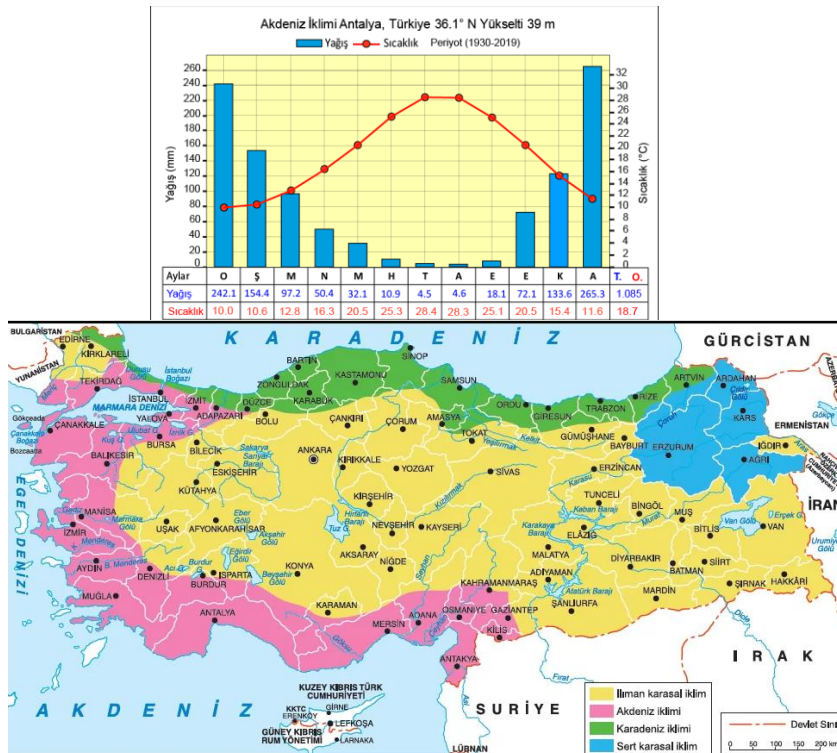
2010 Lisans Kamu Personel Seçme Sınavı

16.

Yıllık sıcaklık ortalamasının yüksek olduğu yerlerde yetişen, meyve verme döneminde yüksek sıcaklık ve kuraklık isteyen, soğuğa ve don olayına çok duyarlı olan bir bitkinin aşağıdaki yerlerden hangisinde yetiştirilmesi daha kolaydır?

- A) Ergani
- B) İskenderun
- C) Amasra
- D) Tatvan
- E) Gemlik

2010 Ön Lisans Kamu Personel Seçme Sınavı



17.

Aşağıdaki tarım ürünlerinden hangisinin Türkiye'deki yetişme alanını sınırlandıran etmen diğerlerinden farklıdır?

- A) Haşhaş B) Turunçgiller C) Buğday
D) Kivi E) Mercimek

2010 Orta Öğrenim Kamu Personel Seçme Sınavı

Tarım ürünü	Yetişmesine en engel olan faktör	Yetişme alanları
Pirinç	Sıtma	Edirne
Kenevir	Uyuşturucu	Kastamonu
Haşhaş	Uyuşturucu	Afyon
Çay	Kalite	Rize
Şeker pancarı	Kalite	Her yerde vardı. Şimdi özellikle Konya
Tütün	Kalite	İzmir-Manisa-Aydın-Samsun-Bitlis

18.

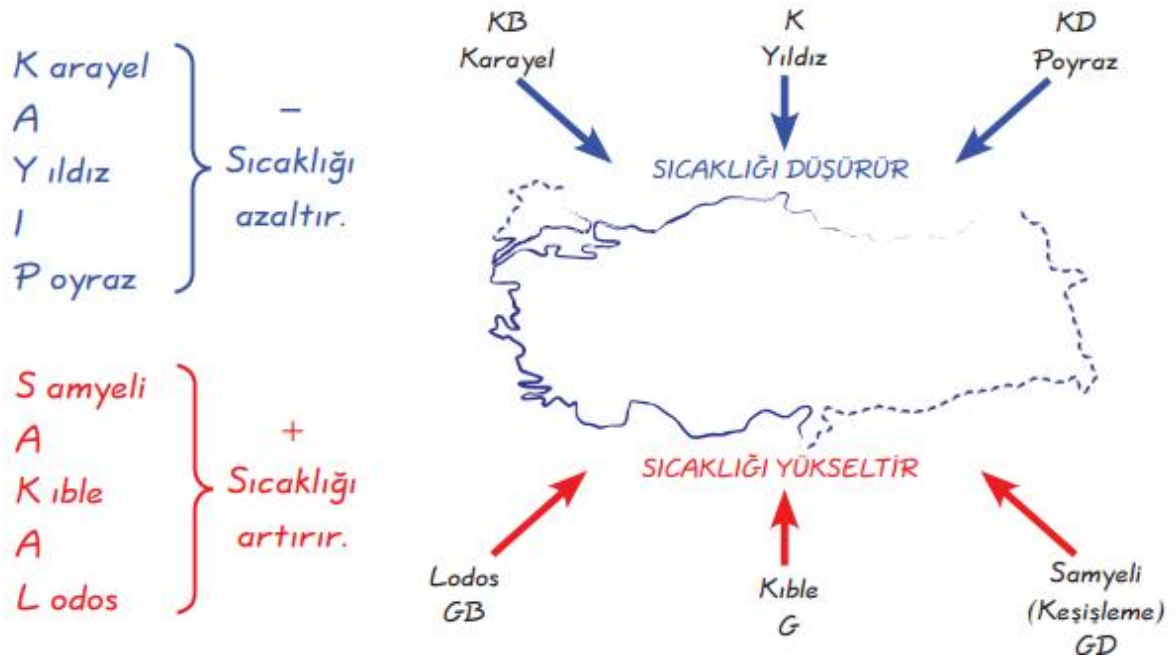
Televizyonda hava durumunu aktaran sunucu, Türkiye kıyılarında rüzgârın karayel ve poyrazdan saatte 50-60 kilometre hızla estiğini söylemiştir.



Buna göre, haritada numaralanmış rüzgârlardan hangisinin esiş yönü yanlış verilmiştir?

- A) I B) II C) III D) IV E) V

2011 Lisans Kamu Personel Seçme Sınavı



19.

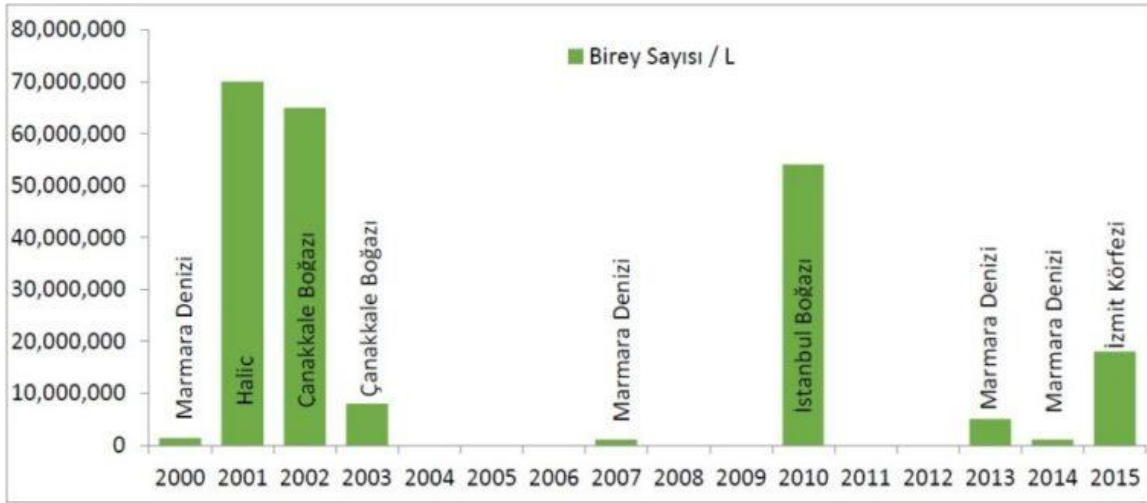
Endüstrileşme ve teknolojik gelişmelerin ortaya çıkardığı çevre sorunlarından biri de hava kirliliğidir.



Buna göre, haritada numaralarla gösterilen liman kentlerinin hangisinde endüstrileşmeye bağlı olarak hava kirliliğinin daha fazla olması beklenir?

- A) I B) II C) III D) IV E) V

2011 Lisans Kamu Personel Seçme Sınavı



Plankton patlaması ya da musilaj deniz kirlenmesinin en somut kanıtıdır. Türkiye’de plankton patlaması yaşanan yerler yukarıdaki grafikte verilmiştir.

- I. Gece ve gündüz süresine
- II. Yarımada özelliğine
- III. Yer şekillerinin çeşitliliğine
- IV. Orta kuşakta bulunmasına

Türkiye'nin farklı yörelerinde değişik yönlerden esen meltem rüzgârlarının görülmesi, yukarıdakilerden hangilerine bağlanabilir?

- A) I ve II B) I ve III C) II ve III
D) II ve IV E) III ve IV

2012 Lisans Kamu Personel Seçme Sınavı

