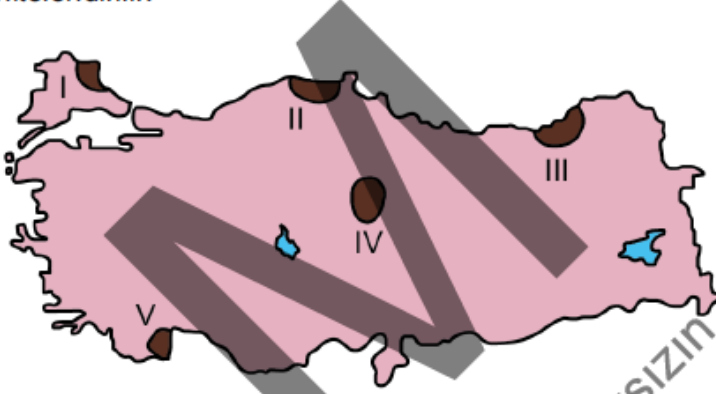


## KAMU PERSONEL SINAVLARINDA SORULMUŐ

### TÜRKİYE'NİN İKLİM VE BİTKİ ÖRTÜSÜ SORULARI - I

41.

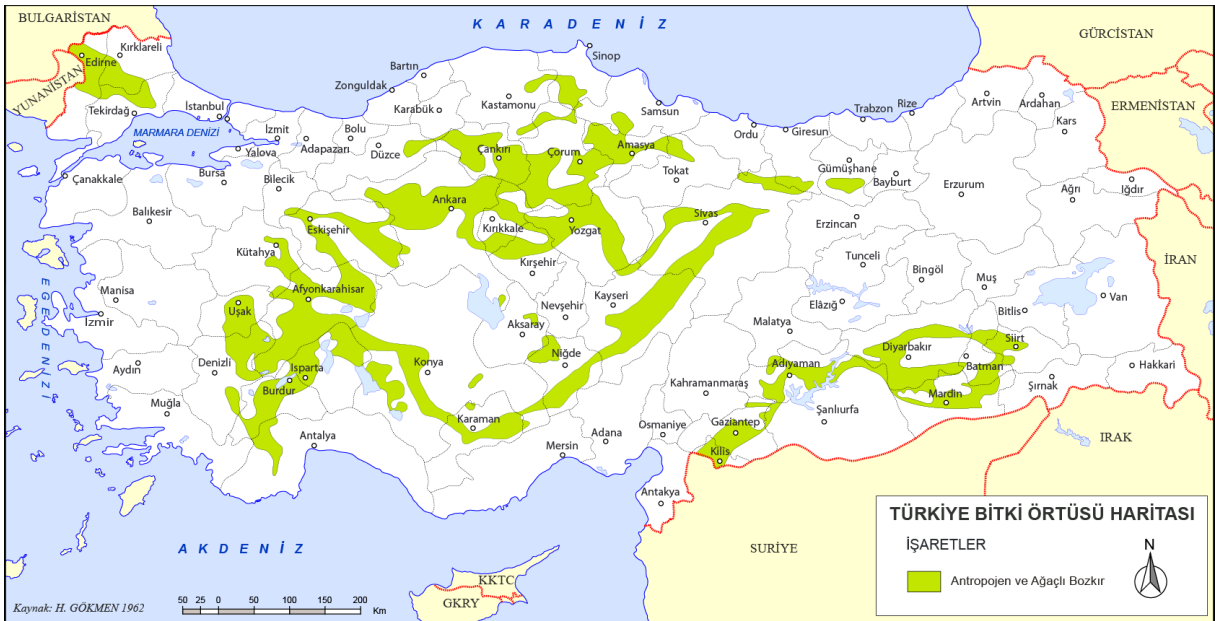
Dođal koőullara bađlı olarak oluőan ve yenilenen orman alanları dođal, insan etkisiyle oluőan ve yenilenen orman alanları ise antropojen orman alanları olarak nitelendirilir.



Buna göre, yukarıdaki haritada numaralandırılarak koyu renkle gösterilen yerlerin hangisinde antropojen orman alanları daha geniş yer tutar?

- A) I B) II C) III D) IV E) V

2018 Orta Öđretim Kamu Personel Seęme Sınavı



42.

**Aşağıdaki ağaç türlerinden hangisi Türkiye ormanları içerisinde daha sınırlı bir yayılım gösterir?**

- A) Kızılcım B) Sığla C) Karaçam  
D) Meşe E) Sarıçam

2019 Orta Öğretim Kamu Personel Seçme Sınavı



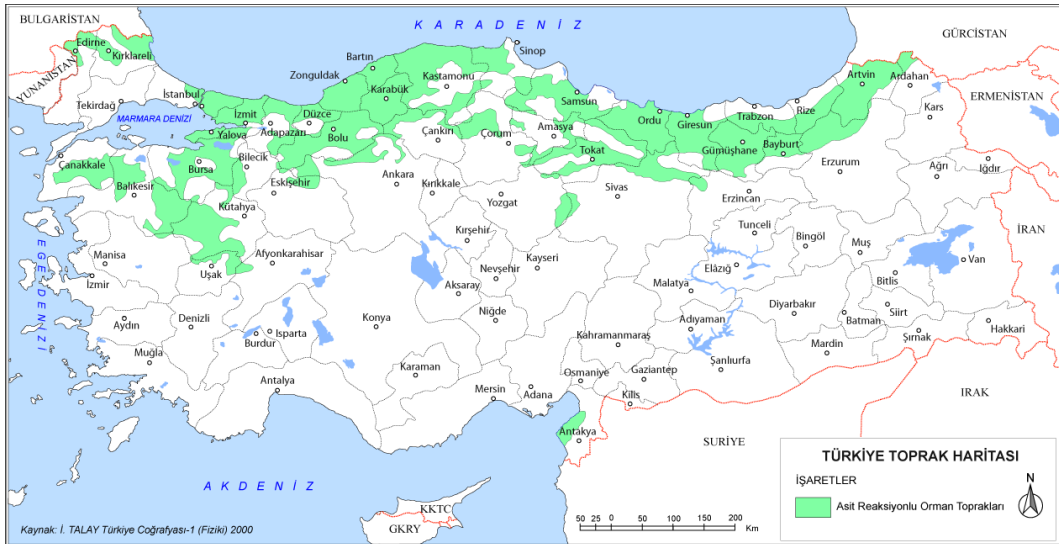
43.

Türkiye'nin bazı alanlarındaki eğimli yamaçlarda ormanlar toprağı tutar ve toprağı bol miktarda organik madde sağlar. Bu yamaçlardaki organik maddelerin ayrışmasıyla oluşan organik asitler, ayrışma olayının artmasına yardımcı olur. Ayrıca yağış miktarının fazla olması topraktaki yıkanmayı artırarak bitki besin maddelerinin bir bölümünün topraktan uzaklaşmasını sağlar. Bu süreç, asit reaksiyon gösteren organik madde yönünden zengin koyu renkli toprakların oluşmasını sağlar.

**Aşağıdakilerin hangisinde bu tür toprakların yaygın olarak görülmesi beklenir?**

- A) Kuzey Anadolu Dağlarının kuzeye bakan yamaçlarında
- B) Toros Dağlarının İç Anadolu'ya bakan yamaçlarında
- C) Batı Anadolu'daki dağların güney yamaçlarında
- D) Ergene Havzası'ndaki plato sahalarında
- E) Orta Anadolu'nun Tuz Gölü ve çevresindeki alçak sahalarında

2019 Orta Öğretim Kamu Personel Seçme Sınavı



44.

Türkiye’de, birbirine çok yakın alanlarda farklı iklim özellikleri görülebilir. Çevresinden farklı iklim özelliklerinin görüldüğü bu tip alanlara mikroklima adı verilir. Mikroklima alanlarında normal koşullarda o bölgede yetişmesi mümkün olmayan bitkiler yetişebilir.

**Buna göre;**

- I. Iğdır Ovası’nda pamuk yetiştirilmesi,
- II. Çukurova’da mısır yetiştirilmesi,
- III. Çoruh Vadisi’nde zeytin yetiştirilmesi,
- IV. Meriç Vadisi’nde çeltik yetiştirilmesi

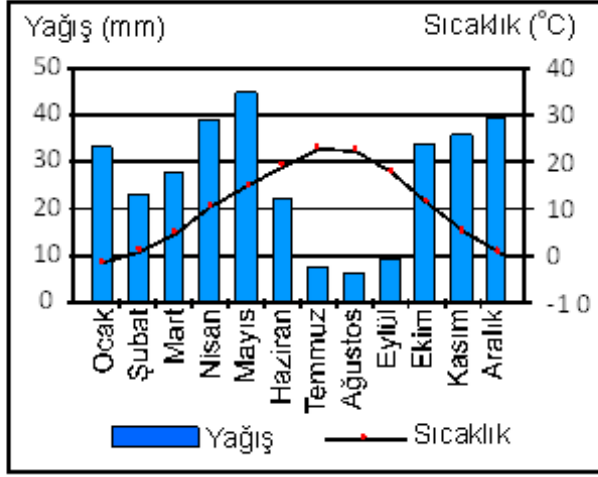
**uygulamalarından hangileri mikroklimaya örnek gösterilebilir?**

- A) I ve II                      B) I ve III                      C) II ve III
- D) II ve IV                      E) III ve IV

2019 Orta Öğretim Kamu Personel Seçme Sınavı

45.

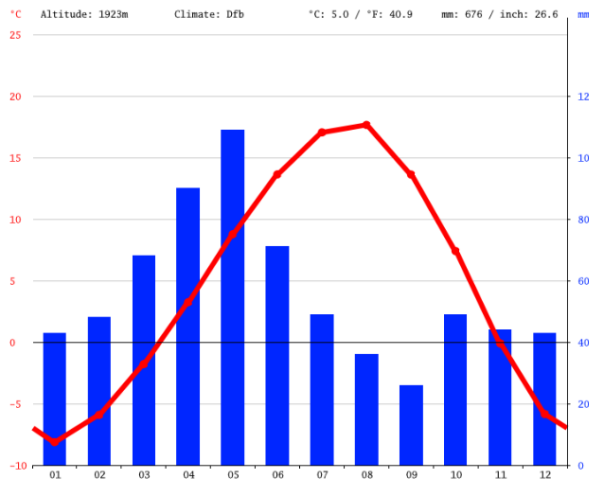
12. Aşağıda, bir il merkezine ait aylık ortalama yağış ve sıcaklık grafiği verilmiştir.



**Grafikteki bilgiler dikkate alındığında bu il merkezinin aşağıdakilerden hangisi olduğu söylenebilir?**

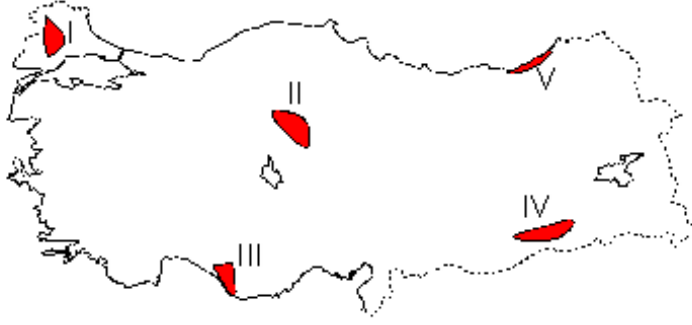
- A) Adana      B) Trabzon      C) Konya  
D) Erzurum      E) Diyarbakır

2020 Lisans Kamu Personel Seçme Sınavı



46.

13. Bir arařtırmacı gözlem yaptıđı sahada zakkum, defne, sandal, funda, menengiç, keçiboynuzu, pırnal meşesi gibi bitkilere rastlamıřtır.



**Buna göre arařtırmacının gözlem yaptıđı saha haritada numaralandırılan alanların hangisinde yer alır?**

- A) I B) II C) III D) IV E) V

2020 Lisans Kamu Personel Seçme Sınavı



47.

14. Türkiye’de kepir veya taş doğuran toprak olarak da bilinen vertisoller sınırlı alanlarda görülür.



**Haritada numaralandırılan alanlardan hangisi bu toprakların yaygın olarak görüldüğü yerler arasında bulunur?**

- A) I B) II C) III D) IV E) V

2020 Lisans Kamu Personel Seçme Sınavı



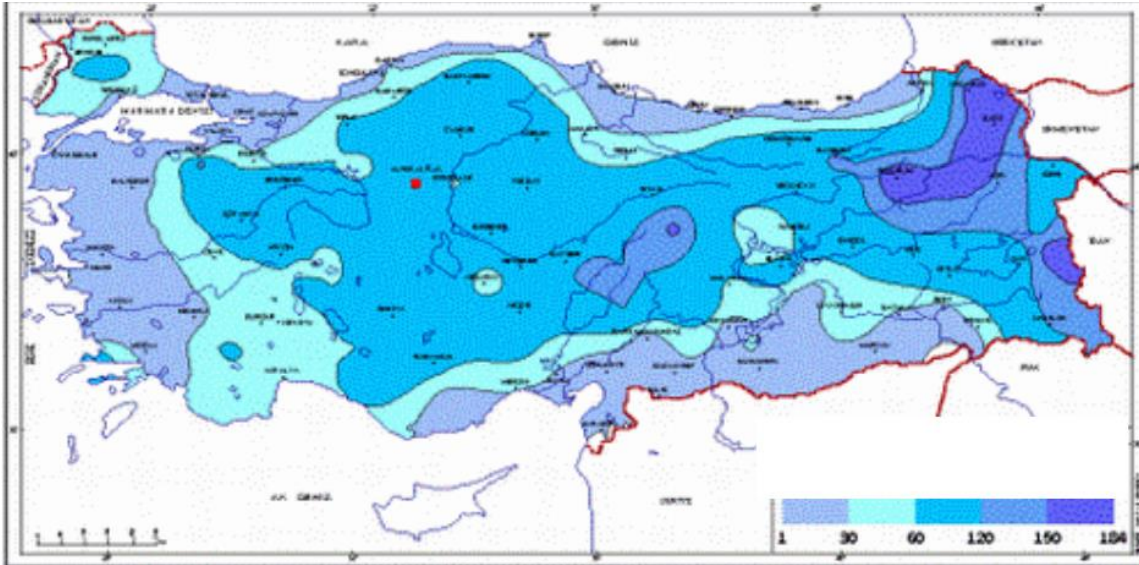
48.

32. Vejetasyon dönemi, bitkilerin uykularından uyandıkları ve yaşam faaliyetlerini gerçekleştirdikleri dönemdir. Sıcaklıklar belli bir eşiği aştığında vejetasyon dönemi başlamakta, bu eşiğin altına düştüğünde ise sona ermektedir.

**Aşağıdaki platoların hangisinde vejetasyon dönemi daha kısadır?**

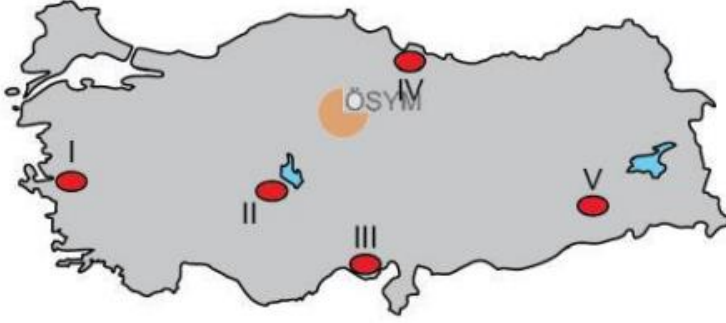
- A) Cihanbeyli                      B) Şanlıurfa  
C) Erzurum – Kars                D) Kırşehir  
E) Çatalca – Kocaeli

2021 Lisans Kamu Personel Seçme Sınavı



9.

Bir bölgedeki doğal bitki örtüsünün şekillenmesinde iklim ve toprak özellikleri belirleyici faktörlerdir. Yağış miktarının düşük, kuraklığın şiddetli olduğu tuzlu ve alkali topraklar bazı bitkilerin yetişme ortamını oluşturmaktadır.



**Haritada numaralandırılan alanların hangisinde bu bitkilerin yetişmesi için uygun ortam bulunmaktadır?**

- A) I B) II C) III D) IV E) V

2022 Orta Öğretim Kamu Personeli Seçme Sınavı

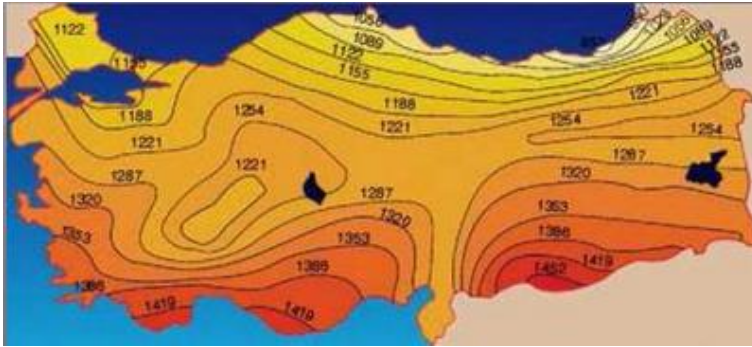
10.

Türkiye'de güneş enerjisi potansiyelinin yörelere göre farklılık göstermesinde enlem, yükselti ve bakı gibi faktörler etkili olmaktadır. ÖSYM

Aşağıdaki illerin hangisinde bu potansiyelin daha düşük olması beklenir?

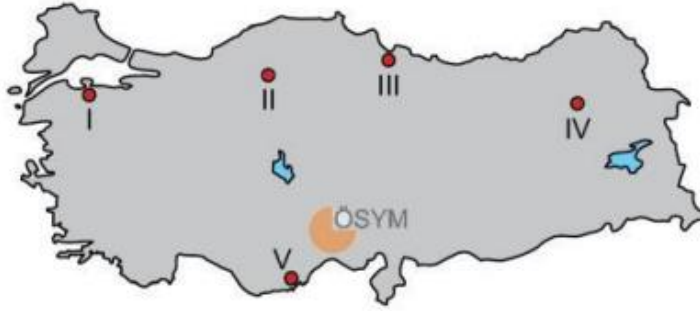
- A) Antalya
- B) Karaman
- C) Bartın
- D) Bitlis
- E) Şırnak

2022 Orta Öğretim Kamu Personeli Seçme Sınavı



11.

Aşağıdaki haritada bazı yerler numaralandırılarak gösterilmiştir.



Don olaylarının yıl içerisinde en erken başladığı ve en erken bittiği yerler haritada hangi numaralarla gösterilmiştir?

	<u>En erken başladığı yer</u>	<u>En erken bittiği yer</u>
A)	I	IV
B)	IV	II
C)	IV	V
D)	V	III
E)	III	V

2022 Önlisans Kamu Personeli Seçme Sınavı



12.

Türkiye üzerinde yaz aylarında sıcak ve kurak hava koşullarının etkili olmasına neden olan dinamik kökenli basınç merkezi aşağıdakilerden hangisidir?

- A) İzlanda Alçak Basınç Merkezi
- B) Azor Yüksek Basınç Merkezi
- C) Sibirya Yüksek Basınç Merkezi
- D) Akdeniz Gezici Alçak Basınç Merkezi
- E) Muson Alçak Basınç Merkezi

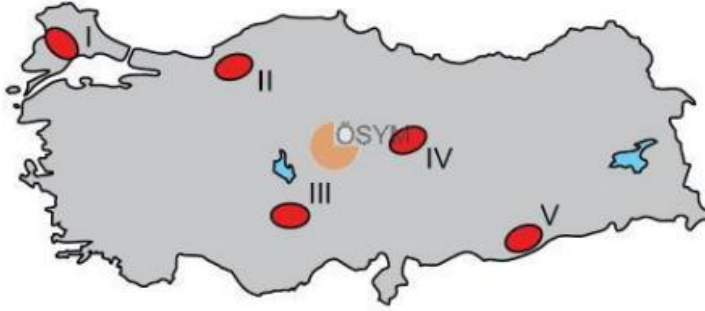
Cevap Anahtarı: B

2022 Önlisans Kamu Personeli Seçme Sınavı



13.

Aşağıdaki haritada bazı alanlar numaralandırılarak gösterilmiştir.



Bu alanların hangisinde orman varlığı daha fazladır?

- A) I
- B) II
- C) III
- D) IV
- E) V

2022 Önlisans Kamu Personeli Seçme Sınavı



Orman Genel Müdürlüğü'nün verilerine göre Türkiye'nin % 29,00'ü ormanlık alandır.

Türkiye'de oran olarak en fazla ormanlık alana sahip olan iller;

- 1-Karabük: %71,58
- 2-Muşla: %67,54
- 3-Kastamonu: %66,16
- 4-Bolu: %64,92
- 5-Sinop: %64,11
- 6-Yalova: %60,07
- 7-Bartın: %59,25
- 8-Bilecik: %57,26
- 9-Artvin: %56,78
- 10-Zonguldak: %56,06

14.

Türkiye'nin 1935 yılında 44 milyon hektar olan mera varlığı 2011 yılında 12 milyon hektara gerilemiş, bunun yanı sıra bir kısım meranın ise niteliği bozulmuştur.

**Aşağıdakilerden hangisi bu değişimin nedenleri arasında gösterilemez?**

- A) Küresel iklim değişikliği
- B) Kentleşme oranının artması
- C) Hayvansal üretimde verimliliğin artması
- D) Sanayileşmenin gelişmesi
- E) Madencilik faaliyetlerinin yaygınlaşması

2022 Önlisans Kamu Personeli Seçme Sınavı



15.

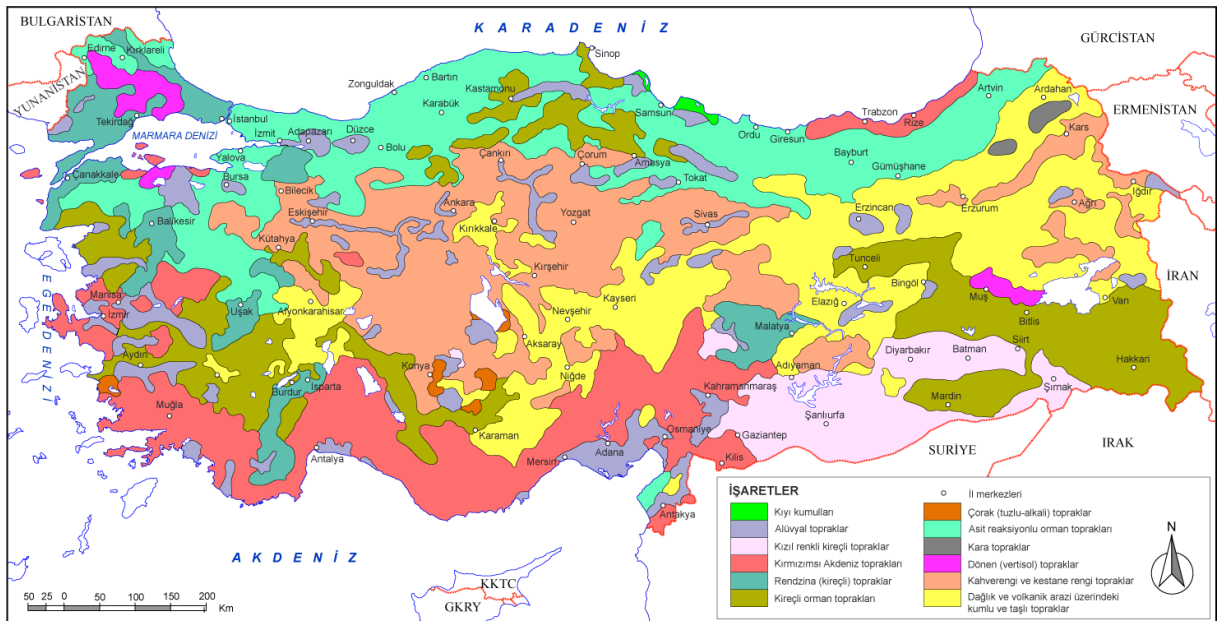
### Ülkemizdeki toprak türleriyle ilgili olarak;

- I. Kıydan iç kesimlerde bozkır bitki örtüsünün altında kahve ve kestane renkli topraklar yaygın olarak görülür.
- II. Toros Dağları'nın denize bakan yamaçlarında iğne yapraklı ağaçların oluşturduğu orman örtüsünün altında podzollara rastlanır.
- III. Ülkemizin kuzeydoğusunda yer alan yüksek platolarda bulunan çayırları altında zengin humus oranına sahip çernozyomlara rastlanmaktadır.
- IV. Vertisol türü topraklara ülkemizde taş doğuran veya kara kepir adı verilir. Bu tip topraklar Karadeniz kıyı kuşağında yaygın olarak görülür.

### İfadelerinden hangileri doğrudur?

- A) I ve II      B) I ve III      C) II ve III  
D) II ve IV      E) III ve IV

2022 Lisans Kamu Personel Seçme Sınavı



Kaynak: İ. TALAY Türkiye Coğrafyası-1 (Fiziki) 2000

TÜRKİYE TOPRAK TİPLERİ DAĞILIM HARİTASI

50.

Türkiye’de bitki türleri ile ilgili olarak arařtırmalar yapmak isteyen bir grup arařtırmacı yapacakları gezipde çok sayıda bitki türü ile karşılaşmak istemektedir. Buna göre, grup lideri yükseltinin kısa mesafelerde deęiřtięi sahalarda bitki türlerinin farklılaşacağını dikkate alarak bir rota belirlemek istemektedir.

**Buna göre grup lideri bahsedilen amaca en doęru biçimde ulaşabilmek için ařaęıda verilen rotalardan hangisinde bir gezi yapması en doęru yol olacaktır?**

- A. Eskiřehir – Ankara
- B. Diyarbakır – Siirt
- C. Ordu – Tokat
- D. Edirne – Tekirdaę
- E. Bayburt – Erzurum

2022 Lisans Kamu Personel Seçme Sınavı

