

KPSS'nda Sorulmuş Türkiye'nin Yer Şekilleri Soruları

1. Aşağıdaki sönmüş volkanlardan hangisi Doğu Anadolu Bölgesi'nde değildir?

A) Ağrı B) Tendürek C) Melendiz

D) Süphan E) Nemrut

1999 Devlet Memurluğu Sınavı



<http://doguates.com/kpss-adaylarina-dogu-atesin-muthis-hazirlik-hediyesi/>

2. Karadeniz kıyılarında deltaların oluşmasında;

- I. akarsu uzunluklarının farklı olması,
- II. akarsuların çok miktarda alüvyon taşıması,
- III. akarsu rejimlerinin düzensiz olması,
- IV. gelgit olayının az görülmesi,
- V. yer şekillerinin çeşitlilik göstermesi

etkenlerinden hangileri birlikte etkili olmuştur?

- A) I ve II B) I ve V C) II ve III D) II ve IV E) IV ve V

1999 Devlet Memurluğu Sınavı



Delta ovasının oluşabilmesi için akarsuyun denize ulaştığı yerde,

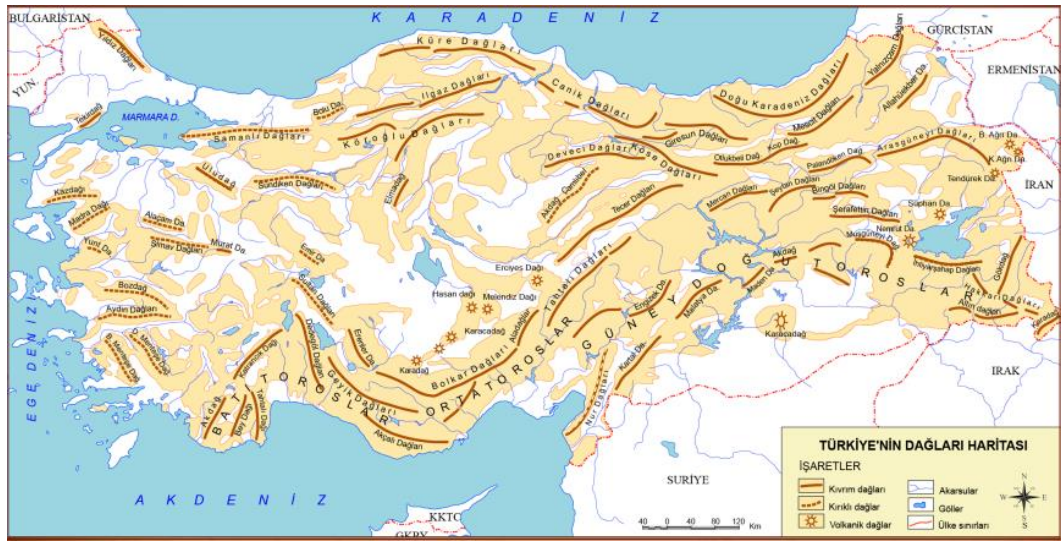
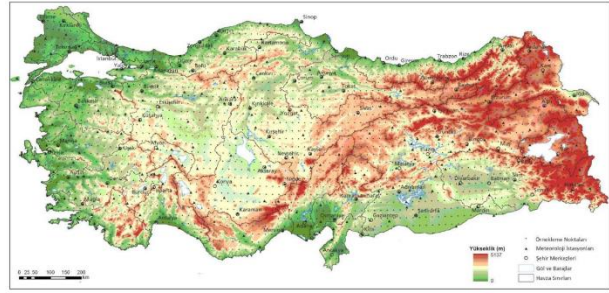
- gelgit olayı (genliği) az
- deniz sığ(kıta sahanlığı geniş)
- akarsu bol alüvyon taşıyor
- kıyıda dalga ve akıntı görülmemelidir.

Türkiye'nin kıyıları yalnızca Akdeniz'le olduğu için delta konusunda büyük avantaj taşır. Karadeniz sahillerinin kimi yerleri dışında her yerde delta ovalarımız vardır.

3. Aylık ortalama sıcaklıklarında fazla fark olmamasına karşın, Samsun'un Rize'den daha az yağış alması, Samsun'un hangi özelliğine bağlanabilir?

- A. Kuzey rüzgârlarına açık olmasına
- B. Buharlaştırmanın fazla olmasına
- C. Daha batıda yer almasına
- D. Gerisindeki dağların yükseltisinin az olmasına
- E. Doğusunda ve batısında deltaların bulunmasına

1999 Devlet Memurluğu Sınavı

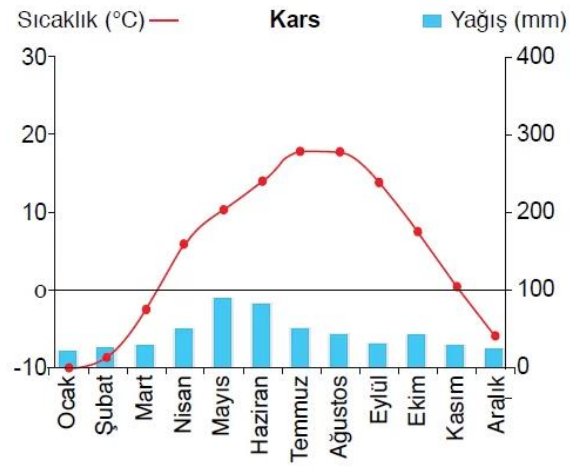
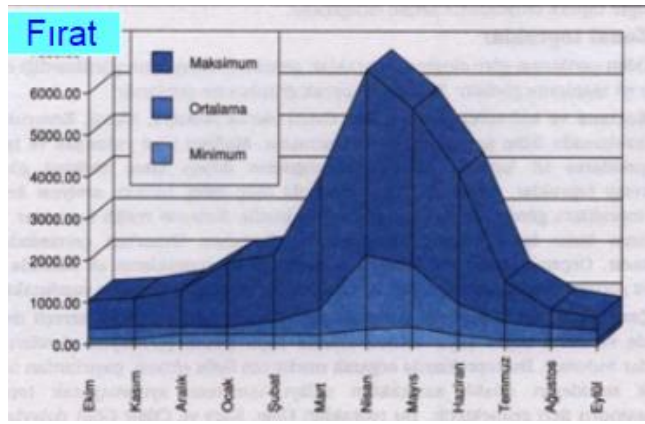


4. Doğu Anadolu bölgesinden doğan ve buradan beslenen akarsuların kış mevsiminde taşıdığı su miktarı en azdır.

Böyle bir durumu ortaya çıkaran başlıca etken aşağıdakilerden hangisidir?

- A. Yeraltı suyu seviyesinin yüzeye yakınlığı
- B. Yağış rejimi
- C. Yağış çeşidi
- D. Akarsu havzalarının genişliği
- E. Akarsuya karışan kol sayısı

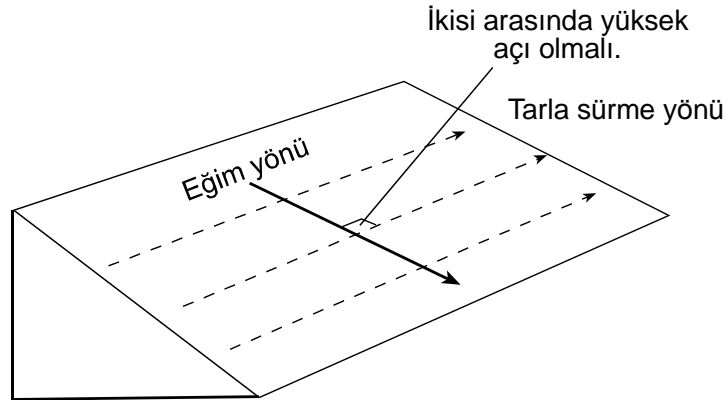
1999 Devlet Memurluğu Sınavı



5. Aşağıdakilerden hangisi, Türkiye’de erozyon ve heyelanların fazla olmasında etkili değildir?

- A. Tarlaların eğim yönünde sürülmesi
- B. Bitki örtüsünün seyrek olması
- C. Dağların batı – doğu yönünde uzanması
- D. Yağış rejiminin düzensiz olması
- E. Engebeliğin fazla olması

1999 Devlet Memurluğu Sınavı



6. Türkiye'nin en fazla sayıda sönmüş volkan bulunan iki bölgesi aşağıdakilerin hangisinde birlikte verilmiştir?

- A. Ege – Akdeniz
- B. Güneydoğu Anadolu Marmara
- C. Karadeniz – Doğu Anadolu
- D. Akdeniz – İç Anadolu
- E. İç Anadolu – Doğu Anadolu

1999 Devlet Memurluğu Sınavı



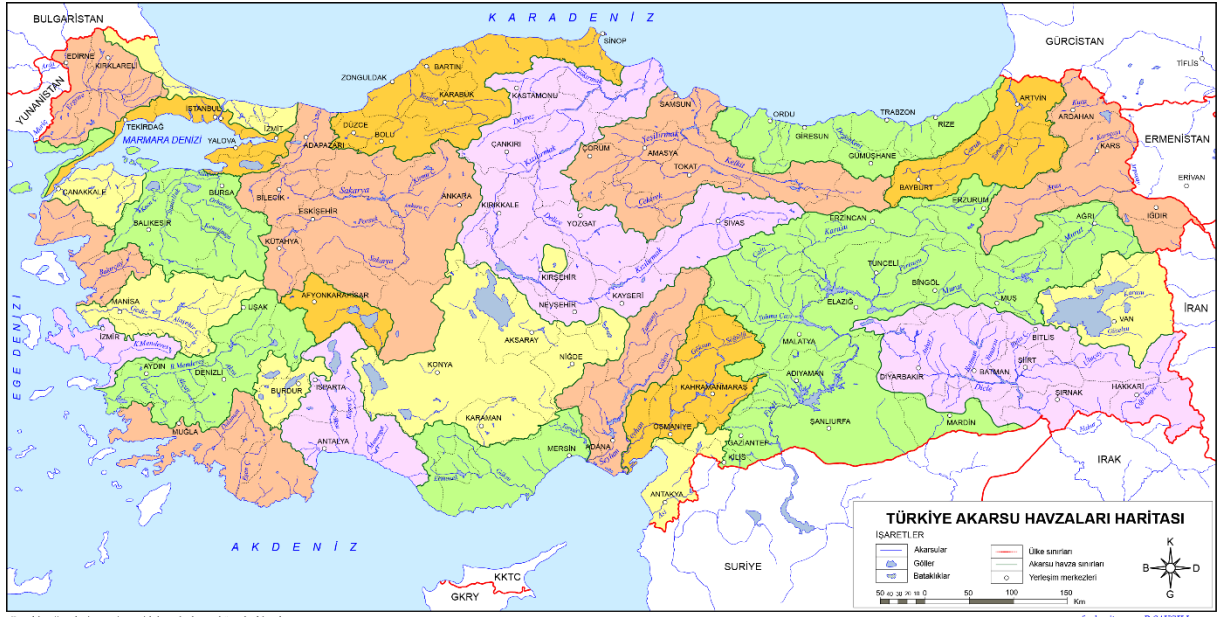
7. Denize ulaşan akarsuların havzalarına açık havza, denize ulaşamayanlara ise kapalı havza denir.

Aşağıdakilerin hangisinde, açık havzalı ve kapalı havzalı iki akarsu doğru verilmiştir?

Açık Havzalı **Kapalı Havzalı**

- | | |
|------------|----------|
| A. Aras | Susurluk |
| B. Sakarya | Aras |
| C. Çoruh | Sakarya |
| D. Sakarya | Susurluk |
| E. Aras | Çoruh |

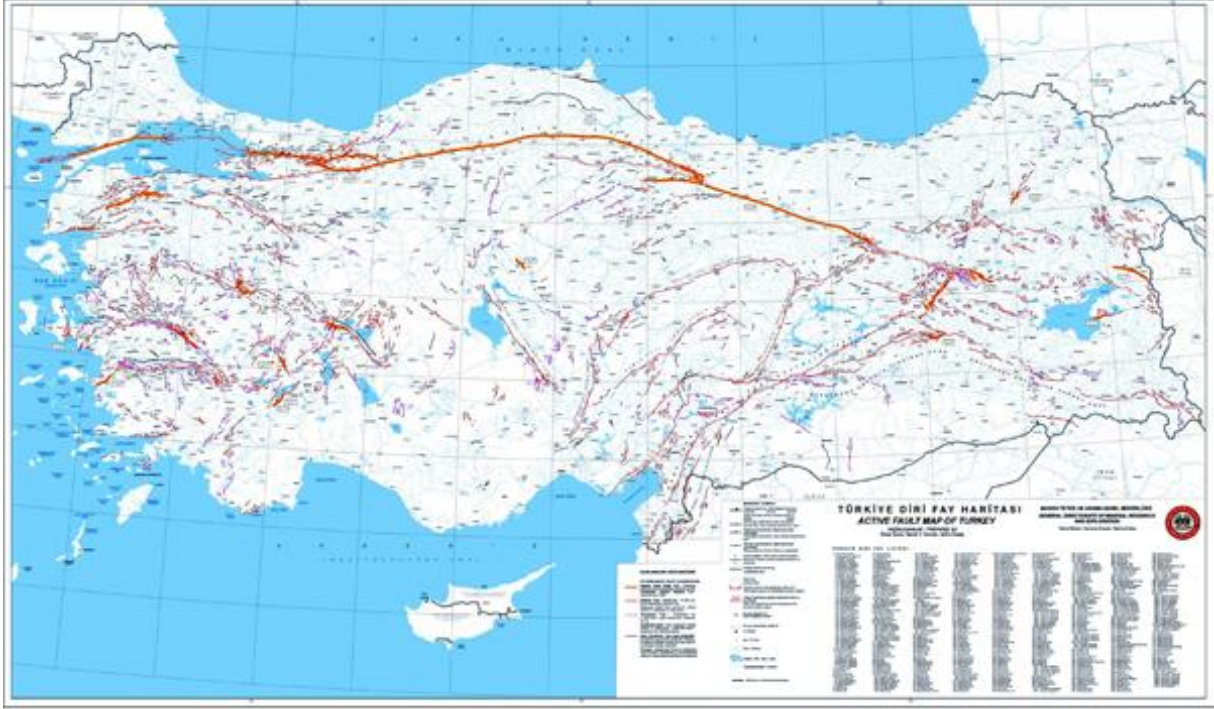
1999 Devlet Memurluğu Sınavı



8. Güney Marmara Bölümü'ndeki başlıca göller, oluşum bakımından hangi özelliktedir?

- A) Karstik B) Volkanik set C) Tektonik D) Alüvyal set E) Heyelan set

1999 Devlet Memurluğu Sınavı



9. Aşağıdaki göllerden hangisi alüvyal set gölüdür?

- A) İznik Gölü B) Nemrut Gölü C) Beyşehir Gölü D) Tortum Gölü E) Köyceğiz Gölü

1999 Devlet Memurluğu Sınavı

MEMBA + K = Marmara - Eymir – Mogan – Bafa – Akgöl – Köyceğiz

10. Erzurum – Kars Bölümü'nde ekonominin hayvancılığa dayalı olmasının nedenlerinden biri aşağıdakilerin hangisidir?

- A. Çayır ve meraların geniş yer tutması
- B. Kışların soğuk geçmesi
- C. Yeraltı kaynaklarının az olması
- D. Yağışların düzensiz olması
- E. Nüfus yoğunluğunun az olması

2000 Devlet Memurluğu Sınavı



F.

Erzurum – Kars Platosu'nda uzayan çayırlar yılda pek çok sefer kesilerek büyük baş hayvanlar için yem olarak değerlendirilir.

11.

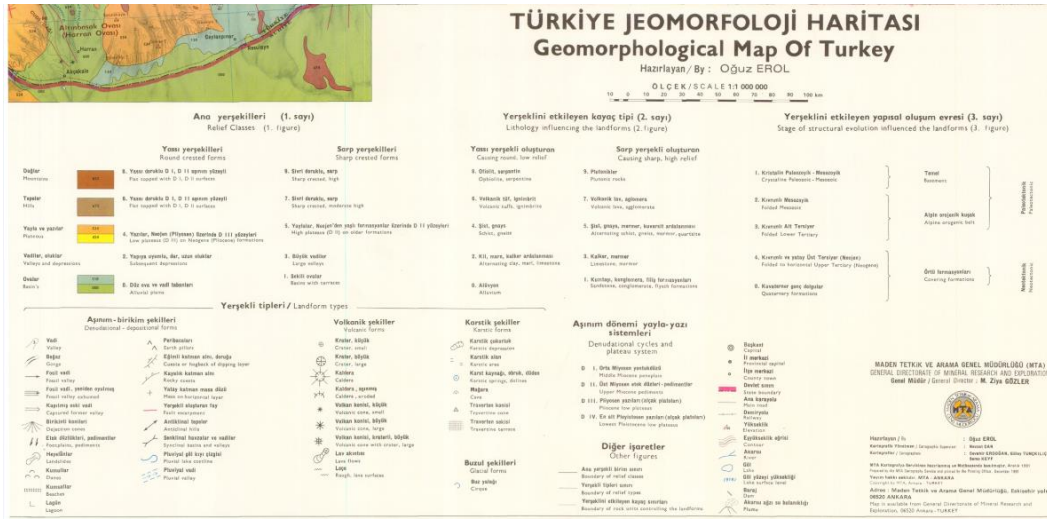
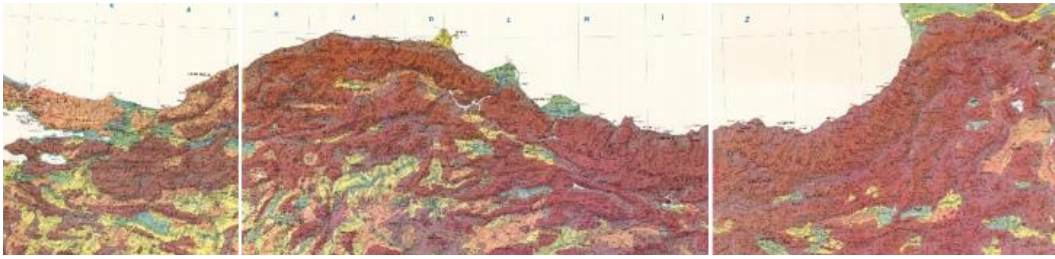
- I. Dağ
- II. Ova
- III. Plato
- IV. Tektonik göl


Karadeniz Bölgesi'nde yukarıdaki yer şekillerinden hangileri daha az yer kaplar?

I ve II B) I ve III C) I ve IV

D) II ve III E) II ve IV

2000 Devlet Memurluğu Sınavı



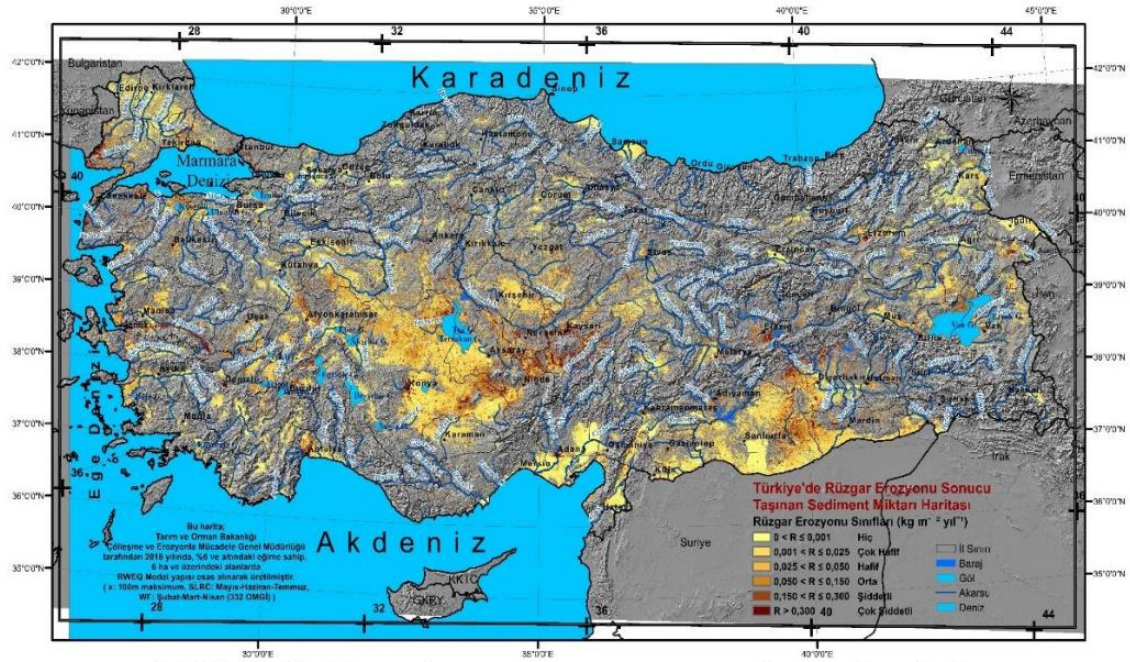


12. Rüzgâr erozyonu, bitki örtüsünden yoksun veya bitki örtüsü çok seyrek olan kurak ve yarı kurak yerlerde daha çok görülür.

Buna göre rüzgâr erozyonunun aşağıdaki illerin hangisinde en az olması beklenir?

- A) Konya B) Rize C) Şanlıurfa D) Iğdır E) Nevşehir

2000 Devlet Memurluğu Sınavı

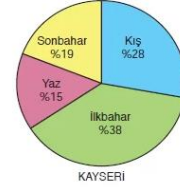
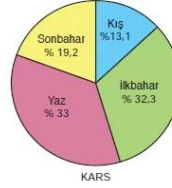
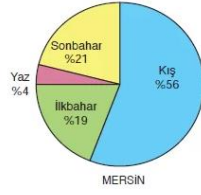
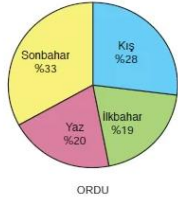


Şekil 5. Türkiye'de rüzgâr erozyonu sonucu taşınan sediment miktarı haritası

13. Türkiye'deki heyelanların % 45'inin ilkbaharda olmasında aşağıdakilerden hangisinin etkili olduğu söylenebilir?

- A. Eğim
- B. Deprem
- C. Jeolojik yapı
- D. Orman varlığı
- E. Kar erimeleri ve yağış

2000 Devlet Memurluğu Sınavı

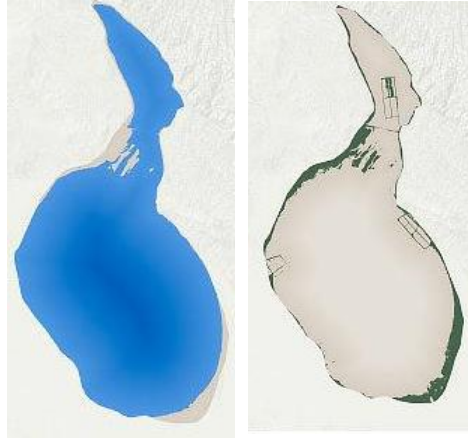


14. Göl sularının kapladığı alan yıl içinde değişiklik gösterir. Bunda göl çanağının derinliği, buharlaşma oranı, gölü besleyen akarsuların getirdiği su miktarı etkilidir.

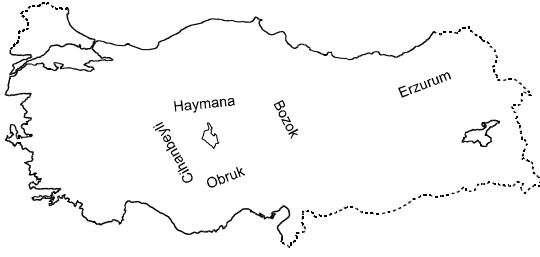
Buna göre, buldukları yörelerin doğal koşulları göz önüne alındığında aşağıdaki yörelerden hangisinde, suların kapladığı alanın yaz ve kış mevsimleri arasında en çok değişim göstermesi beklenir?

- A. Beyşehir Gölü
- B. Van Gölü
- C. Tuz Gölü
- D. İznik Gölü
- E. Burdur Gölü

2001 Kamu Memurluğu Sınavı



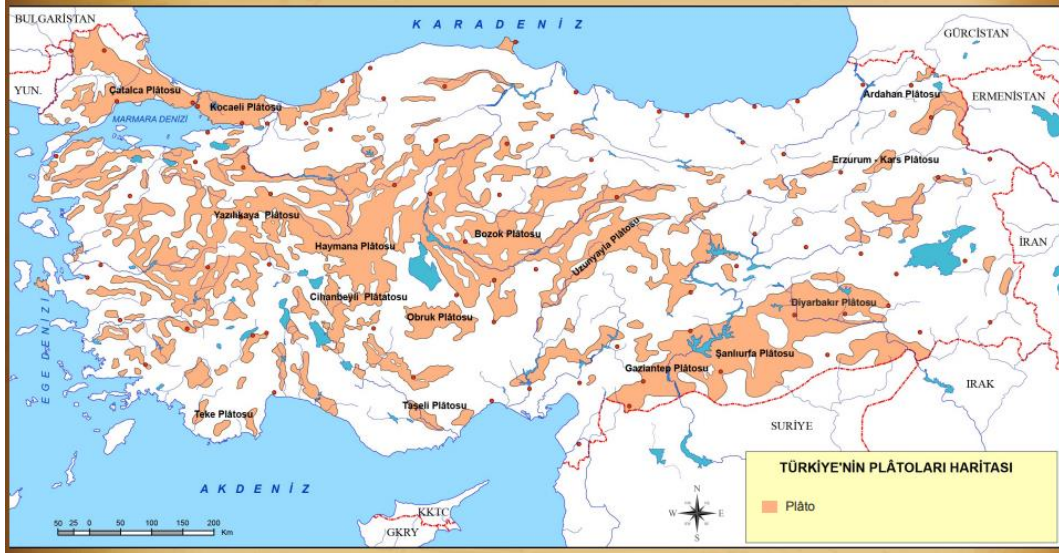
15.



Yukarıda verilen haritada gösterilen platolardan hangisinde, yaz mevsimi sıcak ve kurak geçmez?

- A. Haymana
- B. Bozok
- C. Erzurum
- D. Obruk
- E. Cihanbeyli

2001 Kamu Memurluğu Sınavı



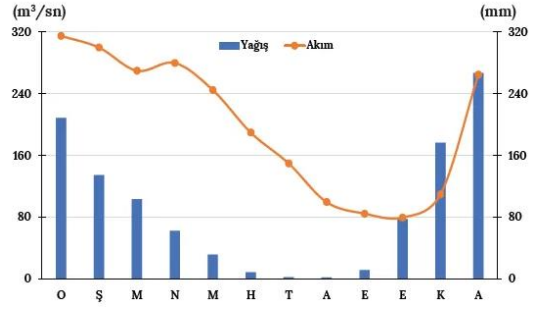
16. Türkiye’de akarsuların genellikle en fazla suyu ilkbaharda taşımalarının temel nedeni aşağıdakilerden hangisidir?

- A. Barajlardaki fazla suların boşaltılması
- B. Taban suyu seviyelerinin yükselmesi
- C. Buharlaşmanın azalması
- D. Akarsuların taşıdığı madde miktarının artması
- E. Kar erimeleri ile yağışların birleşmesi

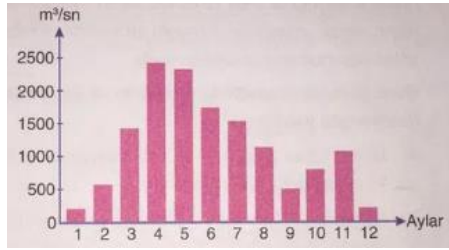
2002 Kamu Personeli Seçme Sınavı



Kızılırmak



Manavgat



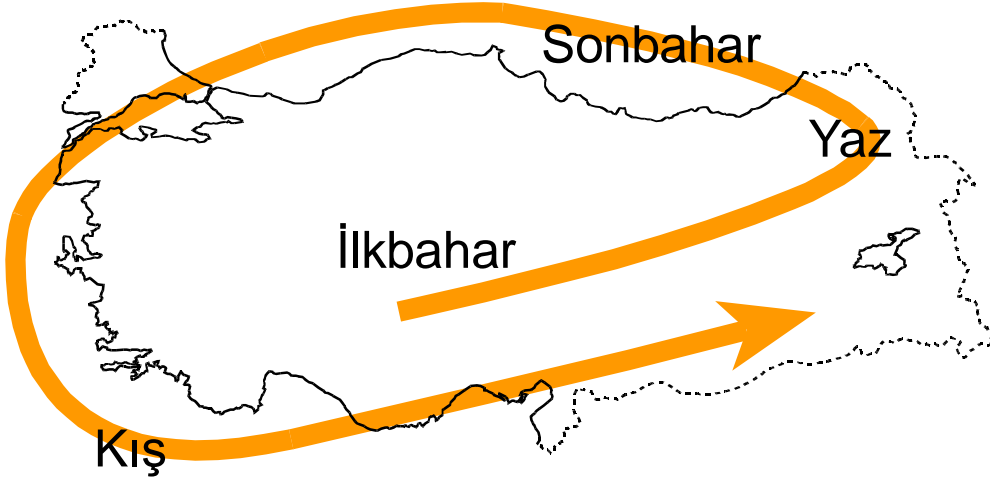
Fırat

17. Türkiye’de yetiştirilen hayvan türleri, yörenin iklimine ve bitki örtüsüne göre değişmektedir.

Buna göre, yaz yağışlarının fazla olduğu ve gür otlakların bulunduğu yörelerde hangi hayvancılığın en yaygın olması beklenir?

- A. Büyükbaş Hayvancılık
- B. Küçükbaş Hayvancılık
- C. Arıcılık
- D. Kümes Hayvancılığı
- E. İpek Böcekçiliği

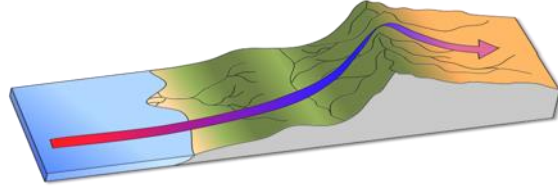
2002 Kamu Personeli Seçme Sınavı



18. Aşağıdakilerden hangisi Kuzey Anadolu Dağları'nın kıyıya paralel uzanmasının sonuçlarından biri değildir?

- A. Bazı kıyı kentlerine ulaşımın zor olması
- B. Dağların denize bakan yamaçlarında orman örtüsünün zengin olması
- C. Korunaklı doğal limanlarına az olması
- D. Kıyı ile iç kesimler arasında farklı iklim tiplerinin görülmesi
- E. Yeraltı kaynaklarının çeşitli olması

2002 Kamu Personeli Seçme Sınavı



19. Türkiye'deki akarsulardan en çok,

- I. sulama,
- II. elektrik enerjisi elde etme,
- III. ulaşım,
- IV. su sporları yapma

amaçlarından hangileri için yararlanılmaktadır?

- A) I ve II B) I ve III C) II ve III D) II ve IV E) III ve IV

2003 Kamu Personeli Seçme Sınavı



20. Ege Bölümü'nün önemli yüzey şekillerini, doğu – batı yönünde uzanan dağlar ve bunlar arasında bulunan uzun ve geniş çöküntü alanları oluşturur.

Buna göre, Ege Bölümü'nün yüzey şekillerinin aşağıdakilerden hangisi üzerinde etkili olduğu söylenemez?

- A. Kuzeye doğru gidildikçe orman üst sınırının alçalması
- B. Deniz etkisinin iç kesimlere kadar sokulması
- C. İç bölgelerle kıyı arasında karayolu ulaşımının kolaylıkla yapılması
- D. Kıyı ile iç kesimler arasında tarım ürünlerinin benzerlik göstermesi
- E. Korunaklı liman sayısının fazla olması

2003 Kamu Personeli Seçme Sınavı

