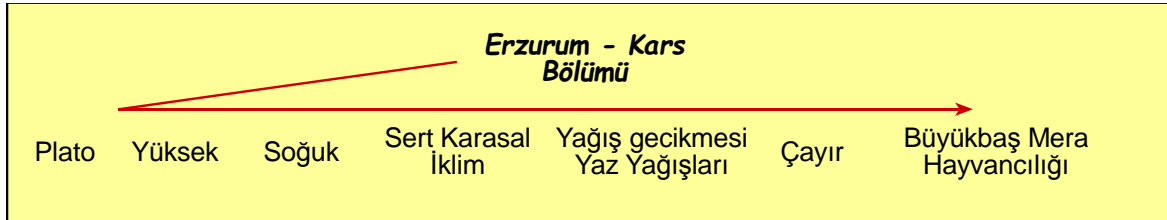
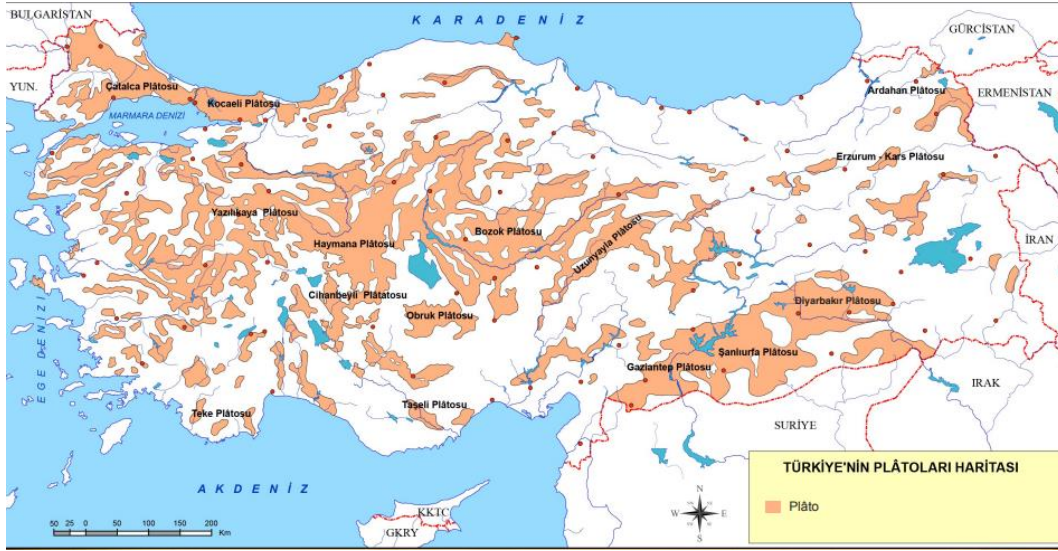


21. Buldukları yerlerin iklimi göz önüne alındığında aşağıdaki platoların hangisinde bozkırların görülmesi beklenmez?

- A. Cihanbeyli
- B. Şanlıurfa
- C. Ardahan
- D. Obruk
- E. Haymana

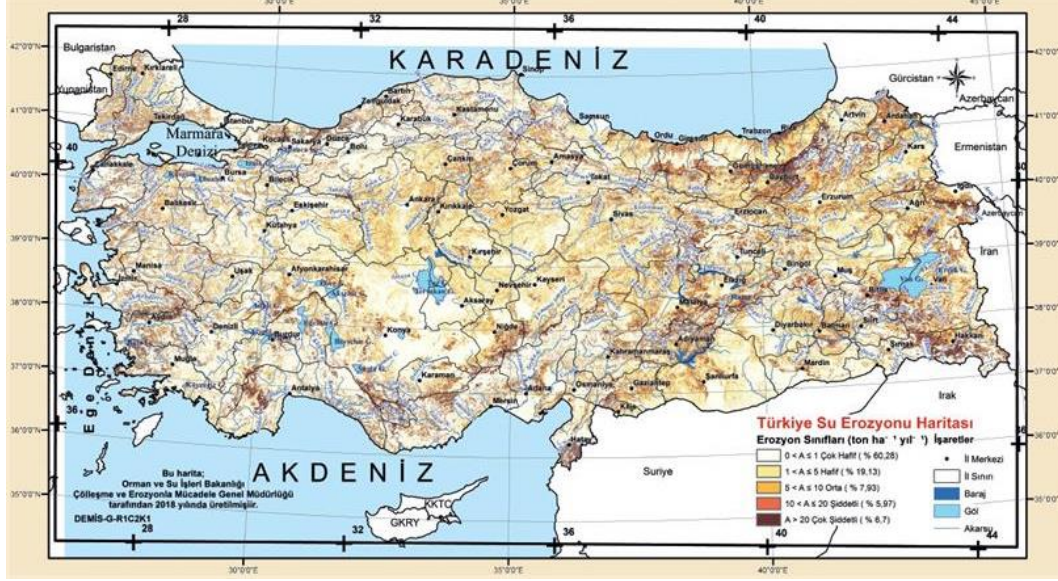
2003 Kamu Personeli Seçme Sınavı



22. Aşağıdakilerden hangisi Türkiye’de erozyonun doğrudan bir etkisi değildir?

- A. Bitki türünün azalması
- B. Meraların yok olması
- C. Koy ve körfezlerin dolması
- D. Tarımsal alanların veriminin düşmesi
- E. Kırdan kente göçün artması

2003 Kamu Personeli Seçme Sınavı

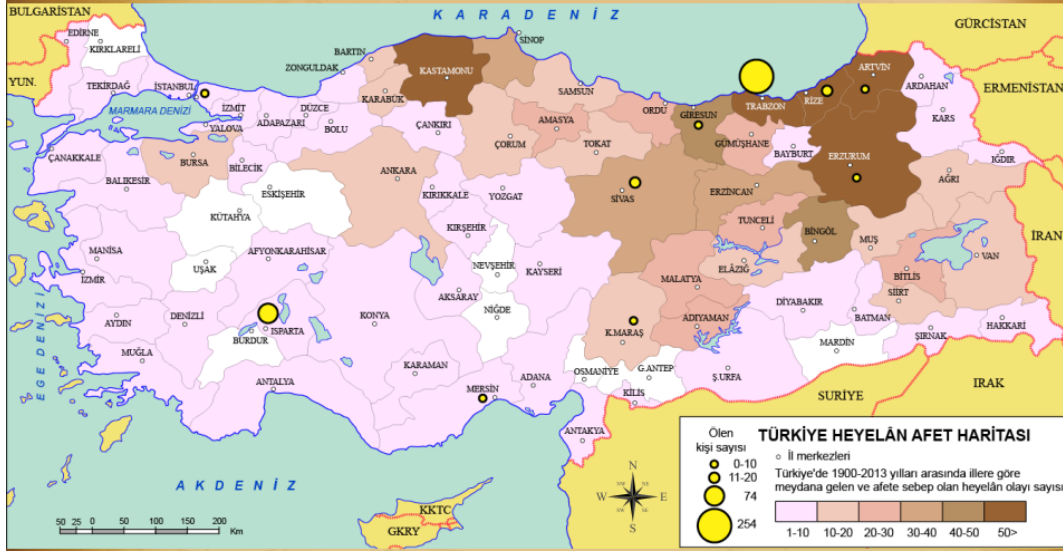


23. Akarsu vadilerinin heyelanlar sonucu tıkanmasıyla oluşan göllere heyelan set gölü denir.

Coğrafi özellikleri göz önüne alındığında, aşağıdaki bölümlerin hangisinde heyelan set göllerinin daha fazla görülmesi beklenir?

- A. Konya Bölümü
- B. Doğu Karadeniz Bölümü
- C. Dicle Bölümü
- D. Çatalca – Kocaeli Bölümü
- E. Ergene Bölümü

2003 Kamu Personeli Seçme Sınavı



Hatay – Maraş depremi ile 2800 heyelan gerçekleşmiştir. Bunlardan biri Malatya'nın Doğanşehir ilçesinde heyelan set gölü oluşmasını sağlamıştır.

24. Türkiye’de konutlarda yapı malzemesi olarak kullanılan malzemeler konutların bulunduğu yerin iklim, bitki örtüsü ve jeolojik yapısına bağlı olarak değişir.

Buna göre, Ürgüp, Avanos ve Nevşehir yöresindeki konutlarda yapı malzemesi olarak aşağıdakilerden hangisinin en çok kullanılması beklenir?

- A. Kalker
- B. Kumtaşı
- C. Volkan tüfü
- D. Jips
- E. Granit

2004 Kamu Personeli Seçme Sınavı



25. Ege Bölgesi’nin kıyı ile iç kesimler arasında ürünler benzerlik gösterirken Doğu Karadeniz Bölümü’nde kıyı kesiminde yetişen birçok ürüne 75-100 km içerde rastlanmaz.

Ege ve Doğu Karadeniz bölgeleri arasında görülen bu farkın temel nedeni nedir?

- A. Dağların uzanışı
- B. Tarımsal nüfus yoğunluğu
- C. Deniz akıntıları
- D. Hakim rüzgar yönü
- E. Toprak türü

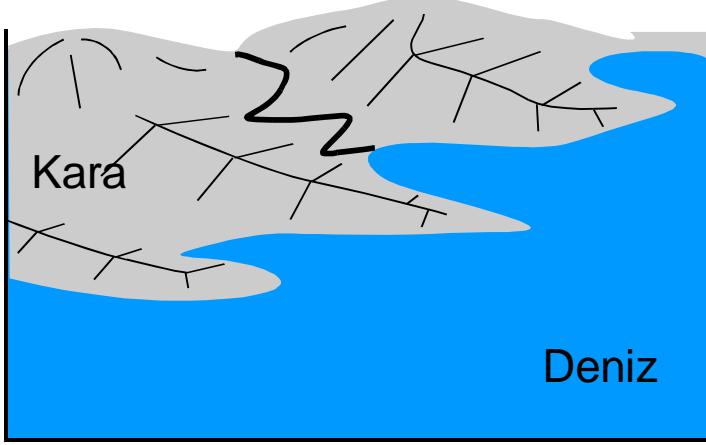
2004 Kamu Personeli Seçme Sınavı



26. Aşağıdakilerden hangisi Ege Bölgesi'ndeki delta ovalarının ortak özelliği değildir?

- A. Kıyıda büyük göllerin oluşması
- B. Tarımsal etkinliklerin yoğunlaştığı sahalar olması
- C. Endüstri bitkilerinin daha fazla yetişmesi
- D. Önemli turizm merkezlerinin bulunması
- E. Yerleşimin yoğun olması

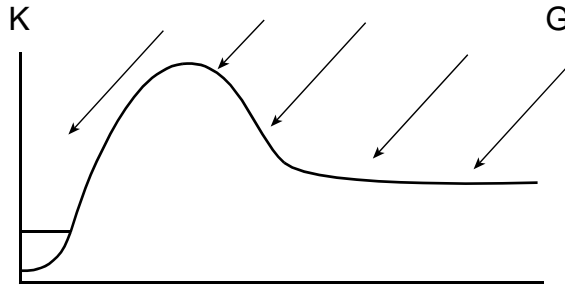
2004 Kamu Personeli Seçme Sınavı



27. Doğu Karadeniz Bölümü'nde dağların kıyıya paralel uzanmasının aşağıdakilerden hangisi üzerinde etkili olduğu söylenemez?

- A. Kuzeyden esen rüzgârların soğuk olması
- B. İç kesimlerde deniz etkisinin görülmemesi
- C. Kıyı kesiminde bol yağış isteyen endüstri bitkilerinin yetişmesi
- D. Kıyı kesimiyle iç kesimler arasında ulaşımın güç olması
- E. Kuzey yamaçlardaki orman örtüsünün güney yamaçlardakilerden farklı olması

2005 Kamu Personeli Seçme Sınavı



Türkiye'de bakı yönünün güney olması, ülkemizin Kuzey Yarımküre'de yer almasının bir sonucudur.

28. Akarsuların kirlenmesinde aşağıdakilerden hangisi en az etkilidir?

- A. Hidroelektrik santrali
- B. Endüstri atıkları
- C. Kanalizasyon atıkları
- D. Tarım atıkları
- E. Çöp alanları

2005 Kamu Personeli Seçme Sınavı



Manavgat Çayı üzerinde yer alan Oymapınar Barajı ülkemizin görülmesi mutlaka gereken güzelliklerinden biridir. 50 metre aks yüksekliği olan bu baraj, ülkemizin en büyük karstik Dumanlı kaynağının olan üzerini örtmüştür.

29. Aşağıdaki ovalardan hangisi yıl içinde birden fazla ürün almaya diğerlerinden daha elverişlidir?

- A) Erzincan B) Bafra C) Çukurova D) Ergene E) Konya

2005 Kamu Personeli Seçme Sınavı



30.

Aşağıdaki göllerden hangisi, bir koy önünün dalgalarla taşınan kumlar tarafından kapatılması sonucu oluşmuştur?

- A) Beyşehir Gölü B) Tortum Gölü
C) Büyük Çekmece Gölü D) İznik Gölü
E) Kuş Gölü

2006 Kamu Personeli Seçme Sınavı

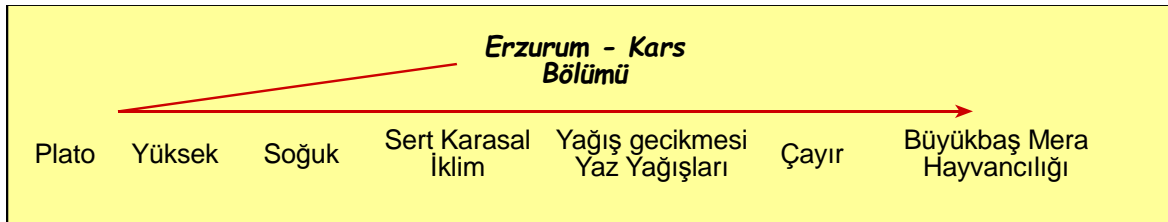


31.

Doğu Karadeniz ve Erzurum-Kars bölümlerinde büyükbaş hayvancılığın yaygın olarak yapılmasında aşağıdakilerden hangisinin etkili olduğu söylenebilir?

- A) Elverişli çayırların bulunması
- B) Nüfus yoğunluğunun fazla olması
- C) Tarım alanlarının sınırlı olması
- D) Kente göçün fazla olması
- E) Akarsu ağının sık olması

2006 Kamu Personeli Seçme Sınavı



32.

Aşağıdakilerin hangisinde yer şekillerinin etkili olduğu söylenemez?

- A) Doğu Karadeniz Bölümü'nde heyelanların çok olması
- B) Doğu Anadolu Bölgesi'nde hidroelektrik potansiyelin yüksek olması
- C) Akdeniz Bölgesi'nde deniz turizmine elverişli suların uzun olması
- D) Karadeniz Bölgesi'nde kıyıyla iç kesimler arasında ulaşımın güç olması
- E) Marmara Bölgesi'nde makineli tarımın yaygın olarak yapılabilmesi

2006 Kamu Personeli Seçme Sınavı Ön Lisans

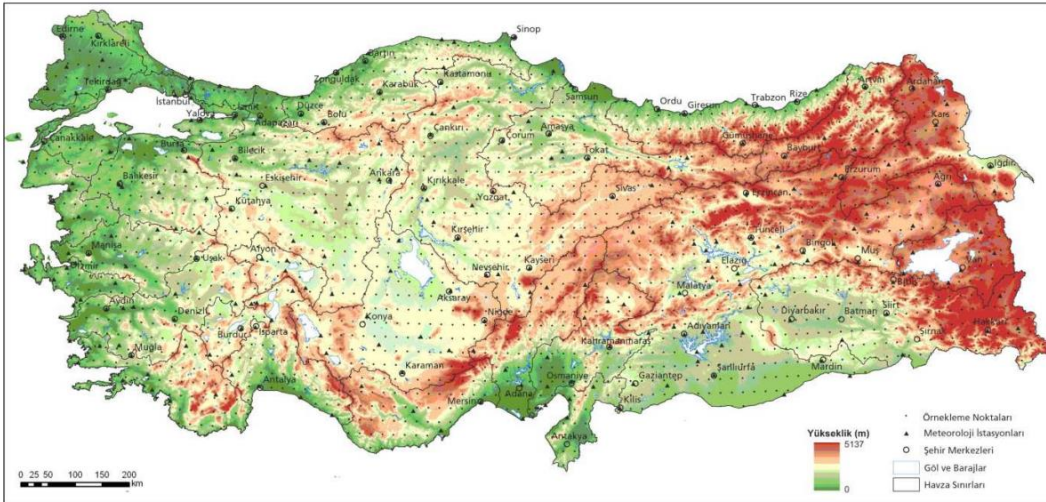
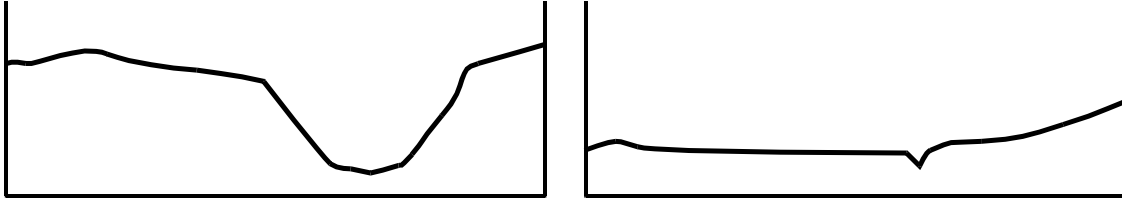


33.

Havzalarındaki yer şekilleri dikkate alındığında aşağıdaki akarsulardan hangisinin, birlikte verilen yörede taşkına yol açma olasılığı diğerlerinden daha fazladır?

- A) Zapsuyu – Hakkâri B) Meriç – Edirne
C) Kızılırmak – Sivas D) Karasu – Erzincan
E) Dicle – Diyarbakır

2006 Kamu Personeli Seçme Sınavı Ön Lisans



34.

Aşağıdakilerden hangisi bir delta ovası değildir?

- A) Gökusu B) Ceylanpınar
C) Bafra D) Çarşamba
E) Çukurova

2006 Kamu Personeli Seçme Sınavı Ortaöğretim



35.

Doğu Anadolu, Akdeniz ve Karadeniz bölgelerindeki sıradağlarla ilgili aşağıdaki ifadelerden hangisi yanlıştır?

- A) Etkin volkanlara rastlanır.
- B) Alp orojenezi döneminde oluşmuşlardır.
- C) Genelde yükseltileri 1500 m'yi geçer.
- D) Bazıları 4. zaman buzullaşmasından etkilenmişlerdir.
- E) Genelde doğu–batı yönünde uzanırlar.

2007 Kamu Personeli Seçme Sınavı



Aktif Volkanlar

Yakın geçmişte aktif olduğu bilinen ve hâlâ faaliyet potansiyeli olduğuna inanılan volkanlar.

- Acıgöl-Nevşehir
- Ağrı (Ararat)
- Erciyes Dağı
- Göllü Dağı
- Hasan Dağı
- Karaca Dağ
- Karapınar volkanik alanı
- Kula
- Nemrut Dağı
- Tendürek Dağı



Olası Aktif

Son 10.000 yılda belki aktif olmuş olan ama bu durumu teyit edilmemiş olan volkanlar.

- Girekol Tepe
- Gölcük
- Kars Platosu
- Süphan Dağı

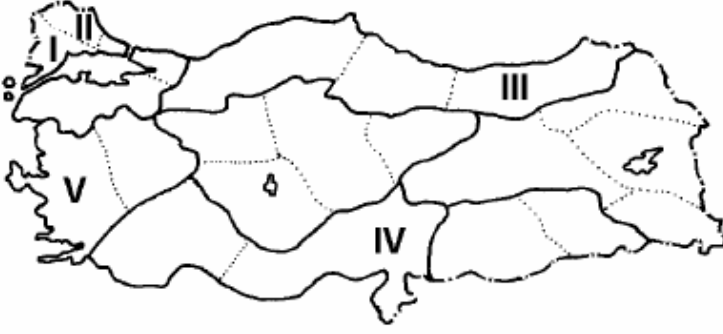


Aktif Olmayan Volkanlar

Binlerce yıldır hiç püskürmemiş olan volkanlar.

- Kapadokya

36.



Haritada numaralarla gösterilen bölümlerin hangisinde, arazinin engebeli olması nedeniyle, balıkçılık önemli bir geçim kaynağıdır?

- A) I B) II C) III D) IV E) V

2007 Kamu Personeli Seçme Sınavı



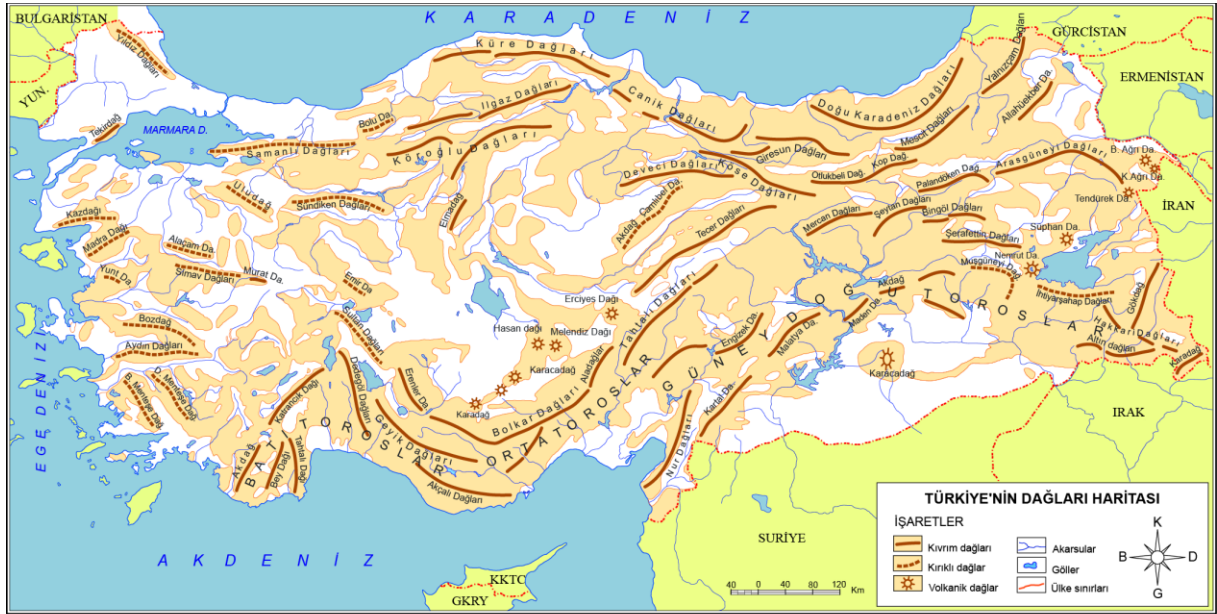
37.

- I. Yamaç eğiminin fazlalığı
- II. Orman üst sınırı
- III. Yıllık yağış tutarı
- IV. Körfez ve yarımada sayısı

Dağların kıyıya göre uzanışlarının farklı olması, Ege Bölümü kıyılarıyla Doğu Karadeniz Bölümü kıyılarının yukarıdakilerden hangileri bakımından farklı olmasında etkilidir?

- A) I ve II B) I ve III C) II ve III
D) II ve IV E) III ve IV

2008 Kamu Personeli Seçme Sınavı



Kaynak: R. İZBİRAK'ın Türkiye Jeomorfoğrafik Haritası'ndan yararlanılarak hazırlanmıştır

cografyaharita.com R.SAYGILI 2012

38.

Türkiye'nin kıyı ovalarında aşağıdaki toprak türlerinden hangisi yaygın olarak görülür?

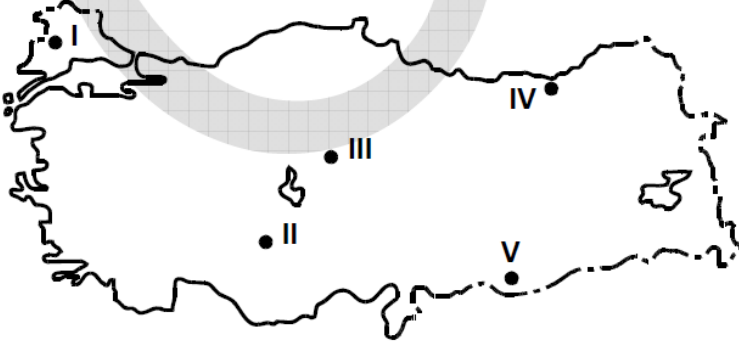
- A) Tüflü topraklar B) Kırmızı topraklar
C) Alüvyal topraklar D) Kahverengi topraklar
E) Lössler

2008 Kamu Personeli Seçme Sınavı



39.

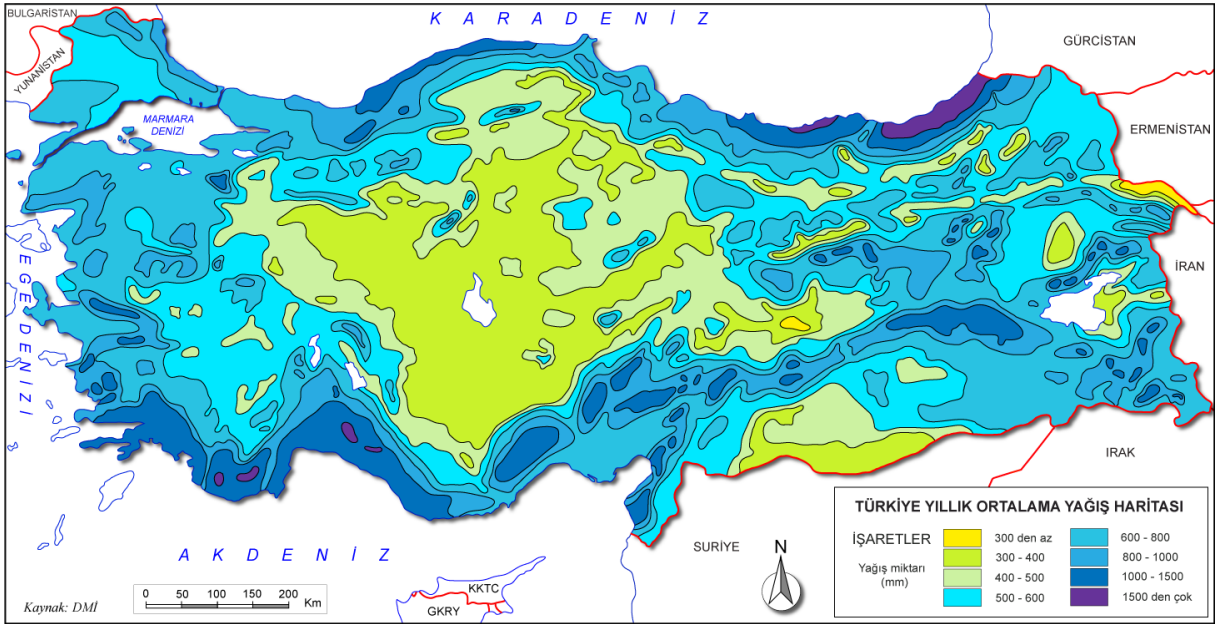
Türkiye’de koyun, kısa boylu otluk alanların bulunduğu düzlüklerde yaygın olarak yetiştirilir.



Buna göre, yukarıdaki haritada numaralarla gösterilen yerlerin hangisi koyun yetiştirilmesi için daha az elverişlidir?

- A) I B) II C) III D) IV E) V

2008 Kamu Personeli Seçme Sınavı



40.

Aşağıdakilerden hangisi, Türkiye'nin kıyı bölgelerinin ortak özelliklerinden biri değildir?

- A) Bölümleri arasında ortalama yükselti bakımından fark olması
- B) Akarsu ağzlarında delta ovalarının olması
- C) Karstik göllerin yaygın olarak görülmesi
- D) Dağların uzanışının kıyıların şekillenmesinde etkili olması
- E) Alp orojenezinde oluşmuş sıradağların bulunması

2008 Ön Lisans Kamu Personeli Seçme Sınavı

