



82.

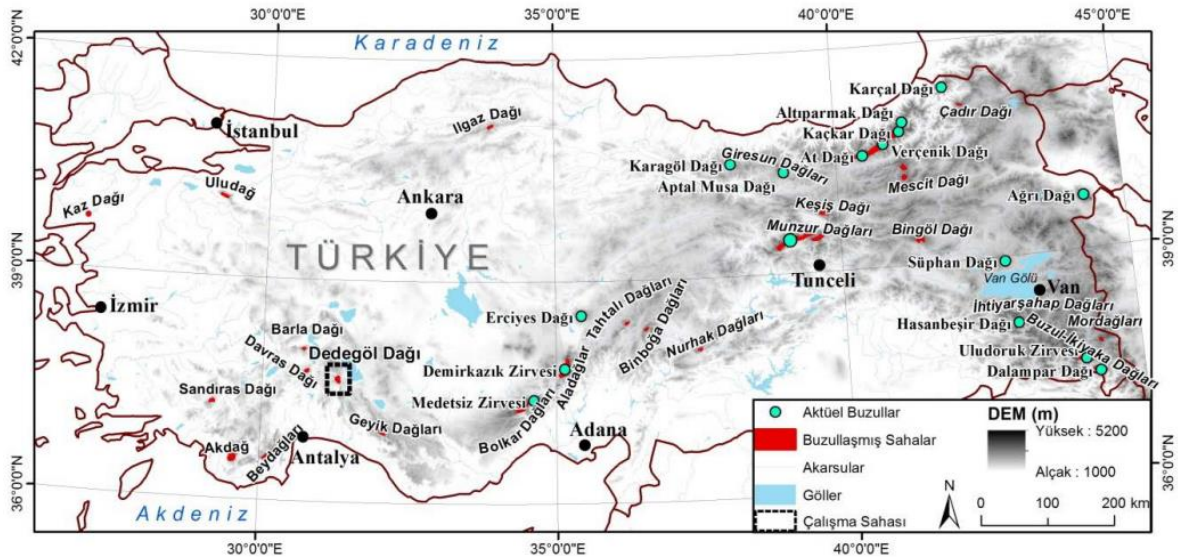
**Türkiye’de buzul aşındırma ve biriktirme şekillerinin bulunduğu yerler,**

- I. Yüksek dağlık alanlardır.
- II. Plato görünümündeki yerlerdir.
- III. Genellikle 2000 metrenin üzerindedir.
- IV. Ülkenin kuzeyinde bulunmaktadır.

**özelliklerinden hangileri bakımından ortaktır?**

- A) I ve II      B) I ve III      C) II ve III  
D) II ve IV      E) III ve IV

2016 Kamu Personeli Seçme Sınavı

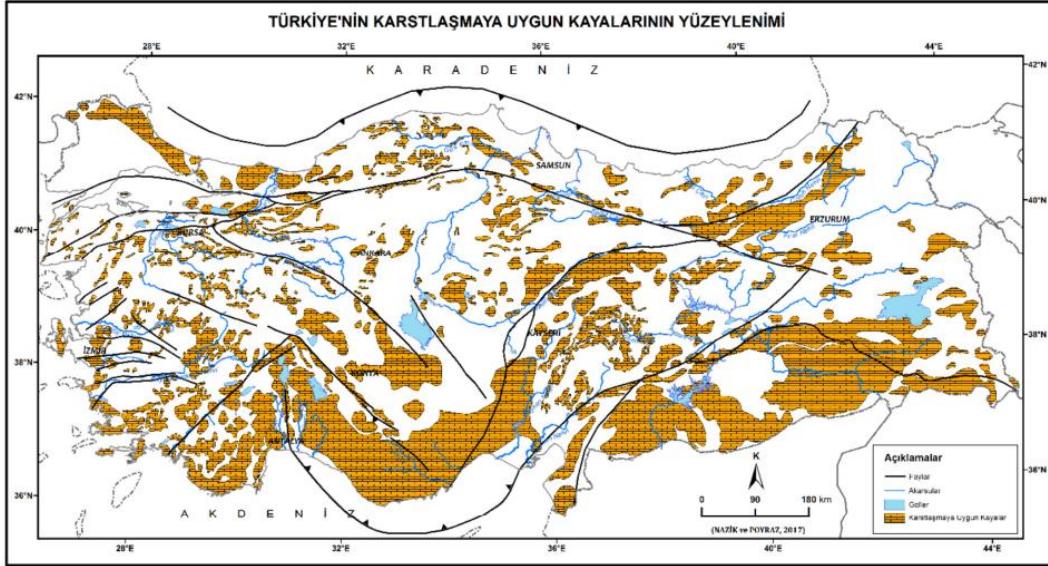


83.

**Türkiye'de karstik şekiller yaygın olmakla birlikte polyelerin Batı Toroslarda daha fazla bulunmasının nedeni aşağıdakilerden hangisidir?**

- A) Akdeniz yağış rejiminin görülmesi
- B) Bitki örtüsü bakımından zengin olması
- C) Kalın kalker ve kırıklı yapının varlığı
- D) Yükselti ve eğimin fazla olması
- E) 4. Jeolojik Zaman'da buzullaşmaya uğraması

2016 Kamu Personeli Seçme Sınavı



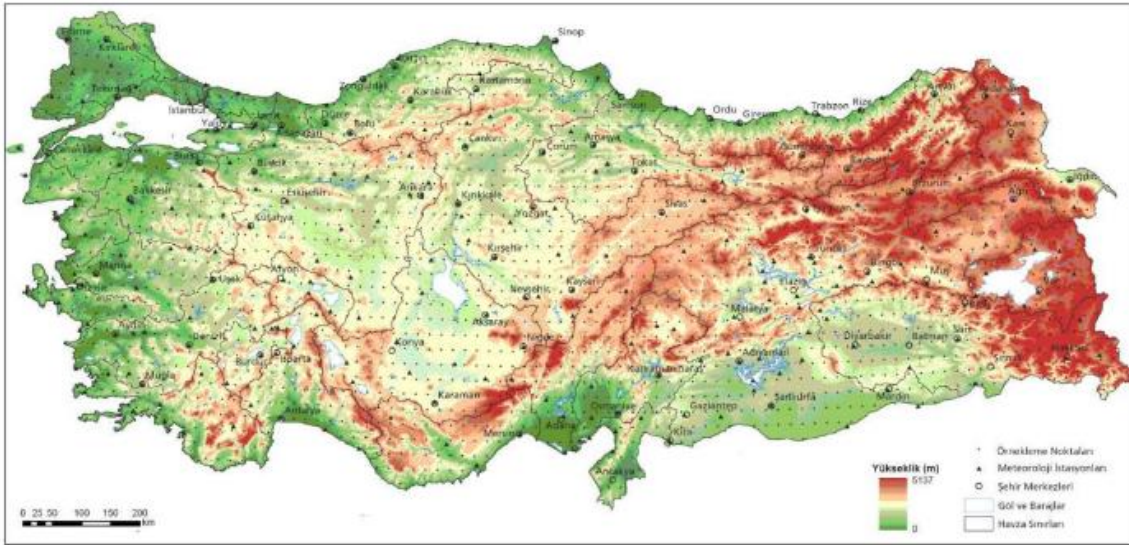
84.

- I. Kuzey ve güneyde Alp orojeneziiyle oluşan sıradağların bulunması
- II. Batı Anadolu'da horst ve grabenlerin bulunması
- III. Epirojenik hareketlerle Anadolu yarımadasının yükselmesi
- IV. Akarsu aşındırmasıyla oluşan derin vadilerin yer alması

**Yukarıdakilerden hangileri, Türkiye arazisinin ortalama yükseltisinin fazla olmasında diğerlerinden daha etkili olmuştur?**

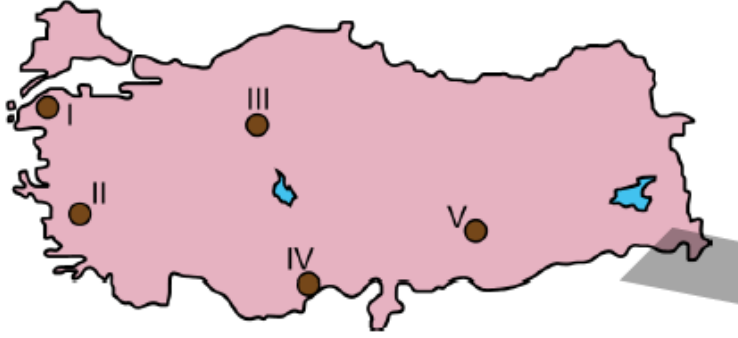
- A) I ve II      B) I ve III      C) II ve III  
D) II ve IV      E) III ve IV

2016 Kamu Personeli Seçme Sınavı



85.

Aşağıdaki haritada beş alan numaralandırılarak koyu renkle gösterilmiştir.

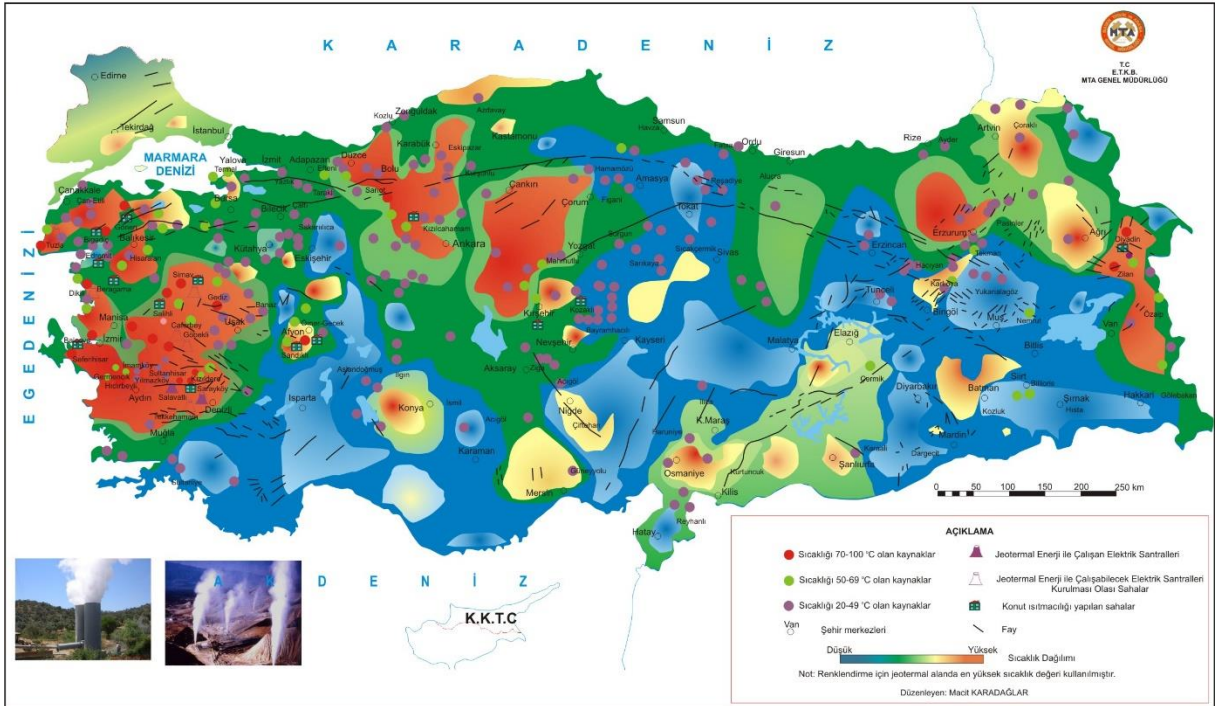


Bu alanların hangisinde jeotermal enerjiden elektrik üretimi yapılmaktadır?

- A) I    B) II    C) III    D) IV    E) V

2016 Kamu Personeli Seçme Sınavı

### Jeotermal Kaynaklar ve Uygulama Haritası



86.

**Aşağıdakilerden hangisi karstik kökenli bir ova değildir?**

A) Tercan

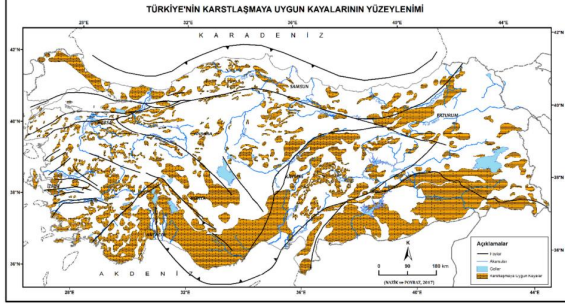
B) Muğla

C) Kestel

D) Elmalı

E) Suğla

2016 Ön Lisans Kamu Personeli Seçme Sınavı



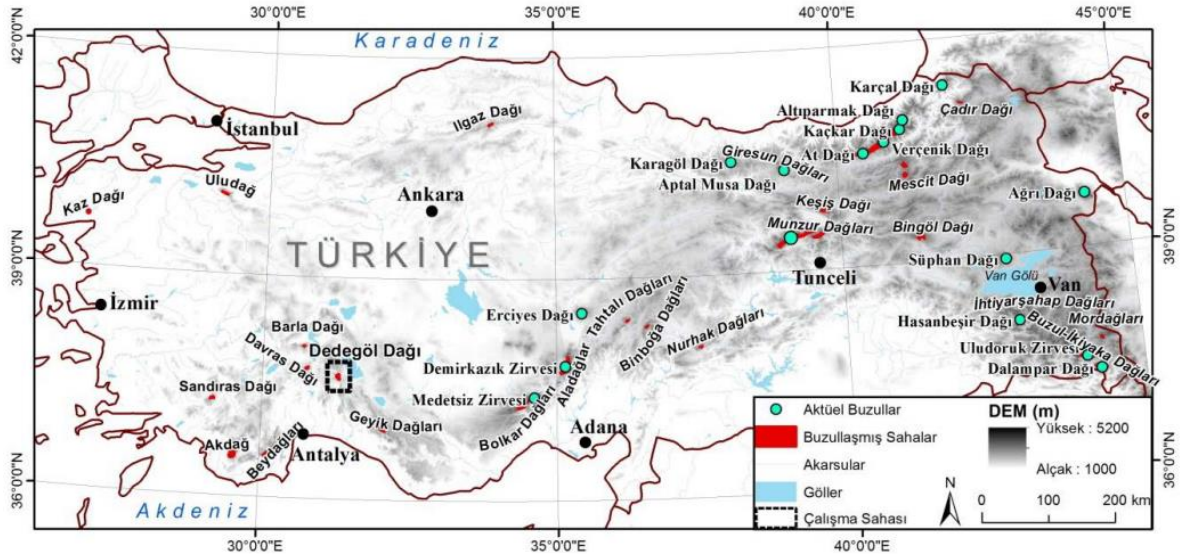
87.

Türkiye’de buzulların etkisiyle oluşmuş topografik şekillere ancak yüksek dağlık alanlarda rastlanmaktadır.

Buna göre aşağıdakilerin hangisinde buzul şekillerine rastlanmaz?

- A) Erciyes Dağı                      B) Aladağlar  
C) Uludağ                              D) Kaçkar Dağı  
E) Yıldız Dağları

2016 Ön Lisans Kamu Personeli Seçme Sınavı



88.

Aşağıdakilerden hangisi, Türkiye topraklarının tümü için en önemli sorundur?

- A) Tuzluluk                      B) Taşlılık  
C) Erozyon                      D) Kuraklık  
E) Drenaj bozukluğu

2016 Ön Lisans Kamu Personeli Seçme Sınavı



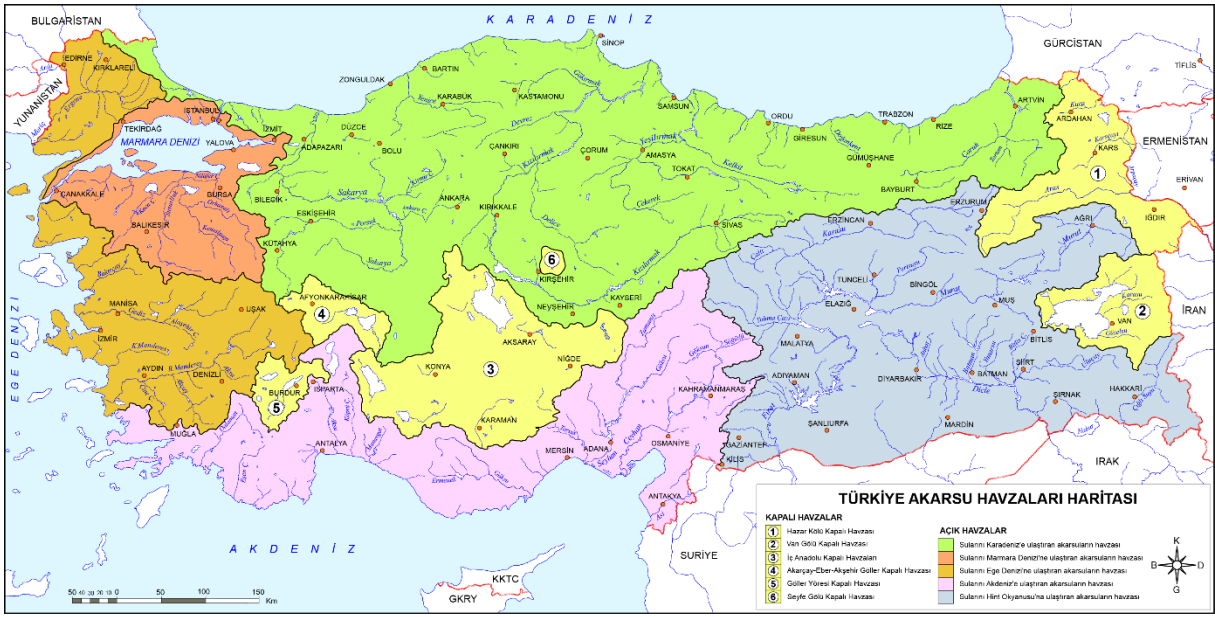
89.

- I. Ereğli Sazlığı
- II. Sultan Sazlığı
- III. Hotamış Sazlığı

Yukarıdakilerin hangileri Konya Kapalı Havzası'nda bulunan sulak alanlardan biri değildir?

- A) Yalnız I
- B) Yalnız II
- C) Yalnız III
- D) I ve II
- E) II ve III

2016 Ön Lisans Kamu Personeli Seçme Sınavı

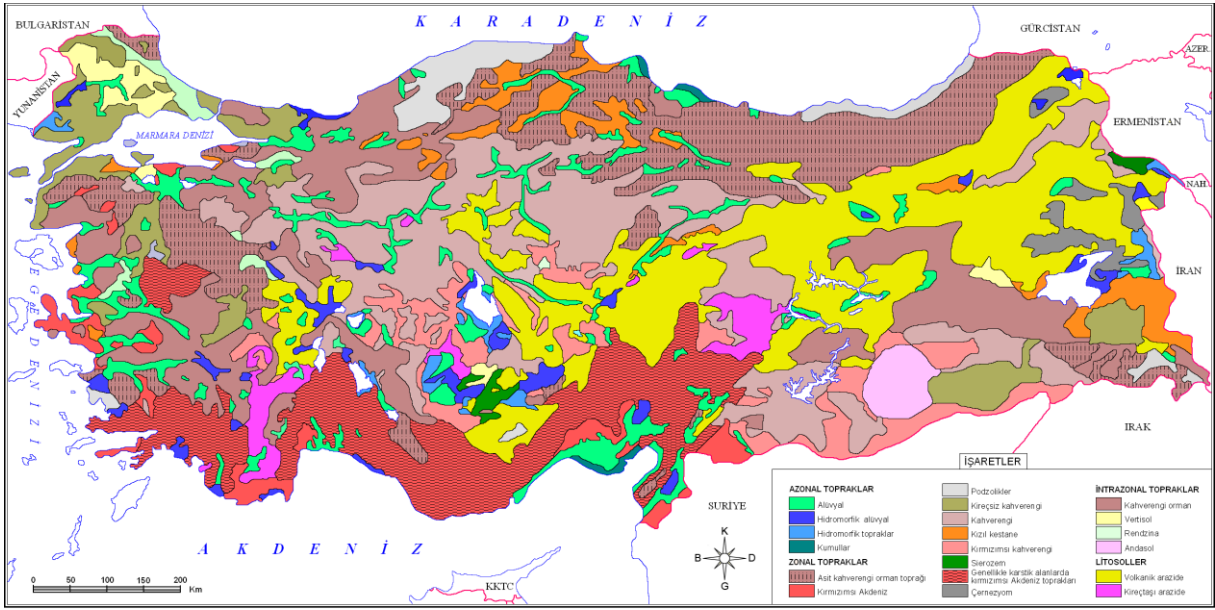


90.

**Türkiye'nin toprak özellikleriyle ilgili aşağıdakilerden hangisi doğrudur?**

- A) Karadeniz Bölgesi'nin yüksek kesimlerindeki topraklarda podzollaşma görülür.
- B) En fazla yıkanmanın olduğu topraklar iç bölgelerdeki platolardadır.
- C) Akdeniz Bölgesi'nin alçak kesimlerindeki topraklarda Terra Rossa oluşumu görülmez.
- D) Kuzeydoğu Anadolu platolarındaki topraklarda organik madde miktarı azdır.
- E) Tuz Gölü Havzası'ndaki topraklarda bitki yetişmez.

2016 Ön Lisans Kamu Personeli Seçme Sınavı

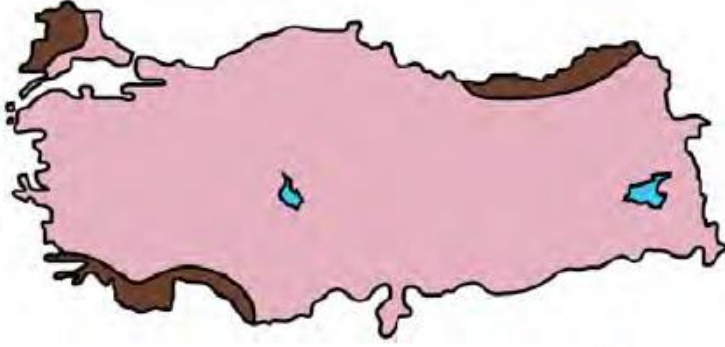


Prof. Dr. İ. c. İbrahim ATALAY'ın Toprak Öğrenim Süreçlerini ve Coğrafyası Etkinlikleri Türkiye Toprak Biliminden Yararlanarak Hazırlanmıştır.

TÜRKİYE'NİN TOPRAK HARİTASI

cogralyayharita.com 8.5AYGİZL 2008

91.

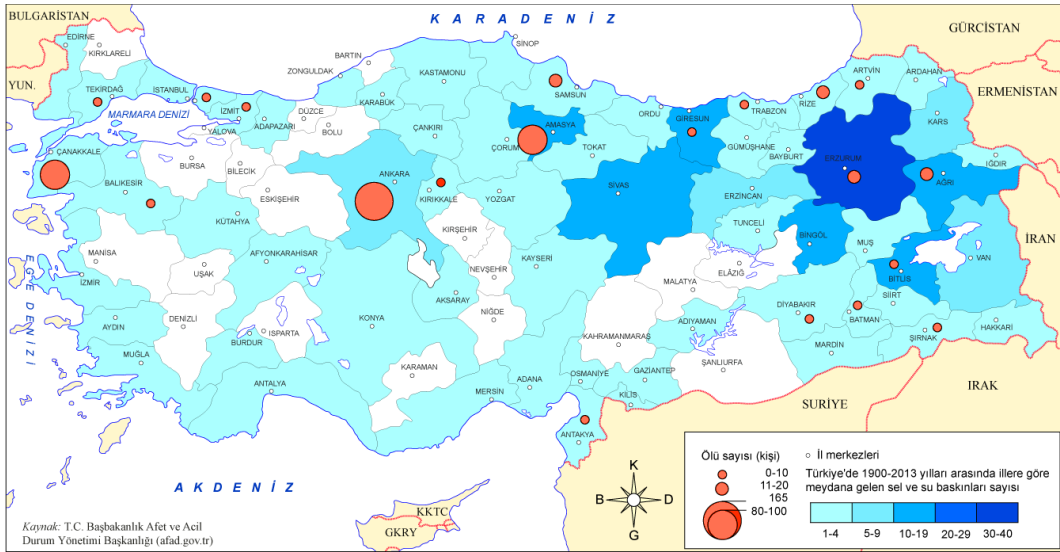


Yukarıdaki haritada bazı alanlar koyu renkle gösterilmiştir.

**Bu alanlarda aşağıdaki doğal afetlerden hangisi daha sık görülmektedir?**

- A) Sel ve taşkın  
B) Orman yangını  
C) Deprem  
D) Heyelan  
E) Çığ

2016 Orta Öğretim Kamu Personeli Seçme Sınavı

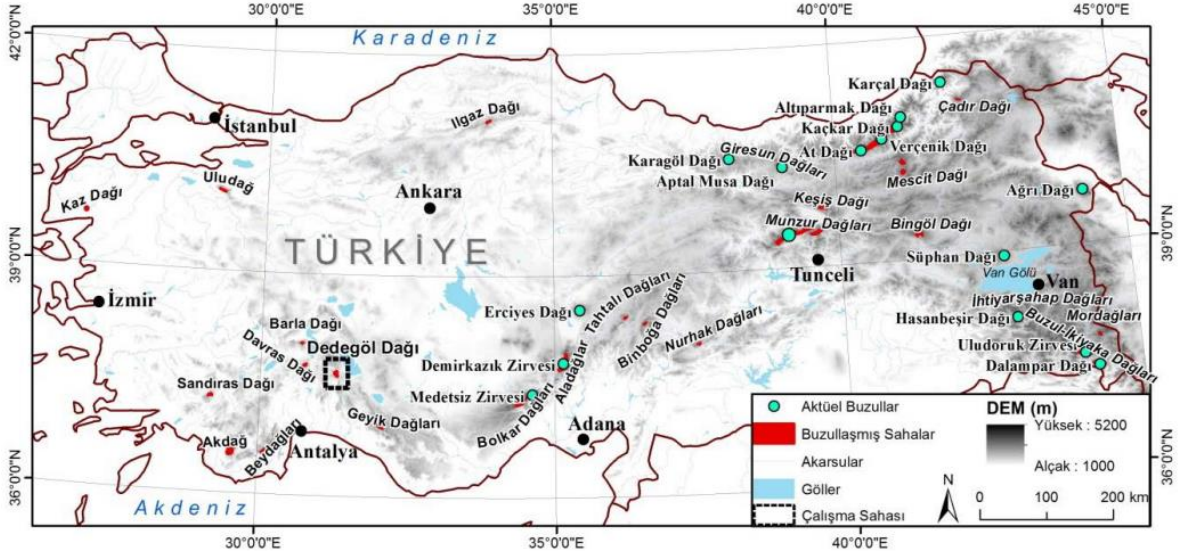


92.

**Aşağıdaki dağların hangisinde buzul aşındırması sonucunda oluşan sirk göllerine rastlanmaz?**

- A) Kaçkar      B) Mercan      C) Köroğlu  
D) Bolkar      E) Karçal

2016 Orta Öğretim Kamu Personeli Seçme Sınavı



Türkiye'nin ortalama yükseltisinin fazla olmasında etkili olan dağlar genel olarak;

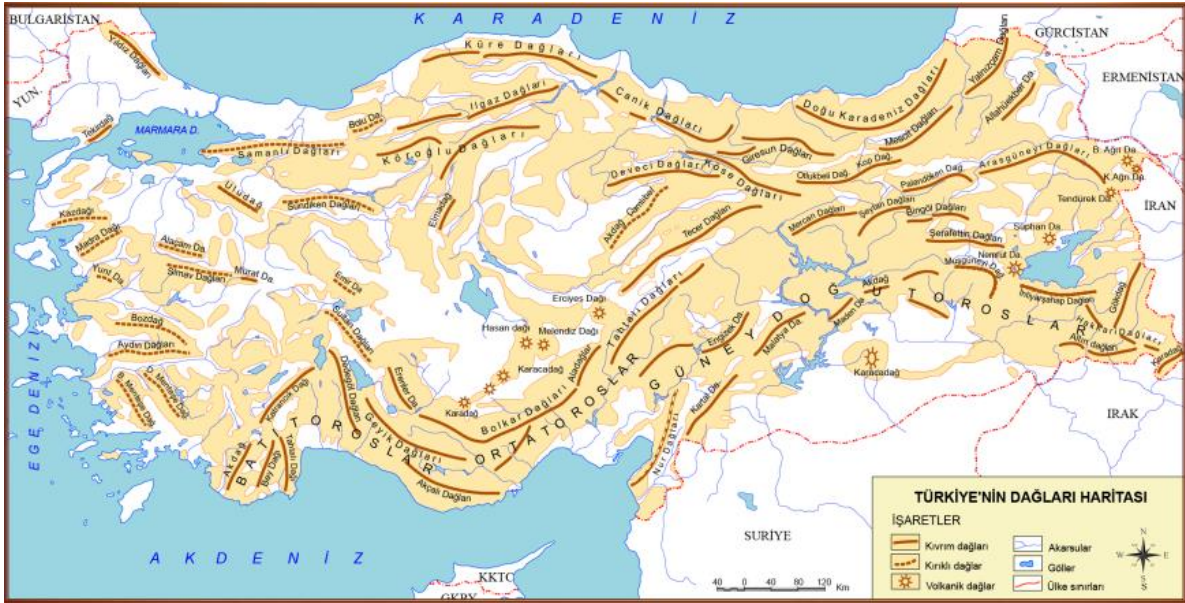
- I. kıvrılma,
- II. kırılma,
- III. volkanizma

ile meydana gelmişlerdir.

Numaralandırılan bu etmenler, aşağıdaki dağların hangilerinin oluşumunda daha fazla etkili olmuştur?

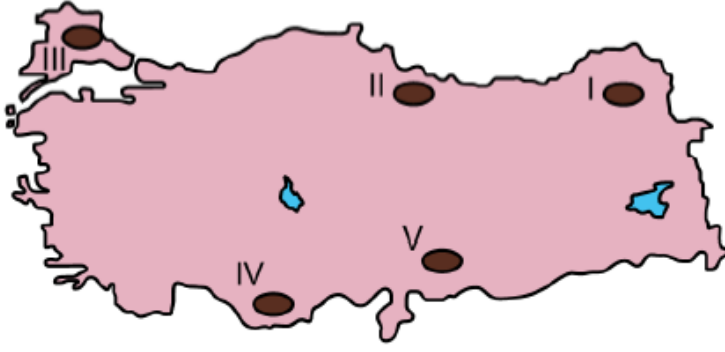
I	II	III
A) Bozdağlar	Aydın Dağları	Erciyes Dağı
B) Küre Dağları	Madra Dağı	Karacadağ
C) Yunt Dağı	Süphan Dağı	Madra Dağı
D) Aydın Dağları	Küre Dağları	Yıldız Dağları
E) Yıldız Dağları	Köroğlu Dağları	Ağrı Dağı

2016 Orta Öğretim Kamu Personeli Seçme Sınavı





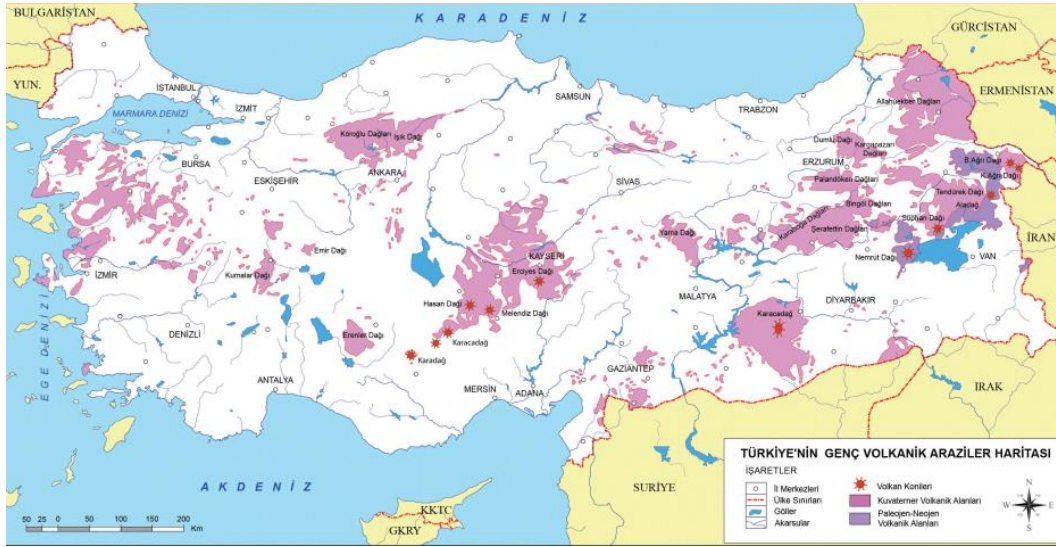
95.



**Yukarıdaki haritada numaralandırılarak gösterilen alanların hangisinde volkanik araziler yaygın olarak görülür?**

- A) I      B) II      C) III      D) IV      E) V

2017 Kamu Personeli Seçme Sınavı



96.

**Aşağıdakilerden hangisi Türkiye'deki set göllerinden biri değildir?**

- A) Büyük Çekmece Gölü      B) Köyceğiz Gölü  
C) Uzungöl                      D) Beyşehir Gölü  
E) Tortum Gölü

2017 Kamu Personeli Seçme Sınavı



© coğrafyaharita.com R. SAYGILI 2015

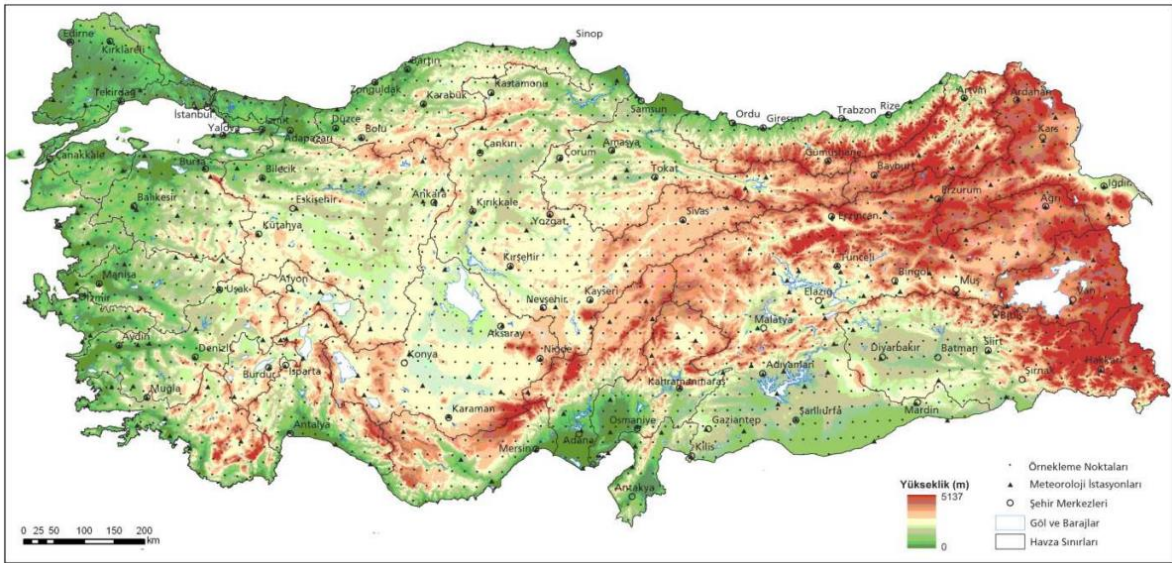
### Türkiye'de Doğu Karadeniz kıyı kuşağıyla ilgili;

- I. Yayvan yapraklı ormanlar geniş yer tutar.
- II. Yüksek ve engebeli araziler azdır.
- III. Yağışlar genellikle yağmur şeklindedir.
- IV. Akarsular menderesler yaparak akar.

### ifadelerinden hangileri doğrudur?

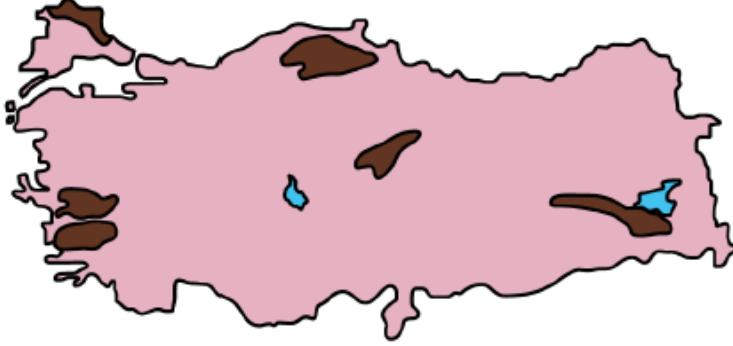
- A) I ve II      B) I ve III      C) II ve III  
D) II ve IV      E) III ve IV

2017 Kamu Personeli Seçme Sınavı



98.

Aşağıdaki haritada bazı alanlar koyu renkle gösterilmiştir.



Aşağıdakilerden hangisi bu alanlar için ortak bir özelliktir?

- A) Karstik alanlardır.
- B) Volkanik alanlardır.
- C) Yaşlı temel arazilerdir.
- D) Doğa koruma alanlarıdır.
- E) Önemli linyit havzalarıdır.

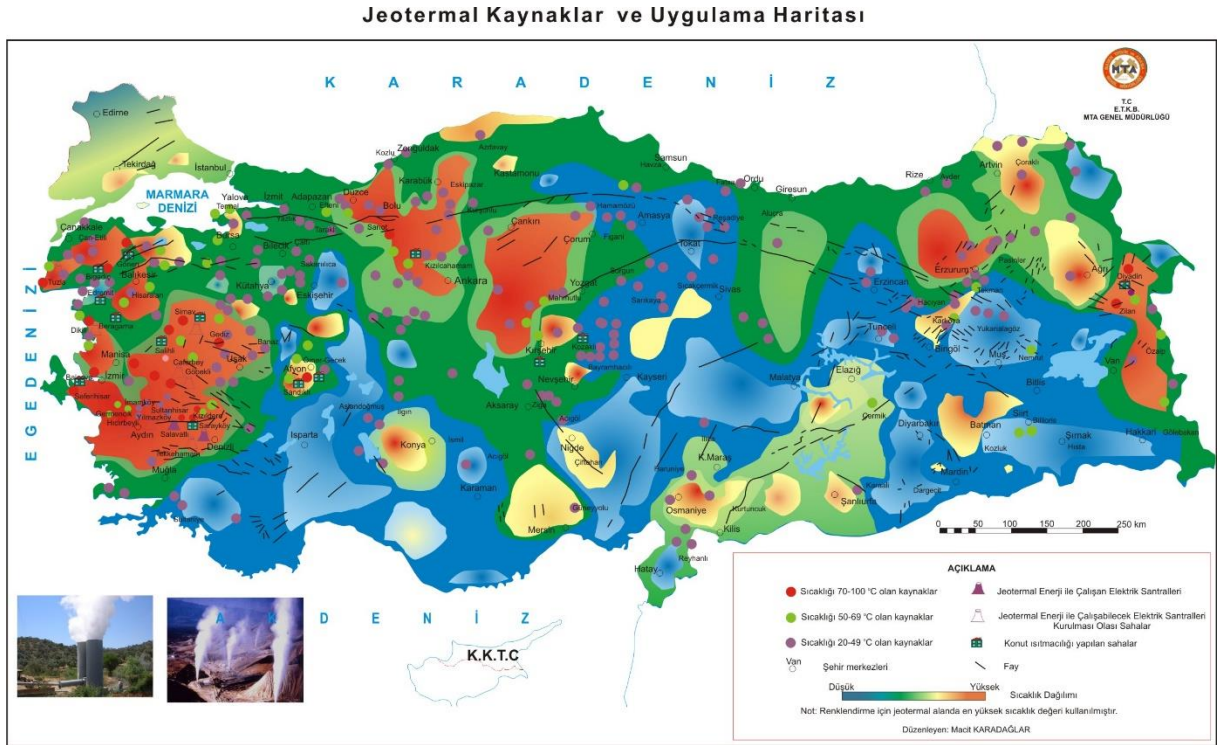
2017 Kamu Personeli Seçme Sınavı



**Aşağıdaki illerin coğrafi özellikleri dikkate alındığında hangisinde jeotermal enerji potansiyeli daha düşüktür?**

- A) Denizli      B) Çanakkale      C) Aydın  
D) Antalya      E) Manisa

2017 Kamu Personeli Seçme Sınavı



100.



Yukarıdaki haritada numaralandırılarak koyu renkle gösterilen yerlerden hangisi masif arazilerin bulunduğu alanlardan biri değildir?

- A) I      B) II      C) III      D) IV      E) V

2018 Kamu Personeli Seçme Sınavı

