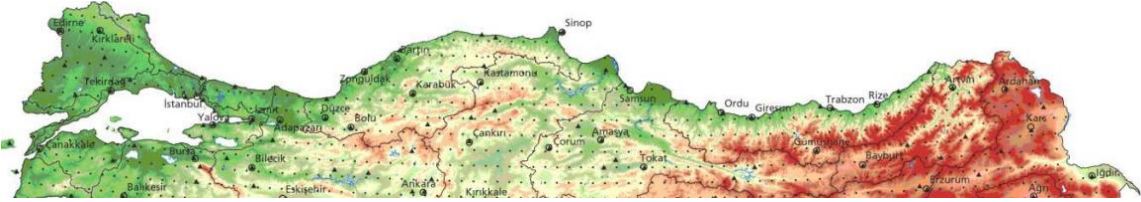
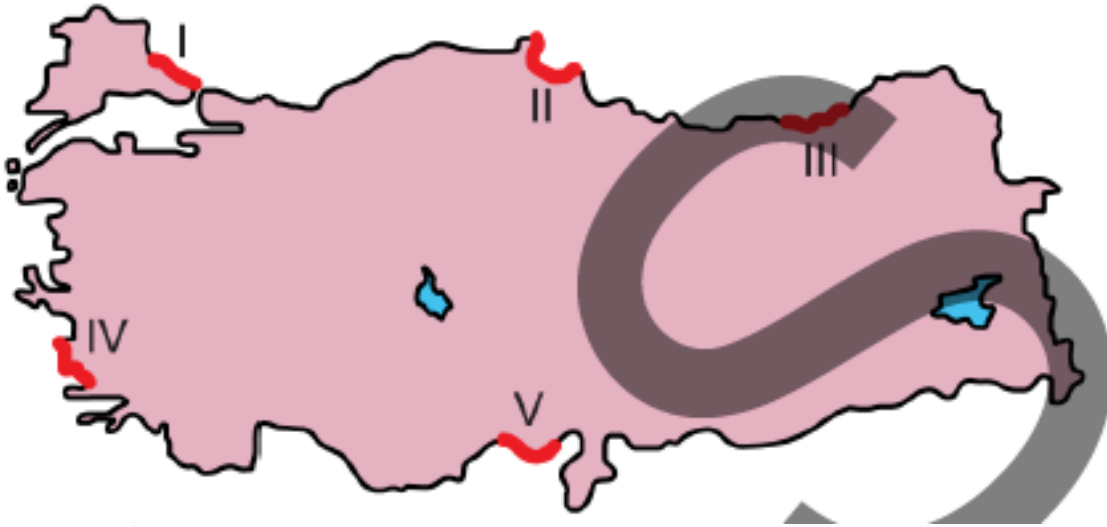


Yukarıdaki haritada numaralandırılarak ve kırmızı renkle gösterilen kıyı hatlarının hangisinde kıyı kumulları daha az görülmektedir?

- A) I B) II C) III D) IV E) V

2018 Kamu Personeli Seçme Sınavı

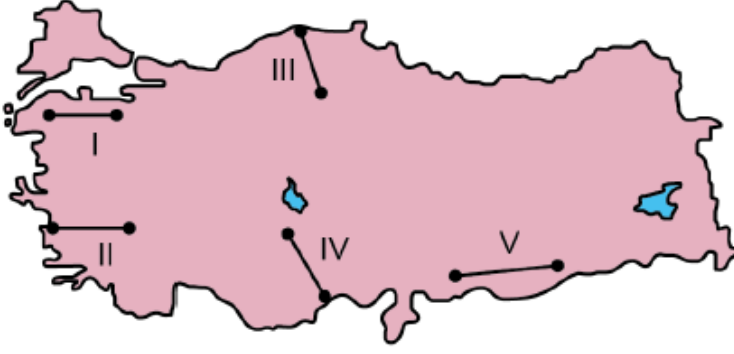


Aşağıdakilerden hangisi, Anadolu'nun iç kısımlarından kaynağını alarak kuzey veya güneydeki sıradağları aşan akarsulardan biri değildir?

- A) Kızılırmak
B) Fırat Irmağı
C) Seyhan Nehri
D) Sakarya Irmağı
E) Dalaman Çayı

2018 Kamu Personeli Seçme Sınavı





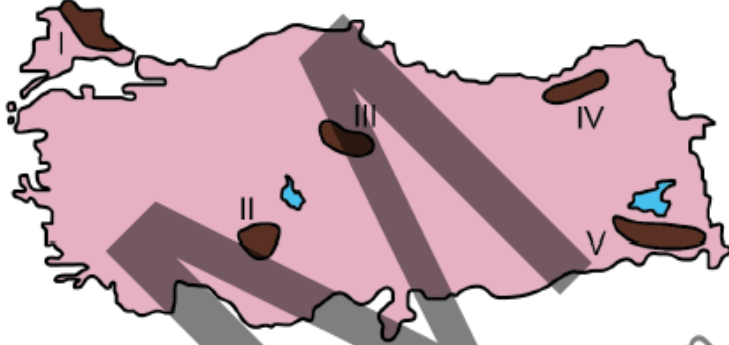
Türkiye'nin yeryüzü şekilleri ve yükselti özellikleri dikkate alındığında yukarıdaki haritada numaralandırılarak verilen doğrultuların hangisinde kara yolu ve demir yolu ulaşım maliyetlerinin daha fazla olması beklenir?

- A) I ve II B) I ve V C) II ve III
D) III ve IV E) IV ve V

2018 Kamu Personeli Seçme Sınavı



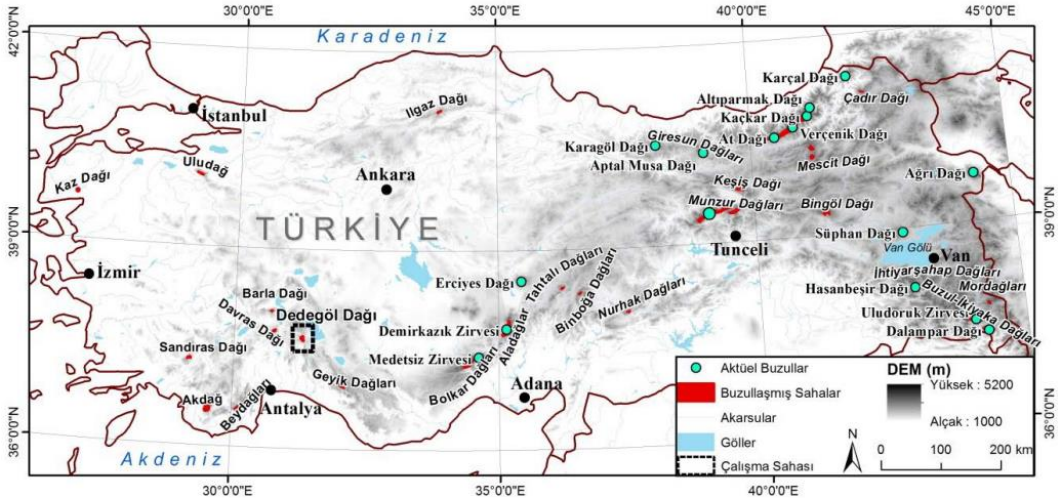
Aşağıdaki haritada bazı alanlar numaralandırılarak koyu renkle gösterilmiştir.



Bu alanların hangilerinde buzul şekillerinin daha yaygın olarak görülmesi beklenir?

- A) I ve II B) I ve III C) II ve IV
D) III ve V E) IV ve V

2018 Ön Lisans Kamu Personeli Seçme Sınavı



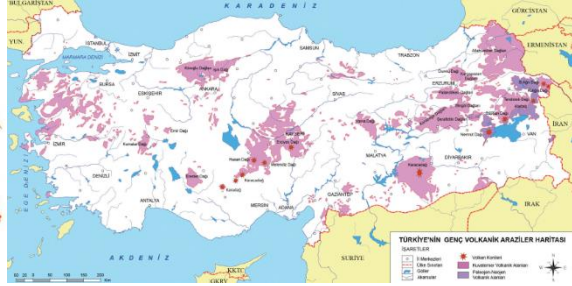
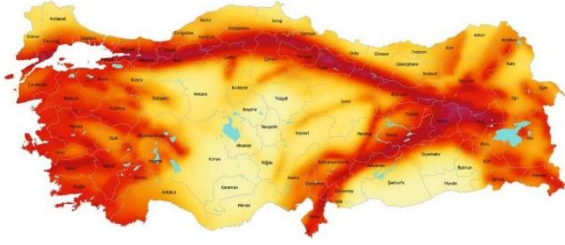
105.

- I. Anadolu'daki toprak çeşitliliği son derece fazladır.
- II. Anadolu aktif bir tektonik kuşakta yer alır.
- III. Anadolu'da çok sayıda uzun boylu akarsu yer alır.
- IV. Anadolu'da genç volkanik alanlar bulunmaktadır.

"Türkiye, termal su kaynakları bakımından zengindir."
ifadesini kullanan bir kişi, yukarıdakilerden hangilerine dayanarak bu yargıya varmıştır?

- A) I ve II B) I ve III C) II ve III
D) II ve IV E) III ve IV

2018 Ön Lisans Kamu Personeli Seçme Sınavı



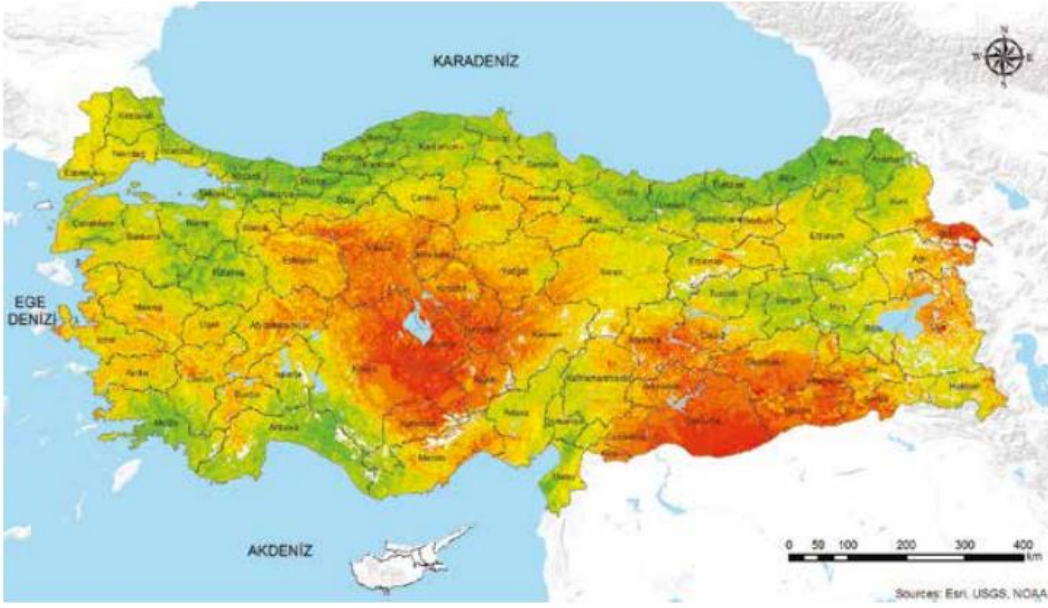
106.

Yağışın az, buharlaşmanın fazla olduđu bölgelerdeki toprakların yüzeyinde tuz ve kireç birikimleri görülür.

Bu durum, aşağıdaki yörelerin hangisinde daha fazla görülür?

- A) Bursa çevresi B) Muğla çevresi
C) Şanlıurfa çevresi D) Kars çevresi
E) Bolu çevresi

2018 Ön Lisans Kamu Personeli Seçme Sınavı



107.

Günümüzde, Türkiye-Yunanistan kara sınırının büyük çoğunluğunu aşağıdaki akarsulardan hangisi oluşturur?

- A) Asi B) Meriç C) Tunca
D) Aras E) Coruh

2018 Ön Lisans Kamu Personeli Seçme Sınavı



108.

Aşağıdaki doğa olaylarından hangisinin Türkiye’de görülme sıklığı daha azdır?

- A) Sel ve taşkın B) Çığ
C) Deprem D) Tsunami
E) Kütle hareketleri

2018 Orta Öğretim Kamu Personeli Seçme Sınavı

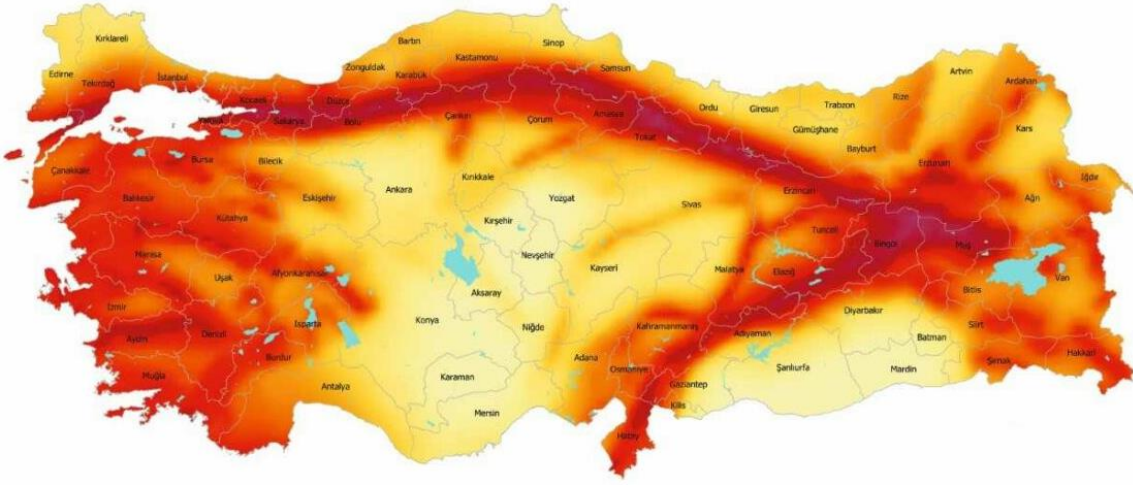
Türkiye’nin okyanuslara kıyısı bulunmaz. Bu nedenle gerçek dev tsunamilere rastlanmaz.

109.

Aşağıdakilerden hangisi, Kuzey Anadolu Fay Kuşağı'ndaki ovalardan biri değildir?

- A) Düzce Ovası B) Erzincan Ovası
C) Merzifon Ovası D) Iğdır Ovası
E) Erbaa Ovası

2018 Orta Öğretim Kamu Personeli Seçme Sınavı



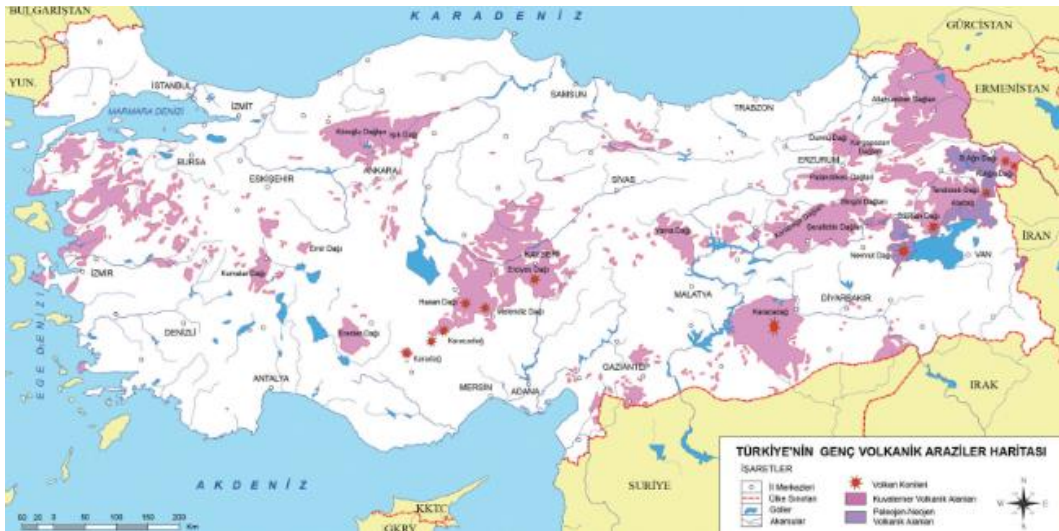
110.

- I. Ilgaz
- II. Bolkar
- III. Melendiz
- IV. Tendürek

Yukarıdaki dağlardan hangileri volkanik faaliyet sonucu oluşmuştur?

- A) I ve II B) I ve III C) II ve III
D) II ve IV E) III ve IV

2018 Orta Öğretim Kamu Personeli Seçme Sınavı



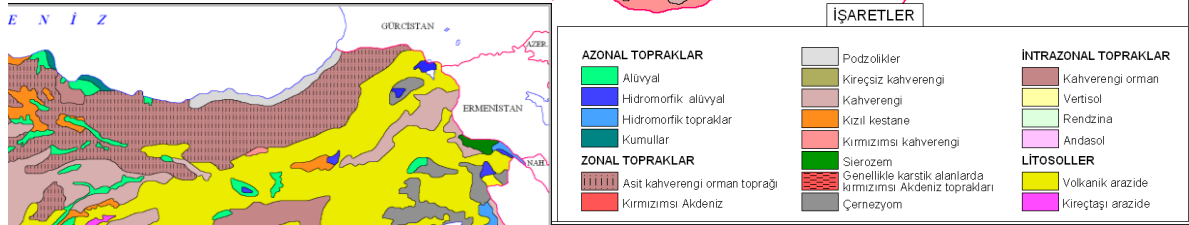
111.

Türkiye'nin bazı alanlarındaki eğimli yamaçlarda ormanlar toprağı tutar ve toprağı bol miktarda organik madde sağlar. Bu yamaçlardaki organik maddelerin ayrışmasıyla oluşan organik asitler, ayrışma olayının artmasına yardımcı olur. Ayrıca yağış miktarının fazla olması topraktaki yıkanmayı artırarak bitki besin maddelerinin bir bölümünün topraktan uzaklaşmasını sağlar. Bu süreç, asit reaksiyon gösteren organik madde yönünden zengin koyu renkli toprakların oluşmasını sağlar.

Aşağıdakilerin hangisinde bu tür toprakların yaygın olarak görülmesi beklenir?

- A) Kuzey Anadolu Dağlarının kuzeye bakan yamaçlarında
- B) Toros Dağlarının İç Anadolu'ya bakan yamaçlarında
- C) Batı Anadolu'daki dağların güney yamaçlarında
- D) Ergene Havzası'ndaki plato sahalarında
- E) Orta Anadolu'nun Tuz Gölü ve çevresindeki alçak sahalarında

2019 Kamu Personeli Seçme Sınavı



112.

Aşağıdaki haritada Türkiye kıyılarına ait üç yer numaralandırılarak gösterilmiştir.



Bu yerlerin kıta sahanlıkları, genişten daraya doğru aşağıdakilerin hangisinde sırasıyla verilmiştir?

A) I, II, III

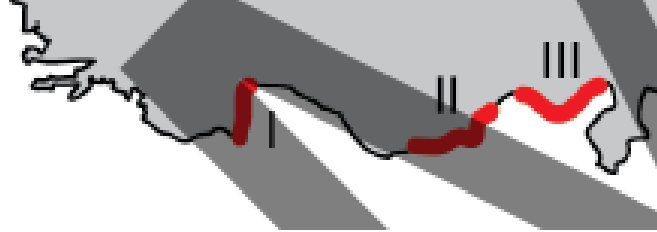
B) II, I, III

C) II, III, I

D) III, I, II

E) III, II, I

2019 Kamu Personeli Seçme Sınavı



113.

Türkiye’de;

- I. tektonik hareketler sonucunda oluşan çöküntü alanlarında gelişen,
- II. akarsuların taşıdığı alüvyonların deniz kıyısında birikmesiyle oluşan,
- III. kireç taşının çözünmesi sonucunda başlıca karstik süreçlerle şekillenen

ovalar yaygın olarak görülmektedir.

Buna göre I, II ve III numaralı süreçlere bağlı gelişen ovalara ait örnekler aşağıdakilerin hangisinde doğru olarak verilmiştir?

- | I | II | III |
|-------------------|----------------|----------------|
| A) Suluova | Çarşamba Ovası | Elmalı Ovası |
| B) Erzincan Ovası | Niksar Ovası | Antalya Ovası |
| C) Silifke Ovası | Bafra Ovası | Tefenni Ovası |
| D) Niksar Ovası | Elmalı Ovası | Çarşamba Ovası |
| E) Tefenni Ovası | Suluova | Düzce Ovası |

2019 Kamu Personeli Seçme Sınavı



114.

- I. İstanbul ve Çanakkale Boğazları
- II. Kuzey Anadolu ve Toros dağları
- III. Çukurova, Bafra ve Çarşamba deltaları

Yukarıdakilerden hangilerinin oluşumunda orojenik hareketler etkili olmuştur?

- A) Yalnız I
- B) Yalnız II
- C) Yalnız III
- D) I ve II
- E) II ve III

2020 Kamu Personeli Seçme Sınavı



115. Volkanik faaliyet sonucu yüzeye çıkan lavlardan oluşan arazinin akarsular tarafından aşındırılmasıyla lav platoları oluşur.

Aşağıdaki platolardan hangisi bu tür oluşum özelliğine sahiptir?

- A) Çatalca-Kocaeli
- B) Cihanbeyli
- C) Haymana
- D) Taşeli
- E) Erzurum-Kars

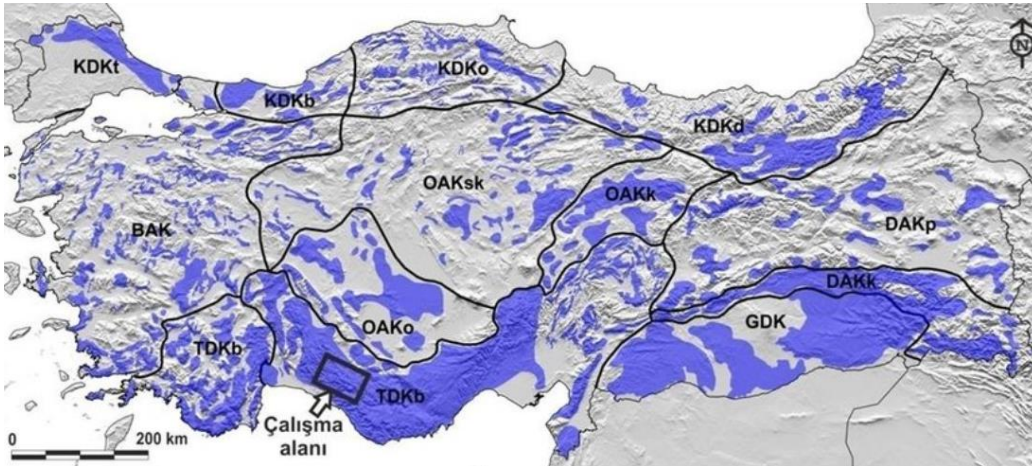
2020 Kamu Personeli Seçme Sınavı



116. Aşağıdaki illerin hangisinde jips karstına ait yer şekilleri daha yaygındır?

- A) Yozgat
- B) Diyarbakır
- C) Giresun
- D) Kastamonu
- E) Sivas

2020 Kamu Personeli Seçme Sınavı



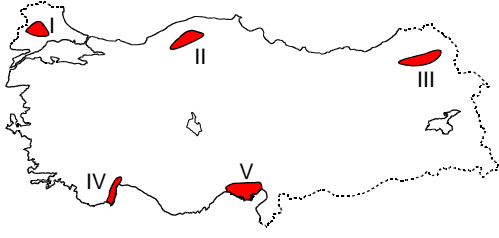
117. Türkiye'nin Karadeniz kıyı kuşağında, dağınık yerleşmeye neden olan faktörlerle ilgili aşağıdakilerden hangisi söylenemez?

- A) Su kaynakların fazla ve yaygın olması
- B) Eğim değerlerinin yüksek olması
- C) Platoların geniş yer kaplaması
- D) Arazinin akarsularla parçalanmış olması
- E) Dağlık ve engebeli arazi yapısı

2020 Kamu Personeli Seçme Sınavı



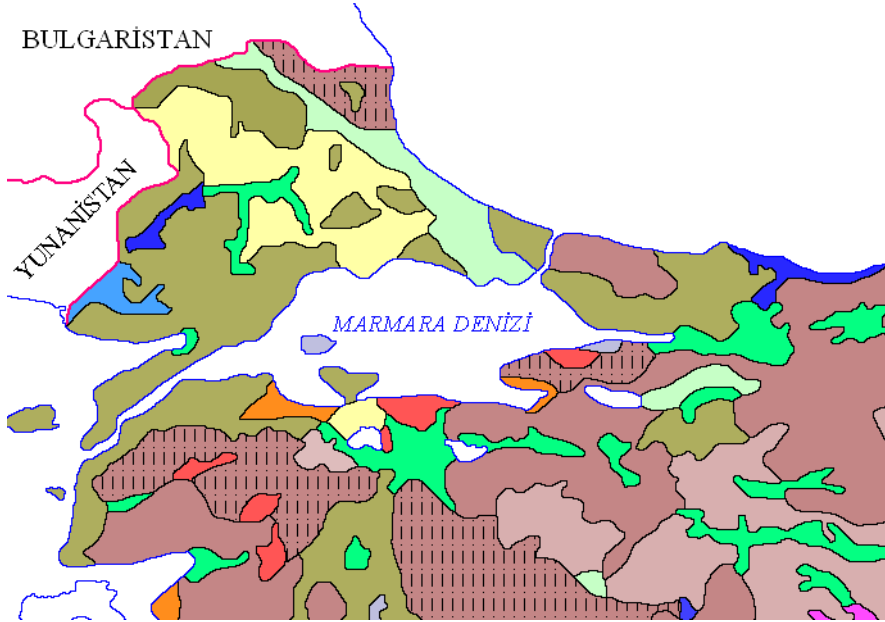
118. Türkiye'de kepir veya taş doğuran toprak olarak da bilinen vertisoller sınırlı alanlarda görülür.



Haritada numaralandırılan alanlardan hangisi bu toprakların yaygın olarak görüldüğü yerler arasında bulunur?

- A) I B) II C) III D) IV E) V

2020 Kamu Personeli Seçme Sınavı



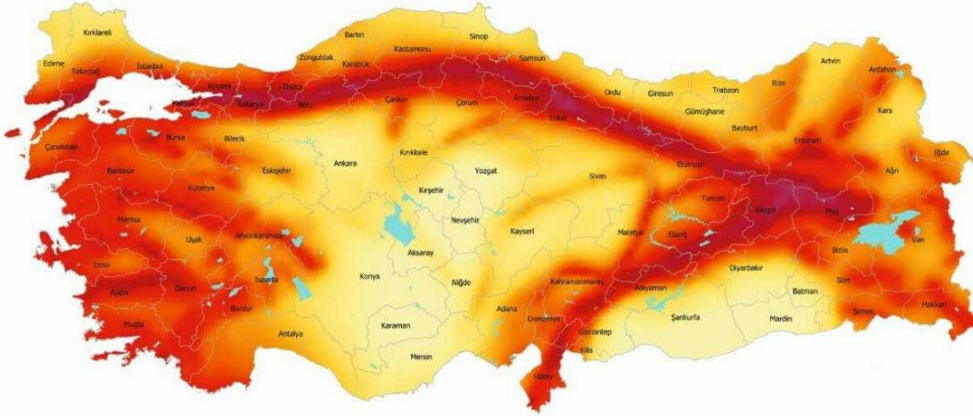
119.

- I. Bafa Gölü
- II. Tuz Gölü
- III. Tortum Gölü
- IV. İznik Gölü

Yukarıdaki göllerden hangileri tektonik hareketler sonucu meydana gelmiştir?

- A) I ve II
- B) I ve III
- C) II ve III
- D) II ve IV
- E) III ve IV

2020 Ön Lisans Kamu Personeli Seçme Sınavı



120.

Suyla temas ettiğinde çözünebilen jips, tuz, kireç taşı gibi kayaların bulunduğu sahalarda karstik yerşekilleri oluşur. Karstik yerşekilleri Türkiye’de de bazı sahalarda yaygın olarak görülür.



Haritada numaralandırılan alanların hangisinde bu yerşekillerine daha fazla rastlanır?

- A) I B) II C) III D) IV E) V

2020 Ön Lisans Kamu Personeli Seçme Sınavı

