

121.

- I. Acıgöl Maarı
- II. Bafra Deltası
- III. Ergene Ovası
- IV. Kapıdağ Tombolosu

Yukarıdaki yerşekillerinden hangilerinin oluşumunda akarsuların etkisi vardır?

- A) I ve II B) I ve III C) II ve III
D) II ve IV E) III ve IV

2020 Ön Lisans Kamu Personeli Seçme Sınavı



122.

Aşağıdaki haritada bazı akarsular numaralandırılarak gösterilmiştir.



Bu akarsular aşağıdakilerin hangisinde doğru olarak verilmiştir?

I	II	III
A) Sakarya	Kızılırmak	Göksu
B) Susurluk	Kızılırmak	Seyhan
C) Sakarya	Yeşilırmak	Göksu
D) Filyos	Yeşilırmak	Seyhan
E) Sakarya	Filyos	Susurluk

2020 Ön Lisans Kamu Personeli Seçme Sınavı



123.

Türkiye'de aşağıdaki kıyı tiplerinden hangisi görülmez?

A) Ria tipi kıyı

B) Haliçli kıyı

C) Kalanklı kıyı

D) Dalmaçya tipi kıyı

E) Fiyortlu kıyı

ların telif ha,
hiçbi

2020 Ön Lisans Kamu Personeli Seçme Sınavı



125.

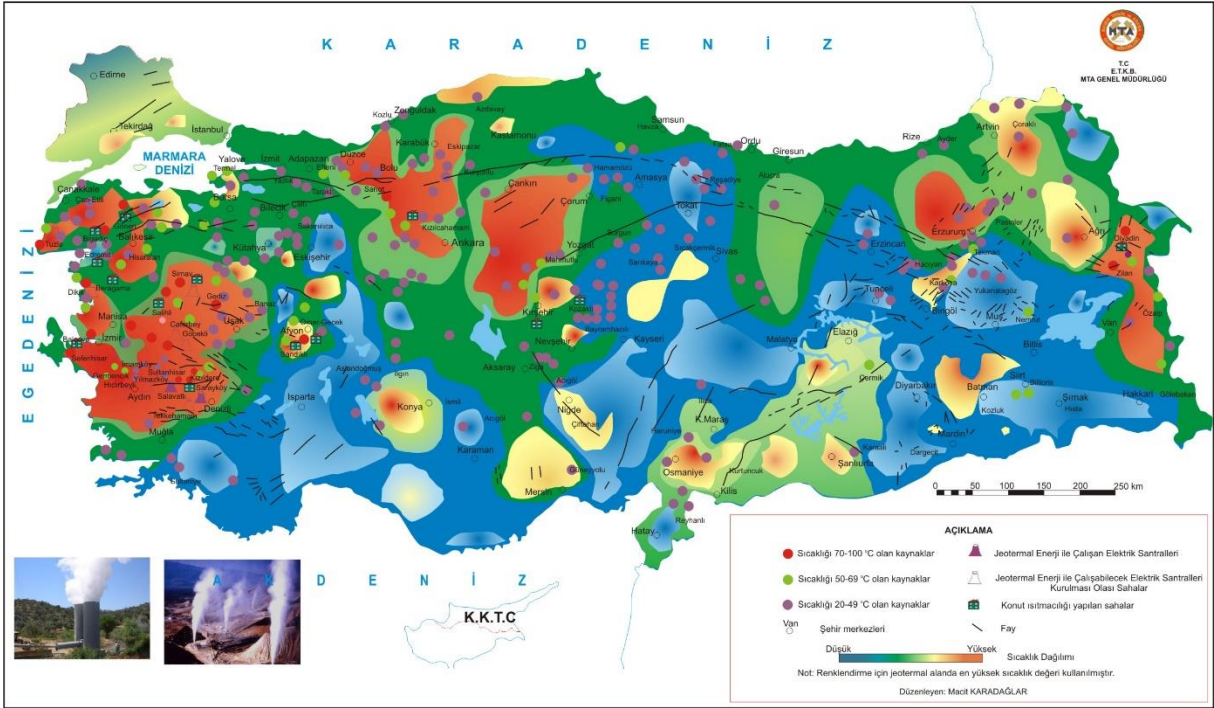
Türkiye’de jeotermal kaynaklardan çıkan buhar, elektrik üretiminde kullanılabilir. Jeotermal kaynaklardaki sıcaklık arttıkça elektrik üretim potansiyeli de artmaktadır.

Aşağıdaki illerin hangisinde, bu potansiyel daha fazladır?

- A) Denizli B) Ankara C) Konya
D) Yalova E) Samsun

2020 Ön Lisans Kamu Personeli Seçme Sınavı

Jeotermal Kaynaklar ve Uygulama Haritası



126.

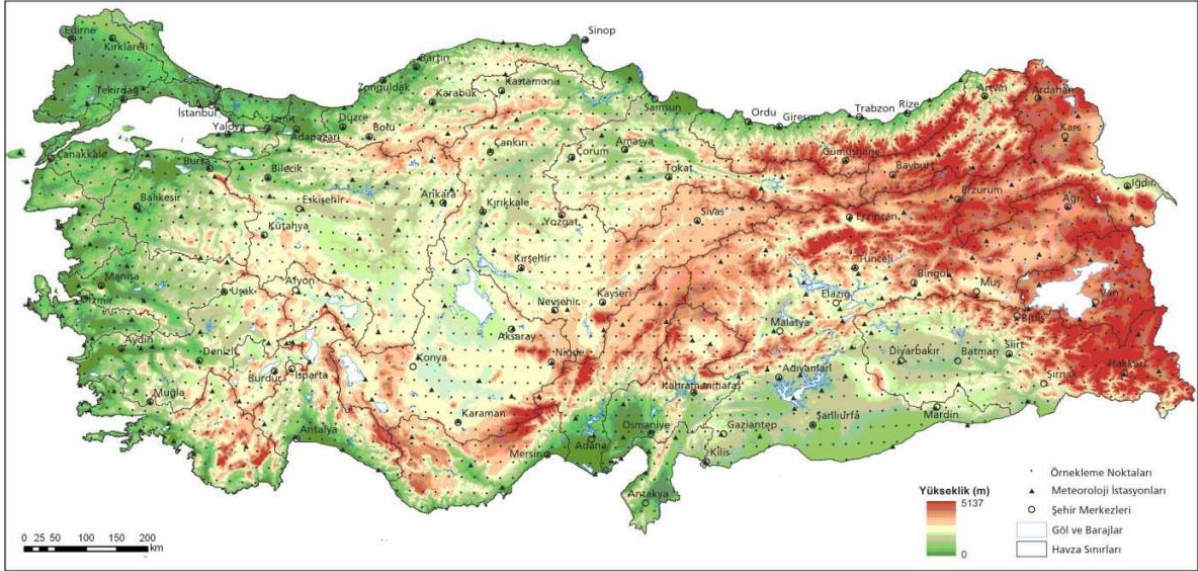
Tarımda makineleşme ile birlikte Türkiye'de tarımsal alanlar hızla genişlemiş ve üretimde önemli artışlar yaşanmıştır. Ancak ülkenin topoğrafik yapısına bağlı olarak bazı alanların engebeli ve eğimli olması tarımda makinelerin kullanımını oldukça zorlaştırmıştır.



Haritada numaralandırılan alanların hangilerinde bu zorluk daha fazla yaşanmaktadır?

- A) I ve II B) I ve III C) II ve III
D) III ve IV E) IV ve V

2020 Ön Lisans Kamu Personeli Seçme Sınavı



127.

Platolar, geniş düzlüklerin akarsular tarafından derin bir şekilde yarılarak parçalanması sonucu oluşmuşlardır. Türkiye’de platolara daha çok Orta Anadolu Bölgesi’nde rastlanır.

Aşağıdakilerden hangisi bu bölgede yer alan platolardan biri değildir?

- A) Obruk Platosu B) Bozok Platosu
C) Taşeli Platosu D) Haymana Platosu
E) Uzunyayla Platosu

2020 Orta Öğretim Kamu Personeli Seçme Sınavı



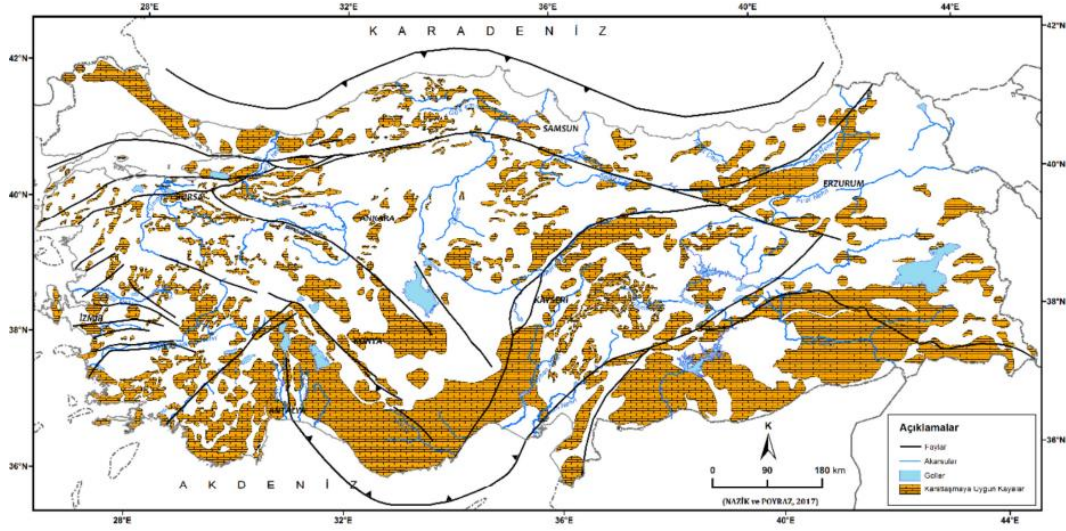
128.

- I. Bazı doğal göllerin kurumması
- II. Peribacası oluşumu
- III. Çökme obruklarının sayıca artması

Yukarıdakilerden hangileri Türkiye’de insanlar tarafından doğal kaynaklar üzerinde gerçekleşen baskının artması sonucunda ortaya çıkmıştır?

- A) Yalnız I B) Yalnız II C) Yalnız III
D) I ve III E) II ve III

2020 Orta Öğretim Kamu Personeli Seçme Sınavı



129.

Türkiye’de en geniş alanı şekillendiren dış kuvvet aşağıdakilerden hangisidir?

A) Akarsular

B) Buzullar

C) Rüzgârlar

D) Dalgalar

E) Kütle hareketleri

2020 Orta Öğretim Kamu Personeli Seçme Sınavı



130.

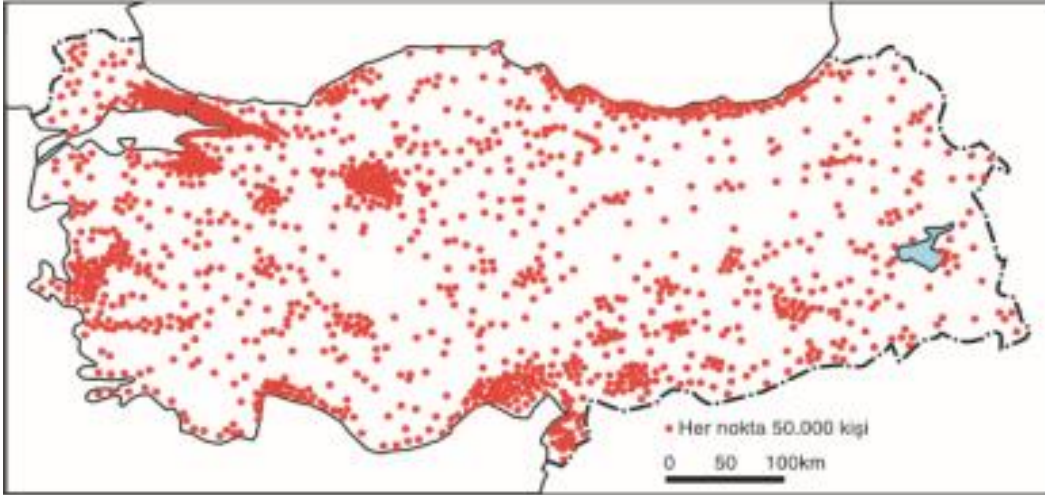
Türkiye'de nüfusun az olduğu alanlara bakıldığında yüksek, eğimli, engebeli ve dağlık alanlar dikkat çekmektedir.



Yukarıdaki haritada numaralandırılarak gösterilen yerlerden hangisi bu duruma örnek gösterilebilir?

- A) I B) II C) III D) IV E) V

2020 Orta Öğretim Kamu Personeli Seçme Sınavı



131.

Türkiye'de geniş yer kaplayan platolarda en fazla yapılan ekonomik faaliyet tarım ve hayvancılıktır.

Aşağıdaki platolardan hangisi bu özelliğin dışında kalmaktadır?

- A) Erzurum - Kars - Ardahan
- B) Gaziantep
- C) Çatalca - Kocaeli
- D) Uzunyayla
- E) Haymana

2020 Orta Öğretim Kamu Personeli Seçme Sınavı



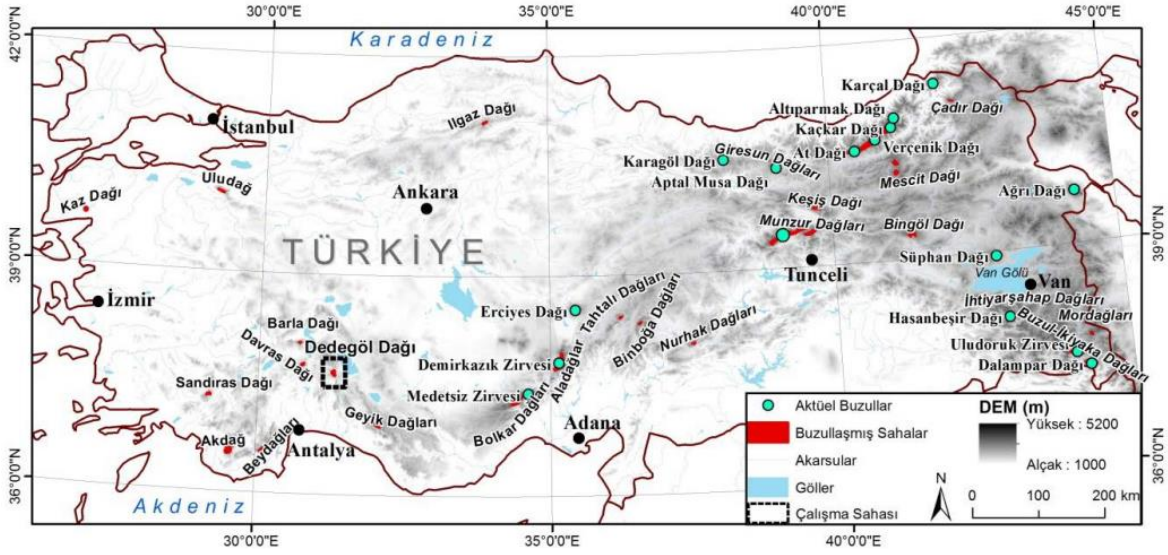
132. Türkiye'nin bazı yüksek dağlarında buzul aşındırması ve biriktirmesi sonucunda oluşmuş yer şekillerine yaygın olarak rastlanır.



Haritada numaralandırılan yerlerin hangilerinde bu yer şekilleri daha fazla görülür?

- A) I ve II B) II ve III C) IV ve V
D) IV ve V E) III ve I

2021 Kamu Personeli Seçme Sınavı



133.

- I. Tektonik hareketler
- II. Volkanik faaliyetler
- III. Kimyasal ayrışma
- IV. Kayaç türü

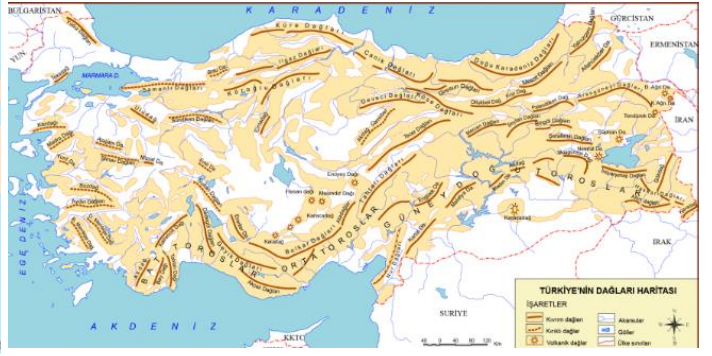
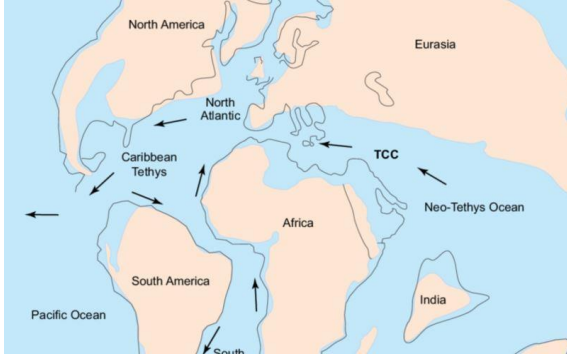
Türkiye’de dağların geniş alanlar kaplamasında yukarıdakilerin hangileri daha fazla etkili olmuştur?

A) I ve II B) I ve III C) II ve III

D) II ve IV E) III ve IV

2021 Kamu Personeli Seçme Sınavı

70 Milyon yıl önce



134. Vejetasyon dönemi, bitkilerin uykularından uyandıkları ve yaşam faaliyetlerini gerçekleştirdikleri dönemdir. Sıcaklıklar belli bir eşiği aştığında vejetasyon dönemi başlamakta, bu eşiğin altına düştüğünde ise sona ermektedir.

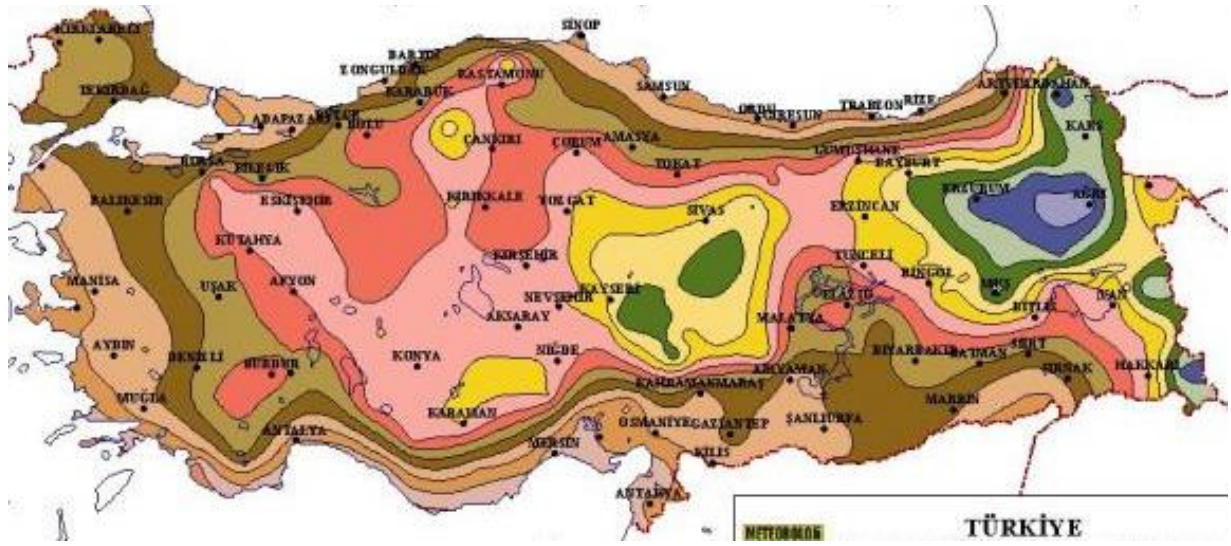
Aşağıdaki platoların hangisinde vejetasyon dönemi daha kısadır?

A) Cihanbeyli B) Şanlıurfa

C) Erzurum – Kars D) Kırşehir

E) Çatalca – Kocaeli

2021 Kamu Personeli Seçme Sınavı



135.

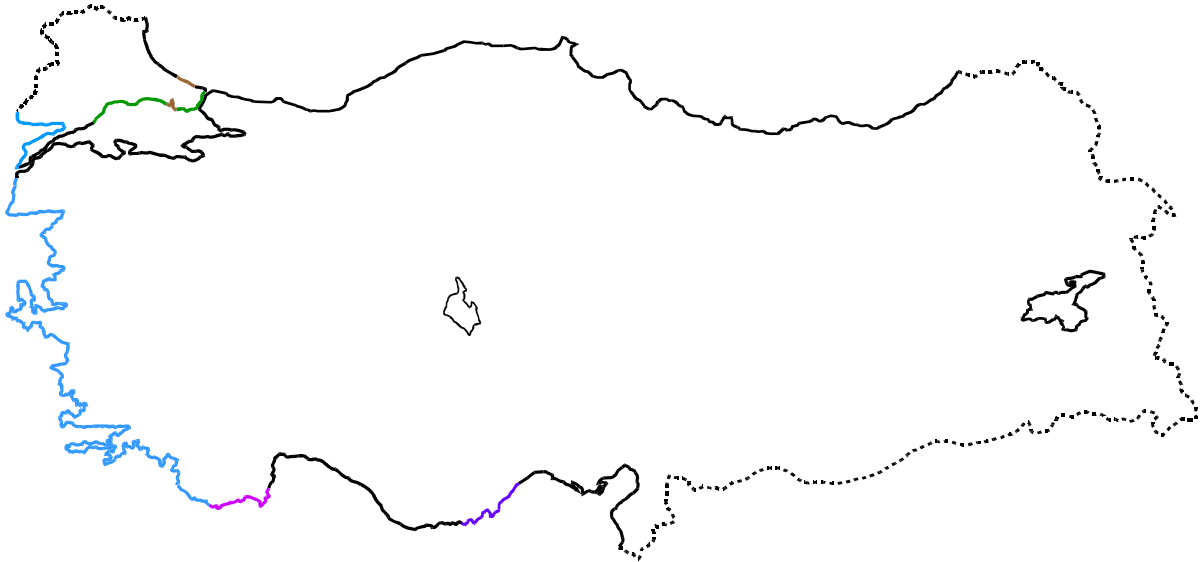
Aşağıdaki haritada bazı alanlar numaralandırılarak gösterilmiştir.



Bu alanların hangisinde Dalmaçya tipi kıyılar görülmektedir?

A) I B) II C) III D) IV E) V

2021 Kamu Personeli Seçme Sınavı



- | | |
|---|---|
| <input type="checkbox"/> Boyuna kıyılar | <input type="checkbox"/> Dalmaçya tipi kıyılar |
| <input type="checkbox"/> Enine kıyılar | <input type="checkbox"/> Lagünlü kıyılar(kahverengi renkli) |
| <input type="checkbox"/> Ria tipi kıyılar(yeşil renkli) | <input type="checkbox"/> Kalanklı kıyılar |

136. Kurak ve yarı kurak bölgelerdeki kapalı havzaların tabanlarında sığ göller oluşmaktadır. Yağışlı dönemlerde bu göllerin alanları genişlemekte ve derinliği artmaktadır. Şiddetli kurak dönemlerde ise göller tamamen kuruyabilmektedir. Kendine has ekosistemlere sahip olan bu göller, aynı zamanda önemli sulak alanlardır.

Aşağıdaki göllerden hangisi bu türden bir oluşum gösterir?

- A. Seyfe (Kırşehir)
- B. Abant (Bolu)
- C. Tortum (Erzurum)
- D. Büyük Çekmece (İstanbul)
- E. Eğirdir (Isparta)

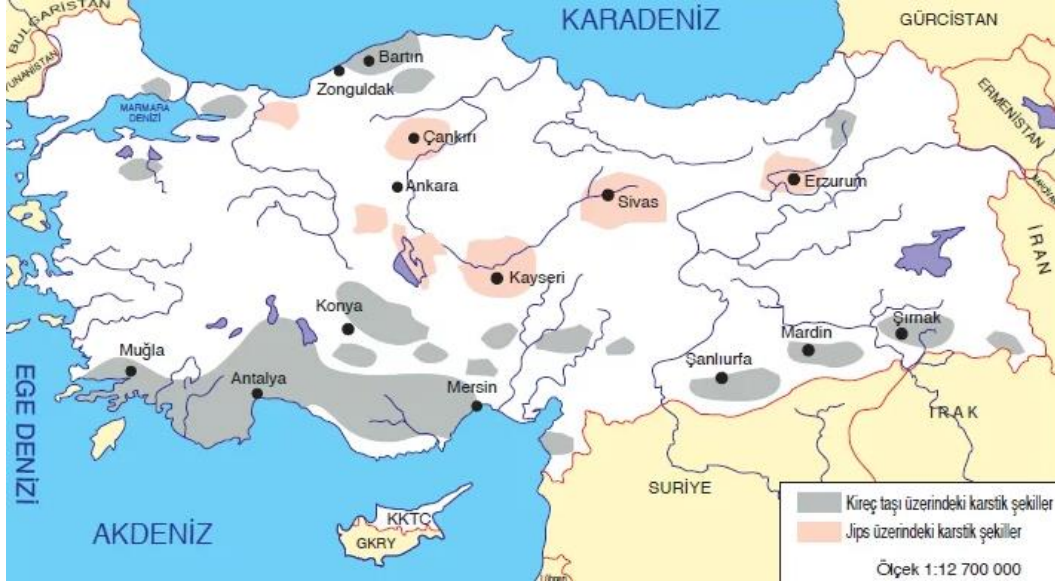
2021 Kamu Personeli Seçme Sınavı



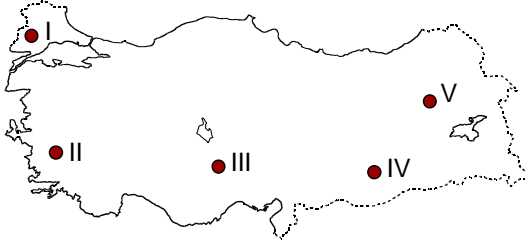
137. Türkiye’de yer alan aşağıdaki göllerden hangisi karstik oluşumlu göller arasında yer alır?

- A) Hızır B) Sapanca C) Abant D) Ulubat E) Hafik

2022 Kamu Personeli Seçme Sınavı



138. Türkiye’de bazı alanların numaralandırılarak gösterildiği bir harita üzerindeki yerlerde, doğal afetlere neden olan faktörler verilmiştir.

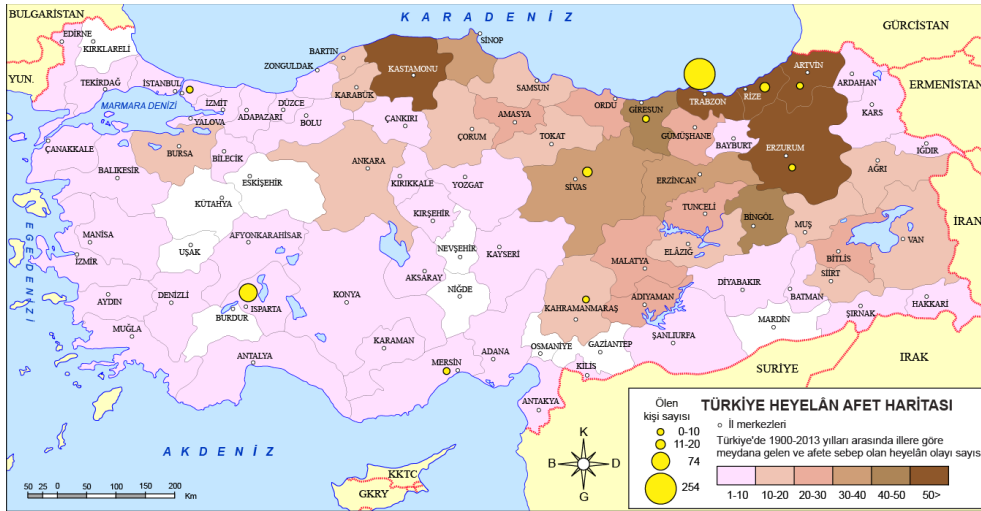


- Jeolojik yapı
- Arazinin eğimli olması
- Toprağın suya doygun olması
- Yamaç dengesinin bozulması

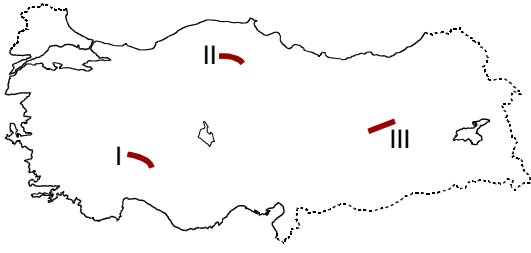
Yukarıda verilen etkenlerin ortaya çıkmasında etkili olduğu doğal afet, haritada numaralandırılarak gösterilen yerlerden hangisinde daha fazla yaşanır?

A) I B) II C) III D) IV E) V

2022 Kamu Personeli Seçme Sınavı



139. Türkiye haritası üzerinde dağ sıralarının bulunduğu bazı alanlar numaralandırılarak gösterilmiştir.



Harita üzerinde numaralandırılarak gösterilen dağ sıraları aşağıdakilerden hangisinde doğru olarak verilmiştir?

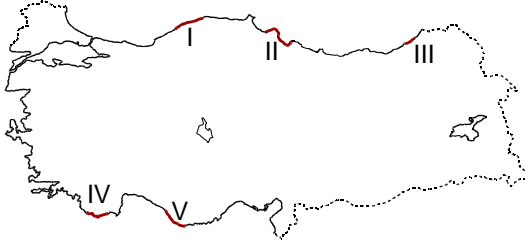
I II III

- | | | |
|-----------|--------|--------|
| A. Sultan | Ilgaz | Mercan |
| B. Ilgaz | Mercan | Sultan |
| C. Sultan | Mercan | Ilgaz |
| D. Mercan | Sultan | Ilgaz |
| E. Mercan | Ilgaz | Sultan |

2022 Kamu Personeli Seçme Sınavı



140. Dalga aşınım şekillerinden falezlere, ülkemiz kıyılarında sıklıkla rastlanmaktadır.



Türkiye haritası üzerinde kırmızı renkle gösterilen kıyı kuşaklarından hangisi yukarıdaki açıklamaya uymaz?

- A) I B) II C) III D) IV E) V

2022 Kamu Personeli Seçme Sınavı



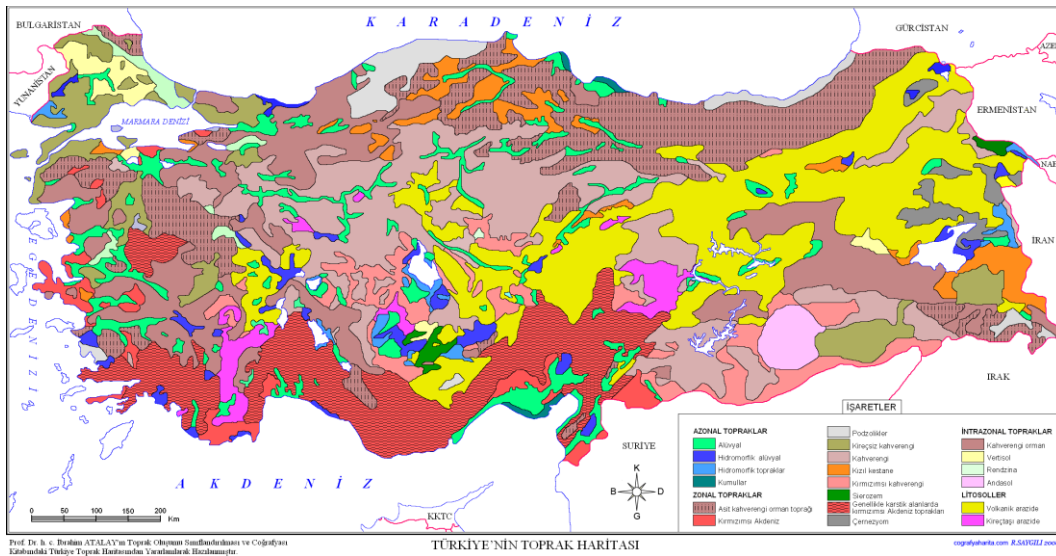
141. Ülkemizdeki toprak türleriyle ilgili olarak;

- I. Kıydan iç kesimlerde bozkır bitki örtüsünün altında kahve ve kestane renkli topraklar yaygın olarak görülür.
- II. Toros Dağları'nın denize bakan yamaçlarında iğne yapraklı ağaçların oluşturduğu orman örtüsünün altında podzollara rastlanır.
- III. Ülkemizin kuzeydoğusunda yer alan yüksek platolarda bulunan çayır/arı altında zengin humus oranına sahip çernozyomlara rastlanmaktadır.
- IV. Vertisol türü topraklara ülkemizde taş doğuran veya kara kepir adı verilir. Bu tip topraklar Karadeniz kıyı kuşağında yaygın olarak görülür.

ifadelerinden hangileri doğrudur?

- A) I ve II B) I ve III C) II ve III D) II ve IV E) III ve IV

2022 Kamu Personeli Seçme Sınavı



142. Türkiye'nin jeolojik gelişimine damgasını vuran bu en önemli dönemde güneyde Toros Dağları, kuzeyde Kuzey Anadolu Dağları ortaya çıkmıştır. Bu sayede Anadolu'nun iç kesimlerinde büyük sığ göller ortaya çıkmıştır. Bu sığ göl ve bataklıklarda biriken bitki örtüsü artıkları zamanla linyit yataklarının ortaya çıkmasına yol açmıştır. Örneğin Soma, Yatağan, Elbistan gibi linyit yatakları bunlardan bazılarıdır.

Yukarıda anlatılan olaylar aşağıda verilen jeolojik dönemlerin hangisinde gerçekleşmiştir?

- A) Prekambriyen B) Paleozoik C) Mesozoik D) Tersiyer E) Kuvaterner

2022 Kamu Personeli Seçme Sınavı

